

Привет
Счастлив
Выцветшим



Устный счёт.

$$308 \text{ см} = 3 \text{ м } 8 \text{ см}$$

$$45 \text{ мм} = 4 \text{ см } 5 \text{ мм}$$

$$3 \text{ м } 70 \text{ см} = 370 \text{ см}$$

$$15 \text{ дм } 8 \text{ см} = 158 \text{ см}$$





Сколько в числах

десятков

сотен

170 - 17 дес.

700 - 7 сот.

540 - 54 дес.



200 - 2 сот.

810 - 81 дес.

300 - 3 сот.

600 - 60 дес.

900 - 9 сот.



Сколькими единицами
образованы

Молодцы!

23 д

д

1 сотня - 100 единиц




$300+200=500$

$800-600=200$

$120-50=70$

$300-60=240$

$70+80=150$




Прочитайте
об этом в
учебнике на
стр.54.

$900-400=500, \text{ т.к.}$

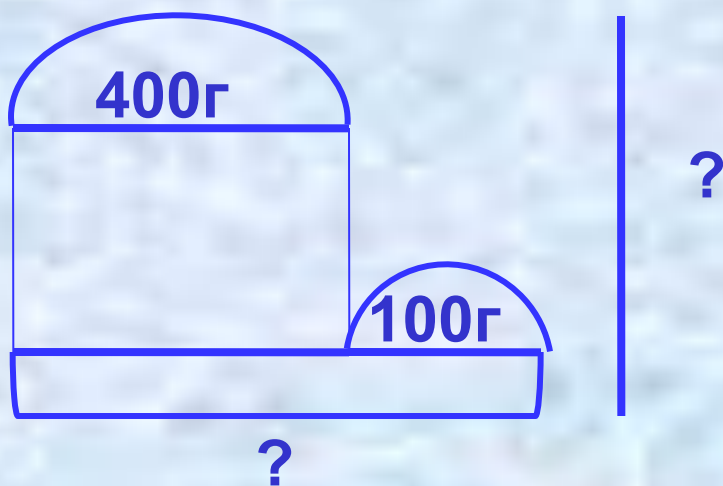
$9\text{сот.}-4\text{сот.}=5\text{сот.}$





**Чтобы
закрепить
полученные
знания давайте
выполним №1
на стр.54.**

Помогите Незнайке решить задачу №2 на стр.54!



1. $400 + 100 = 500(\text{г})$ – масса масла.
2. $500 + 400 = 900(\text{г})$ – масса покупки.

Ответ: масса покупки 900г.



Дана фигура.

Найдите её
площадь!

Молодцы!

Спасибо за
помощь!!!

6м




$$S = a * b$$

$$S = 12 * 6 = 72(\text{м}^2)$$

$$S = 4 * 4 = 16(\text{м}^2)$$

$$72 - 16 = 56(\text{м}^2)$$



**Выполним № 6 на
стр.54.**

**Спасибо за
урок!
До скорой
встречи!!!**



**Домашнее задание:
стр.54 №5.**

