

# *1 «Ә» сынып Математика*

*Тақырыбы: «4 санын қосу және азайту»*

**Жолдасова С**



# Психологиялық дайындық

*Оқып, білім аламыз,  
Біз көңілді баламыз.  
Математика пәнінде,  
Тапқыр, алғыр боламыз*



## *Логикалық сұрақ*

- 1. Бес бұтақты ағашта,  
Бұтақ сайын бір алма.  
Біреуін берсең Асанға  
Қалады сонда неше алма?**

**(4 алма қалады)**

**2. Аулада бес тауық**

**Қорада үш тауық**

**Бір тауық тығылды**

**Бір тауық жығылды**

**Тұрып қалды нешеуі?**

**(6 тауық тұр)**

**3. Бір тауық екі аяқпен тұрғанда 5кг тартады. Бір аяқпен тұрғанда неше кг тартады?**

**(5кг)**

**4. 10кг тас ауырма, әлде 10кг мақта ауырма?**

**(тең, екеуі бірдей)**

**5. Екі адам 4 сағат жол жүрді. Олардың әрқайсысы неше сағат жол жүреді?**

**(4 сағат)**



# Жаңа сабақ

## 4 санын қосу және азайту



**4 мезгіл**

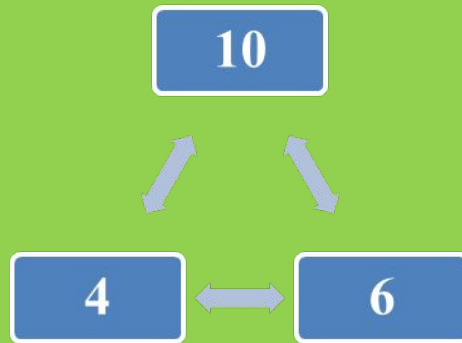
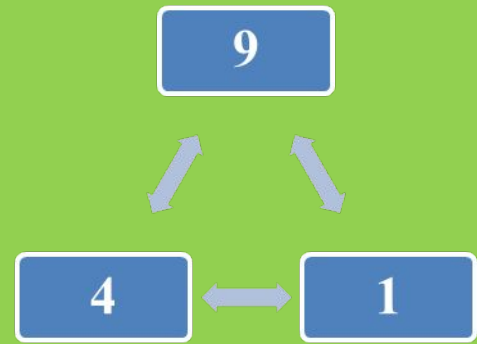
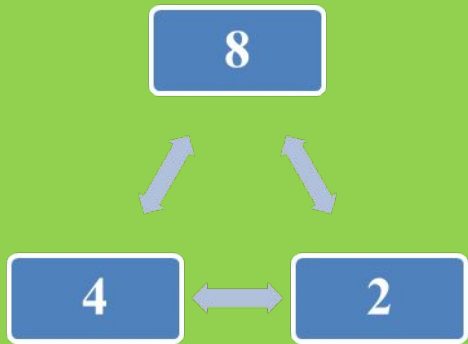
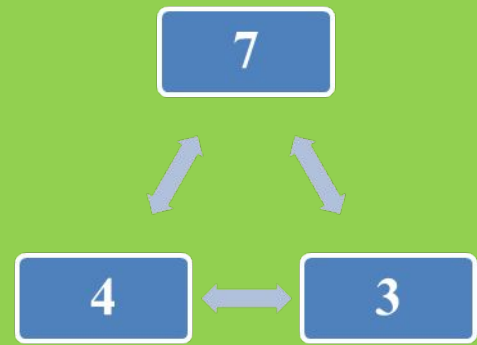
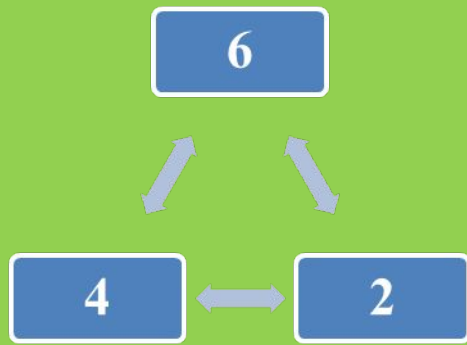
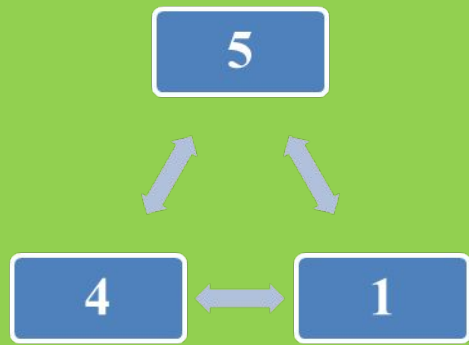
**4 құбла**

**4түлік**



**4 тоқсан**

**4 бұрыш**











# Суретпен жұмыс









## «Кел ойнайық!»

$2 + 4 =$

$3 + 3 =$

$5 + 5 =$

$6 + 4 =$

$10 - 2 =$

$10 - 1 =$

$10 - 3 =$

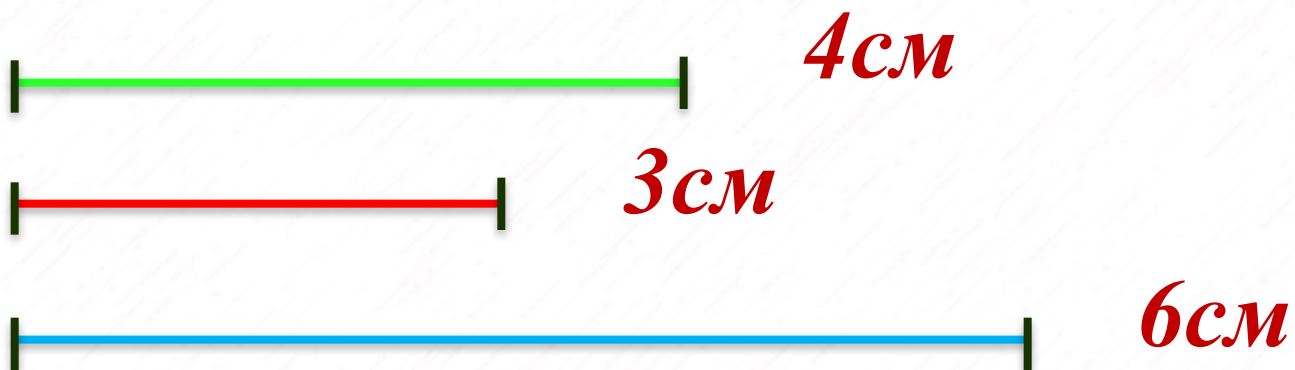
$10 - 4 =$

$7 + 3 =$

$6 + 2 =$

$2 + 8 =$

$5 + 4 =$



$$4\text{ см} + 3\text{ см} > 6\text{ см}$$

$$7\text{ см} > 6\text{ см}$$



*Үйге тапсырма*

*Бағалау*



*Тыңдағандарыңызға  
рахмет!!!*

