

МАТЕМАТИЧЕСКАЯ РАЗМИНКА

«КОРАБЛИК»



*Комельских Ирина Павловна,
учитель начальных классов
МБОУ «СОШ № 3»
г. Верхняя Салда,
Свердловская область*

Дорогой друг!

Тебе предстоит трудная работа в клубе «Ума палата». Не раз нужно будет «пошевелить мозгами», чтобы верно ответить на все предложенные вопросы.

Ответив на вопрос, нажимайте на кнопку с предложенными вариантами ответов. **а**

Ты сможешь проверить своё решение, нажав на кнопку **Проверь себя**

Чтобы перейти на следующее задание, нажимайте на кнопку 

Желаю 



Корабль перевозит груз в ящиках.
На каждом ящике написан его вес в килограммах.

Сколько килограммов вместе весят ящики желтого цвета?



8

9

10

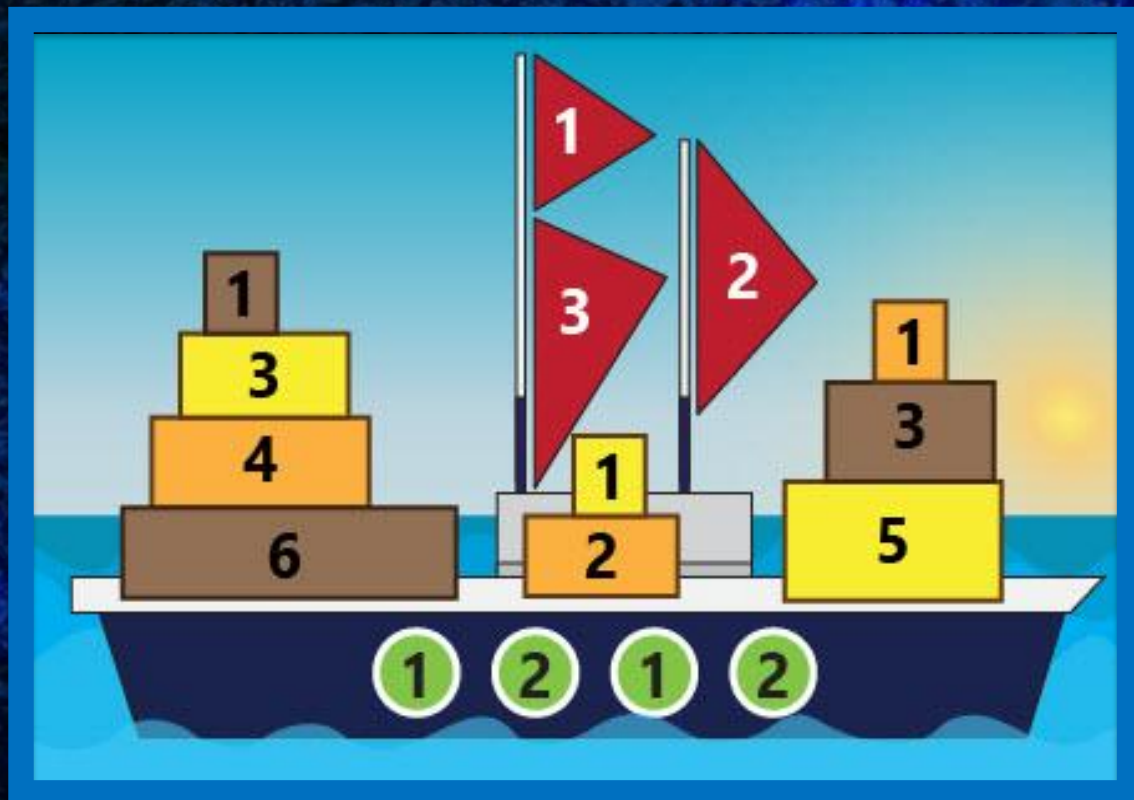
6

$$3+1+5=9$$

Проверь
себя



Корабль перевозит груз в ящиках. На каждом ящике написан его вес в килограммах. **Какого цвета самый тяжёлый ящик?**



коричневог
о


жёлтого

красного

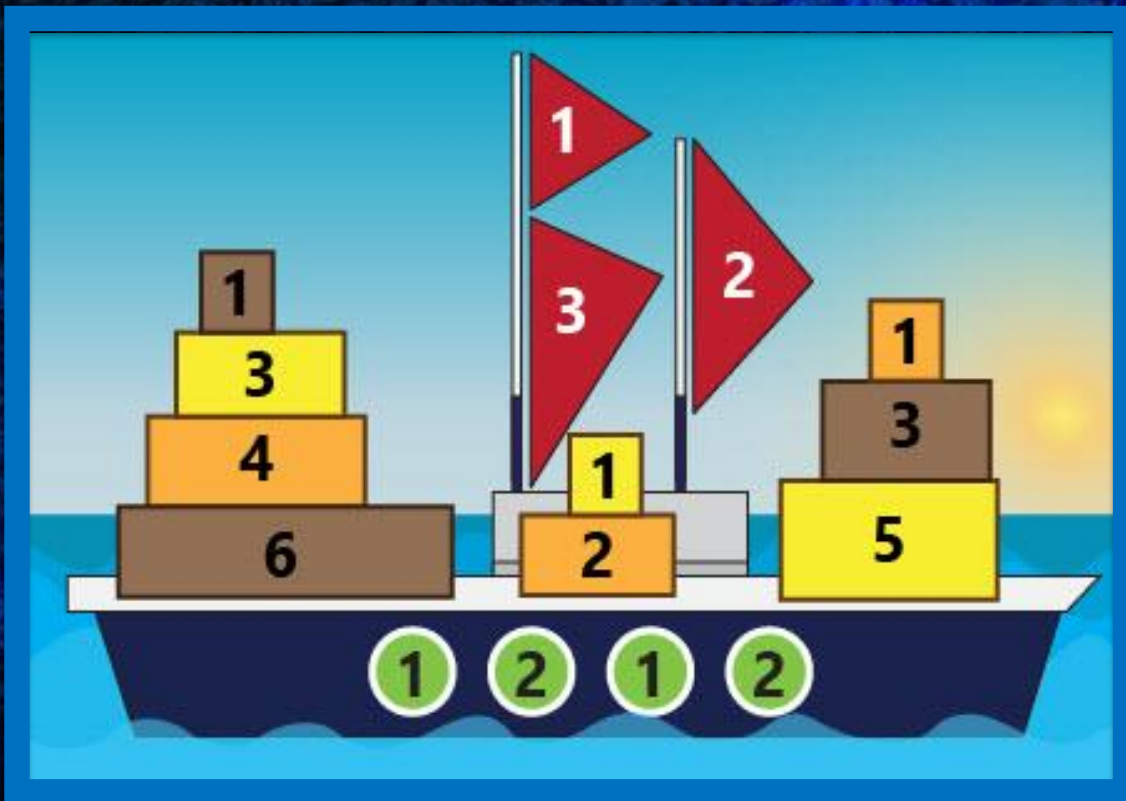
оранжевог
о

6 кг тяжелее
всех

Проверь
себя



Корабль перевозит груз в ящиках. На каждом ящике написан его вес в килограммах. **Какого цвета самый длинный ящик?**



жёлтого

красного

оранжевого

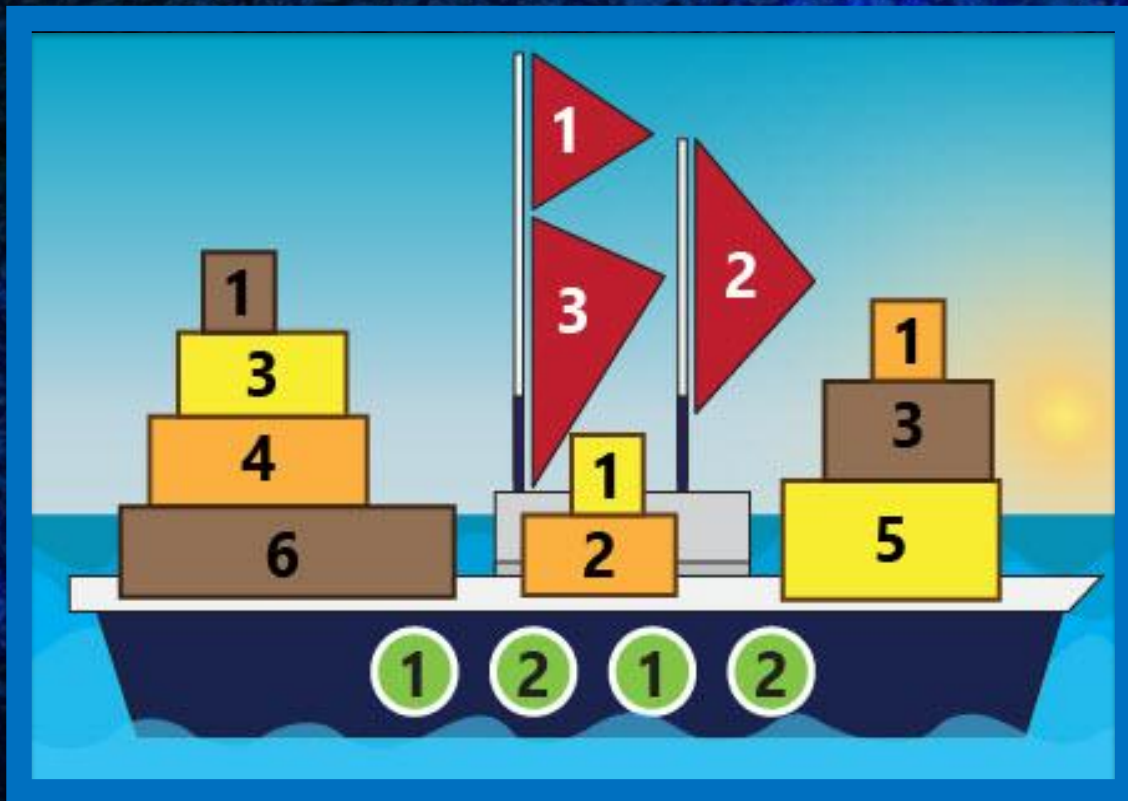
коричневого

**Проверь
себя**

**Ящик с цифрой 6 самый
длинный**



На корабле на каждом зеленом кружочке написано количество пассажиров в каюте. **Сколько всего пассажиров в каюте?**



7

8

5

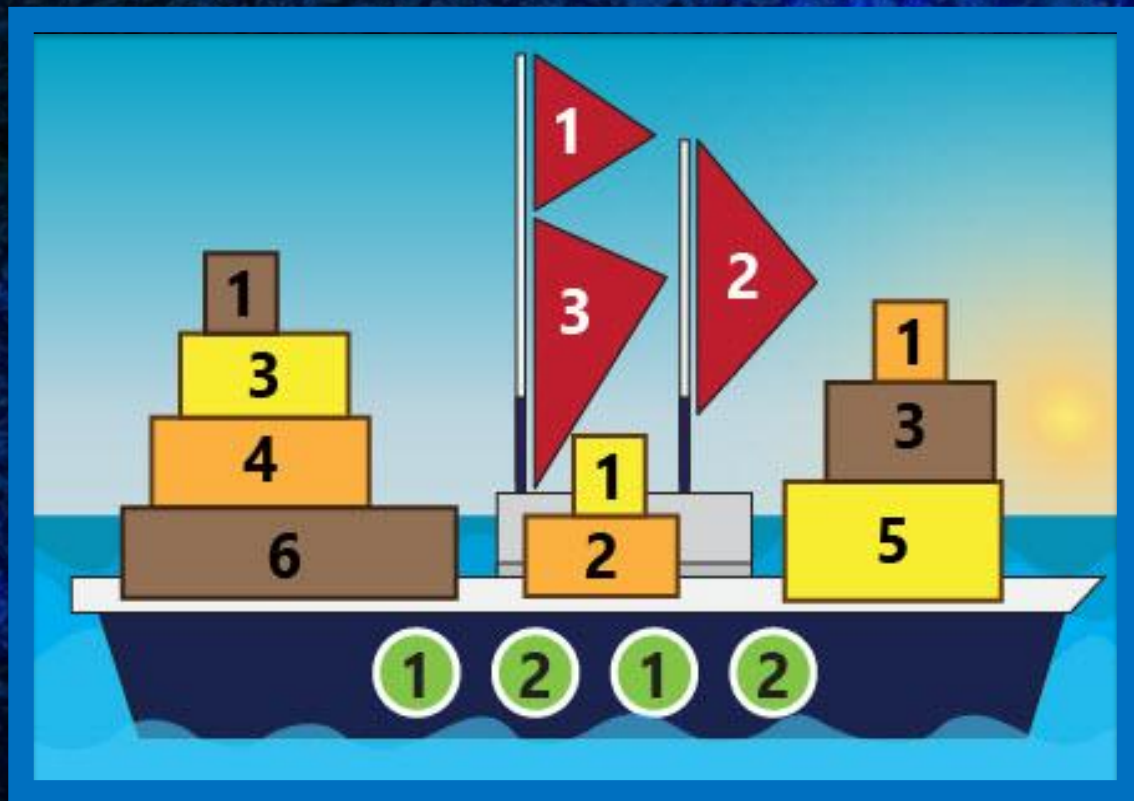
6

$$1+2+1+2=6$$

Проверь себя



На каждый парус корабля пошло определенное количество метров. Сколько всего метров пошло на пошив парусов?



5


6

7

8

$$1+3+2=6$$

Проверь
себя



Корабль перевозит груз в ящиках.
На каждом ящике написан его вес в
килограммах. В ящиках какого
цвета перевозят большее
количество груза?



красного

жёлтого

коричневог

о

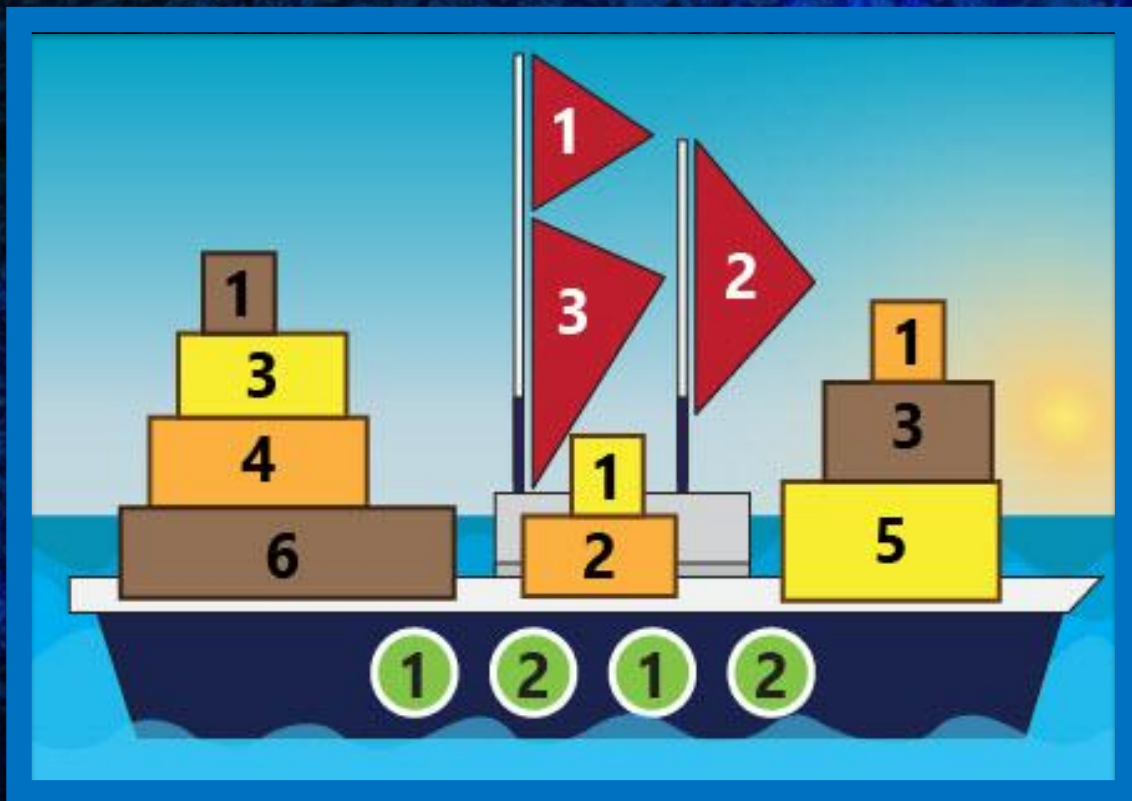
оранжевого

$1+6+3=10$ кг - коричневый
 $3+1+5=9$ кг - жёлтый
 $4+2+1=7$ кг - оранжевый

Проверь
себя



Корабль перевозит груз в ящиках.
На каждом ящике написан его вес в килограммах.
В каком ряду количество груза самое большое?



1


2

3

Одинаков

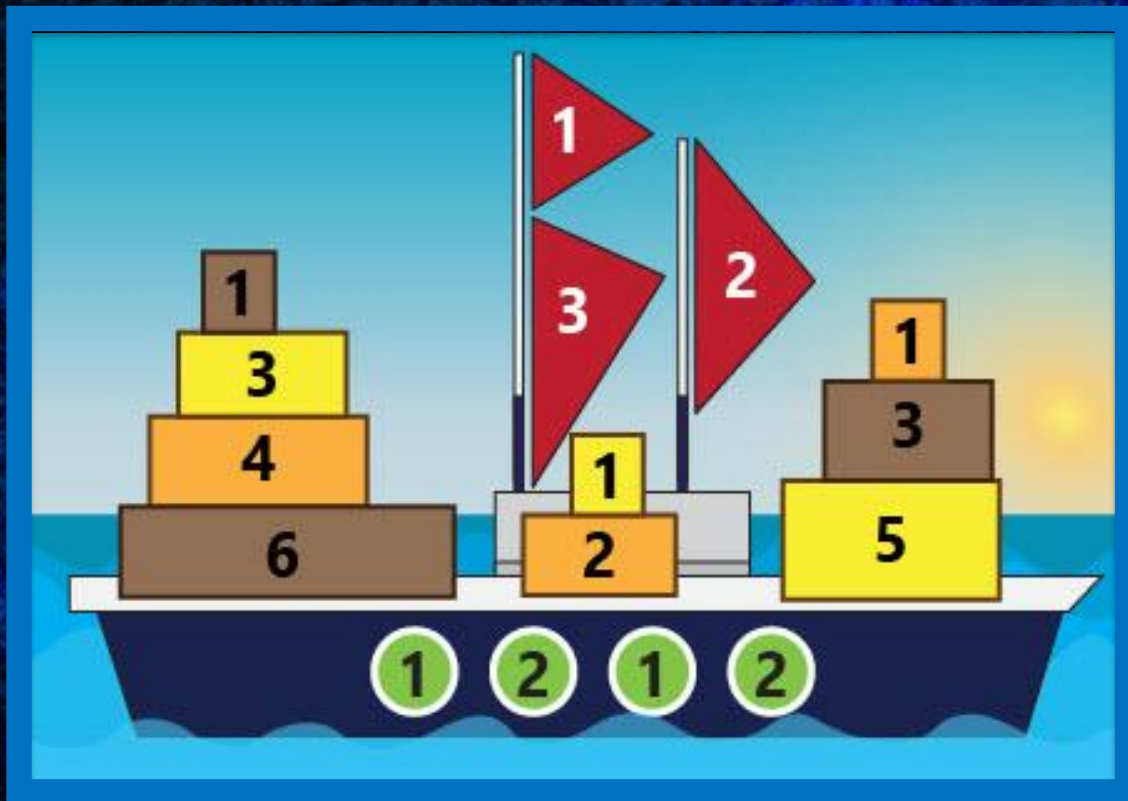
0

Проверь себя



$1+3+4+6=14$ кг – первый ряд
 $1+2=3$ кг – второй ряд
 $1+3+5=9$ кг – третий ряд

Корабль перевозит груз в ящиках.
На каждом ящике написан его вес в
килограммах. **Ящиков какого цвета
больше других?**



1

2

3

Одинаков

0

Проверь
себя



3=3=3

Информационные ИСТОЧНИКИ



<http://oboibox.ru/orig/Temno-siniy-relef-zhevanye-oboibox.ru.jpg> фон

http://pedcollege.tomsk.ru/moodle/pluginfile.php/14971/course/section/3468/0_ca2e5_39eb4984_orig.gif мальчик

<http://i.imgur.com/lq2zxwD.png>
волна

<http://www.playcast.ru/uploads/2017/02/22/21747678.png> волна

http://img1.liveinternet.ru/images/attach/d/1/130/740/130740467_0_ddee2_f0c32b2f_orig.png кораблик