

Устный счёт
3 класс
Школа России

Умники и умницы


Ребус



Это надо знать




Кот в мешке



Всякая всячина



Математическая



Сосчитай-ка



Самый умный



Угадай-ка



Логика



Математические ребусы

$$\begin{array}{r} \text{—} 83 \\ 47 \\ \hline 36 \end{array}$$

$$\begin{array}{r} \text{—} 93 \\ 64 \\ \hline 29 \end{array}$$

$$\begin{array}{r} + 39 \\ 24 \\ \hline 63 \end{array}$$



Это надо знать

$$3 \times 3 = 9$$

$$15 : 5 = 3$$

$$3 \times 1 = 3$$

$$2 \times 9 = 18$$

$$24 : 3 = 8$$

$$3 \times 6 = 18$$

$$3 \times 4 = 12$$

$$18 : 2 = 9$$

$$2 \times 2 = 4$$

$$2 \times 7 = 14$$

$$21 : 7 = 3$$

$$3 \times 9 = 27$$

$$3 \times 8 = 24$$

$$16 : 2 = 8$$

$$2 \times 8 = 16$$



Кот в мешке

- Даше 14 лет, а Оле 8 лет. Сколько лет было Оле, когда Даше было 9 лет?
- В нашем городе 17 троллейбусных и автобусных остановок. Остановок троллейбусов на 3 меньше, чем остановок автобусов. Сколько остановок троллейбусов и остановок автобусов в нашем городе?



Всякая всячина



По вертикали:

1. Результат сложения.
2. Сложить 4 раза по 10
3. Каждое число при сложении.
4. По 3 сложить 3 раза

По горизонтали:

1. Сложение одинаковых слагаемых.



Математическая Составь и реши задачу



Сосчитай-ка Прилети на свое место

$5+5+5$



6×4

$4+4+4+4+4$



4×5

$6+6+6+6$



5×3

$7+7$



3×6

$3+3+3+3+3+3$



7×2







Самый умный



16:07:03



Угадай-ка Какая фигура лишняя?



Логика

Лягушка встречала гостей. Осёл пришёл раньше Барана, Волк позже Зайца, Баран раньше Зайца, Ёжик позже Волка. В каком порядке пришли гости?



Молодцы!

