

# Какое равенство лишнее?

$$2+2$$

$$3-2$$

$$4+3$$

$$5-3$$

# Тема урока: Прибавить и вычесть 4.

Появился во дворе  
Он в холодном декабре  
Неуклюжий и смешной  
У катка стоит с метлой  
К ветру зимнему привь  
Наш приятель ...



# УСТНЫЙ СЧЁТ

4 -  = 3      4 -  = 2      3 +  = 5

- 1 = 1       + 2 = 3      4 +  = 5

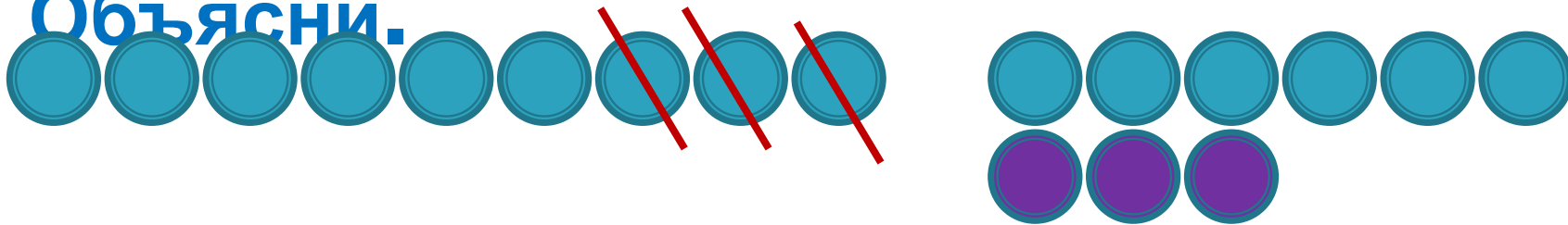
5 -  = 4      3 +  = 4      5 -  = 3



Маша вырезала  снежинок. Вера вырезала 3 снежинки. Сколько всего .....

Какая схема подходит к задаче?

Объясни.




Какое решение подходит к задаче?

~~$6 + 3 =$~~

$6 - 3 =$

~~9(с)~~

3(с)



5 CM

9 CM

5+

2

9-

2

4+

3

9-

3

7-

0

4-

3

8-

3

10-

2

6-

3

2+

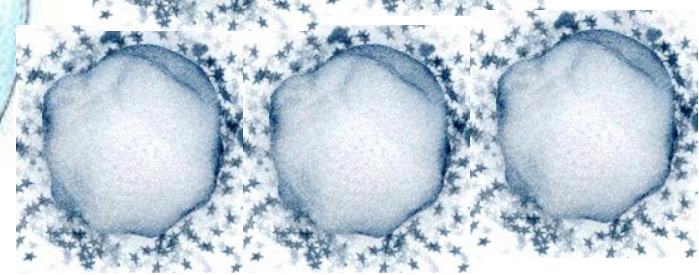
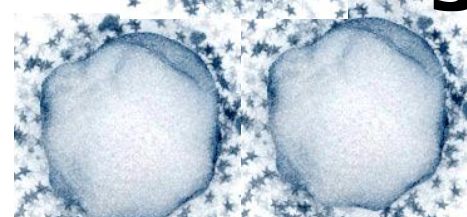
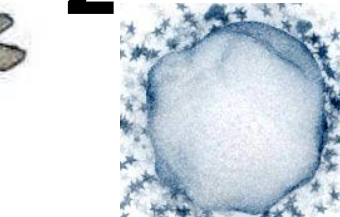
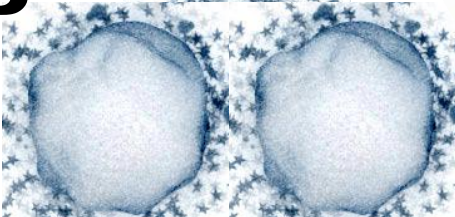
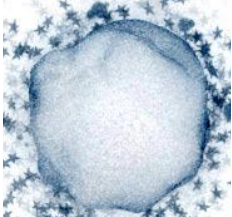
3

7+

3

6+

3





9

1

8

2

7

3

4

6

5

5

1  
0

0

# Физкультминутка для глаз

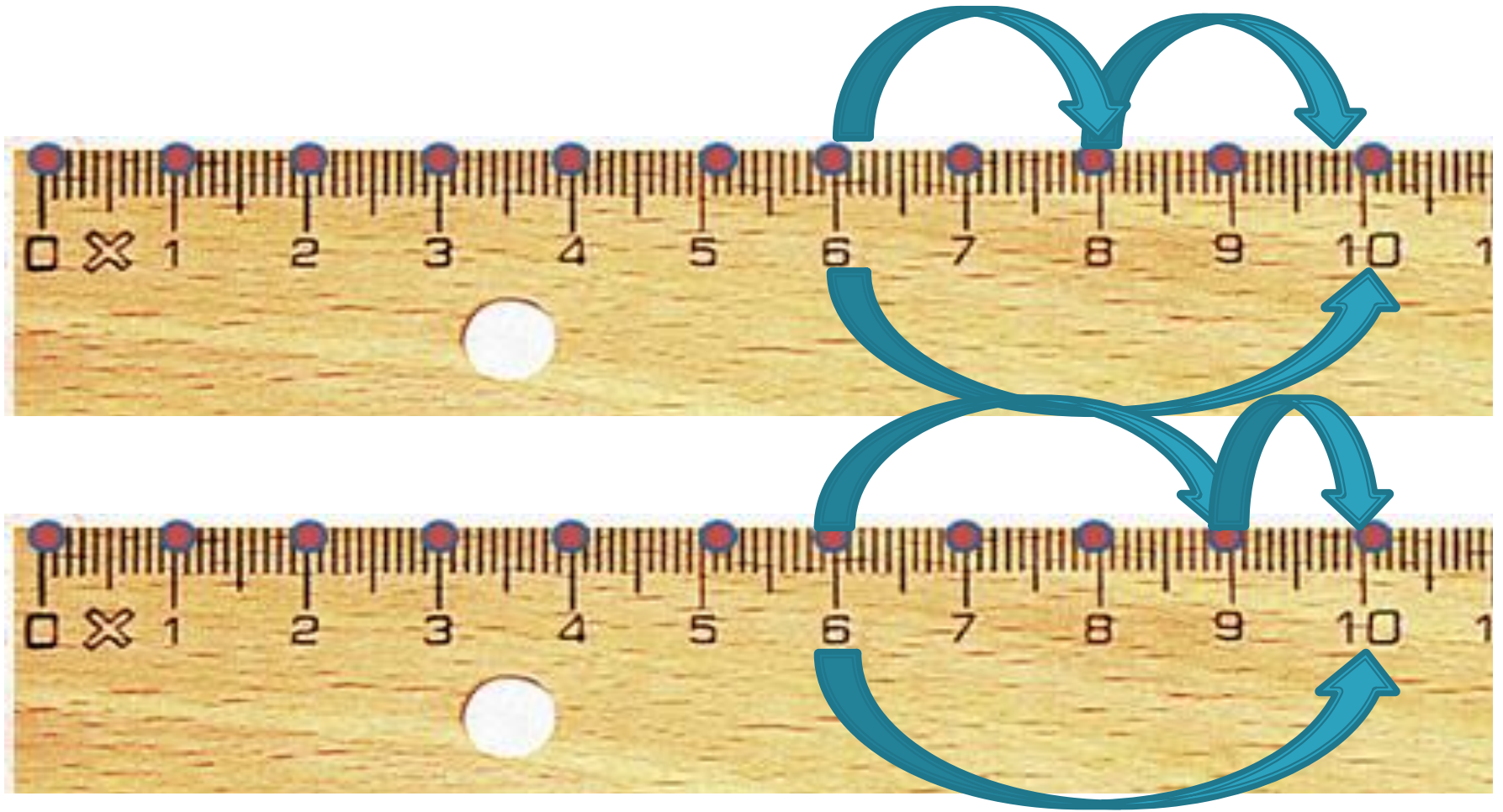






# НОВЫЙ МАТЕРИАЛ





$$\underline{6 + 4 =}$$

$$6 + 2 + 2 = 10$$

$$\underline{6 + 4 =}$$

$$6 + 3 + 1 = 10$$



$$6 + 4 =$$

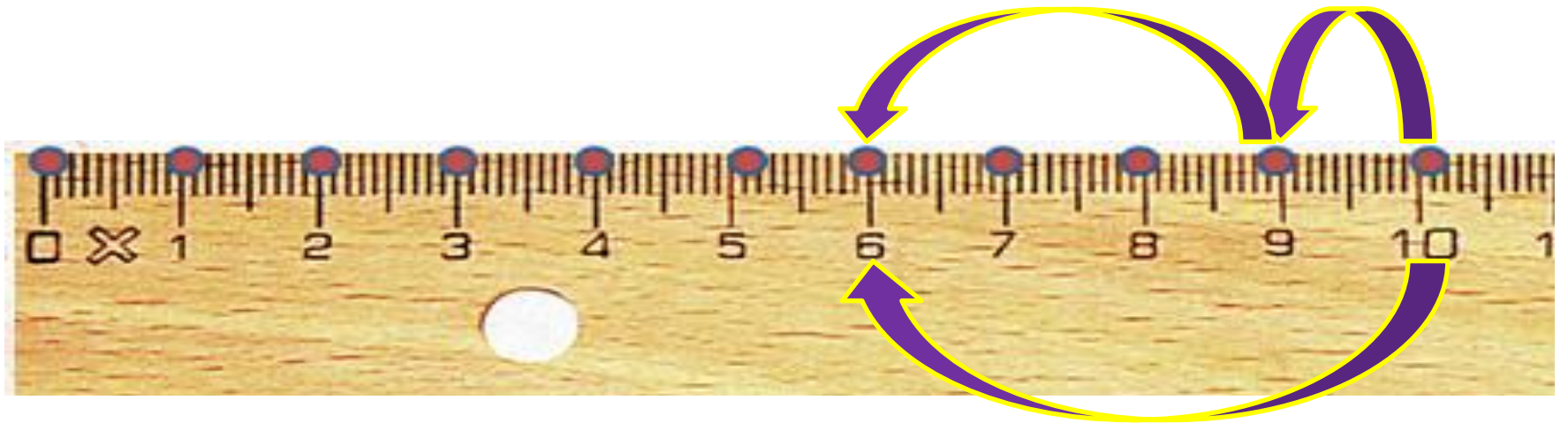
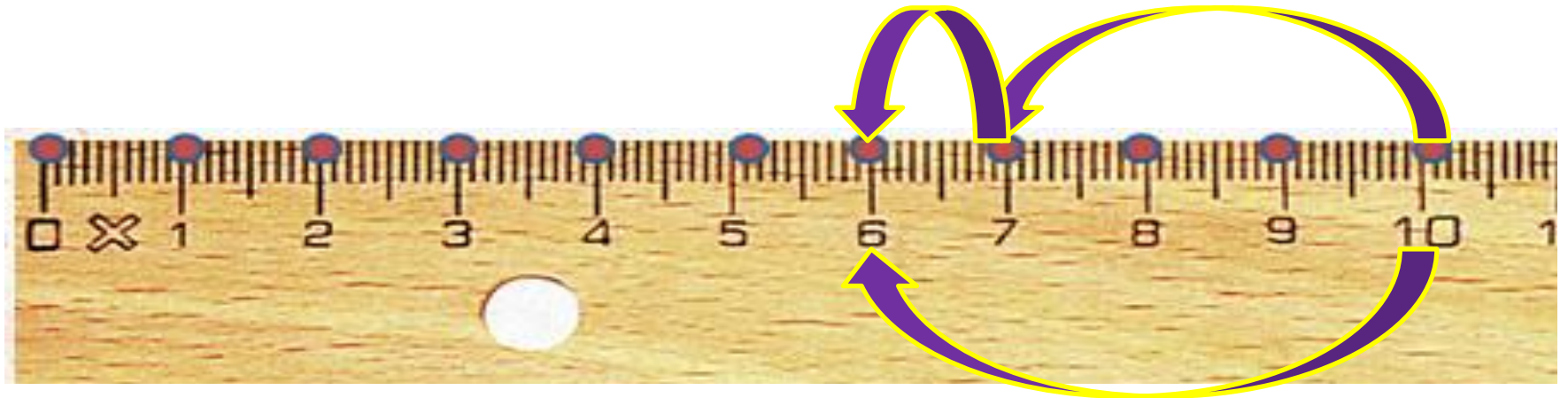
$$6 + 1 + 3 =$$



$$10 - 4 =$$

$$10 - 2 - 2$$

$$= 6$$



$$\frac{10 - 4 =}{10 - 3 - 1 = 6}$$

$$10 - 3 - 1 = 6$$

$$\frac{10 - 4 =}{10 - 1 - 3 =}$$

$$10 - 1 - 3 =$$

Посчитай.

Для проверки кликни мышкой по  
примеру

$1+4=$

$0+4=$

$5+4=$

$3+4=$



Посчитай.

Для проверки кликни мышкой по  
примеру

$$9-4=$$

$$7-4=$$

$$5-4=$$

$$10-4=$$



Дале

Посчитай.

Для проверки кликни мышкой по  
примеру

$$2+4=$$

$$6+4=$$

$$4+4=$$





Посчитай.

Для проверки кликни мышкой по  
примеру

$$8-4=$$

$$6-4=$$

$$4-4=$$



Выход

# Молодц ы!

