

ТАҚЫРЫБЫ:

***Заттың бағасы. Заттың
саны және құны***



I. ҰЙЫМДАСТЫРУ БӨЛІМІ.

□ Психологиялық дайындық:

Қане біздер ойлайық.

Ойымызды жинайық.

Қандай есеп болса да,

Шешпей оны қоймайық.



5



7




3



II. Үй ТАПСЫРМАСЫН ТЕКСЕРУ:

□ №7. 221-бет.



III. ӨТКЕНДІ ҚАЙТАЛАУ.



“Кім шапшаң?” ойыны.





*1993 жылы 15 қарашада ұлттық
валютамыз “теңге” айналысқа енді*



IV. Жаңа сабақ

***Заттың бағасы. Заттардың
саны және құны***





Бағасы	Саны	Құны
10 тг	3	?

- Тауардың **құнын** анықтау үшін **бағасын санына** көбейту керек. ($Қ=Б*С$)



№2. КЕСТЕМЕН ЖҰМЫС:

Бағасы	Саны	Құны
10 тг	?	50 тг

Сатып алған тауардың **санын** анықтау үшін **құнын бағасына** бөлу керек.



($C=Q : B$)





Бағасы	Саны	Құны
?	3	30 ТГ

Сатып алған тауардың бағасын анықтау үшін құнын санына бөлу керек. (Б=Қ : С)



№3. ЕСЕП:



60 пәтер

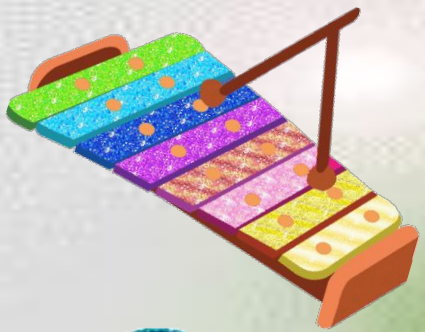


?-30 пәтер артық



Beauty


SERGITY SATI



“ДҮКЕН” ОЙЫНЫ



30 ТҒ




200 ТҒ



100 ТҒ



150 ТҒ



150 ТҒ



200 ТҒ



70 ТҒ



50 ТҒ

№6. ЖҰПТЫҚ ЖҰМЫС:

$$(37+42) - 21 =$$

$$45+(70-28)=$$

$$90- (54-39) =$$

$$80- (16+34)=$$

$$64+(16+18)=$$


$$(60-36)+15=$$



Ү. ҚОРЫТЫНДЫЛАУ:

- Не білдік?


- Не үйрендік?





ҮІ. ҮЙГЕ ТАПСЫРМА:

№7. 223-бет.



ҮШ. БАҒАЛАУ.



ОҒАЙЧНО ©М

