

«К Слоноёнку»



4

+ 5

9

- 2

7

+ 3

10

4

13

- 6


+

- 2

9

1

1





**Составьте задачу
по схеме:**

17

3.

**Попугай
решил
6 задач**

Слонёнок

?



**Выберите вопрос,
чтобы получилась
задача:**

1. Сколько стоит ручка?

2. На сколько ручка дороже тетради?

3. Что купил Толя?

4. Сколько денег Толя заплатил за покупку ?



**Выберите вопрос,
чтобы получилась
задача:**

**На сколько ручка дорожке
тетради?**





**Выберите вопрос,
чтобы получилась
задача:**

**Сколько денег Толя
заплатил за покупку ?**

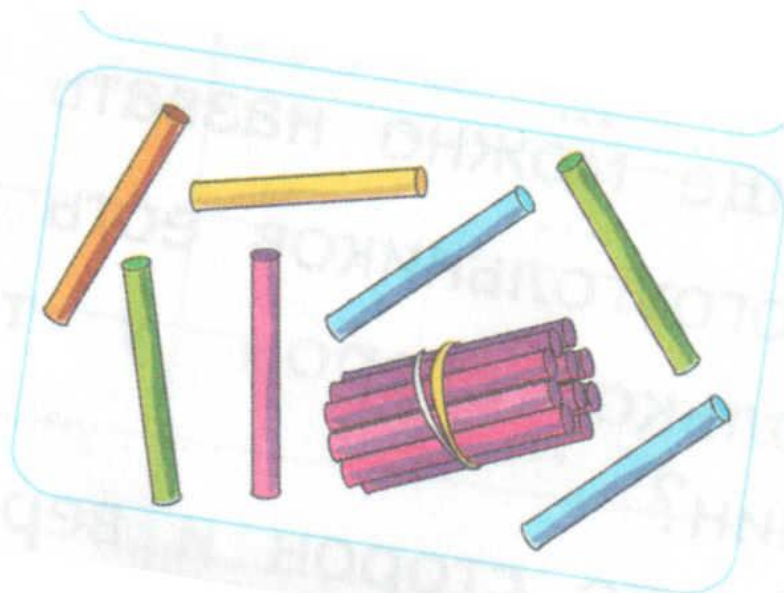
Запишите число

палочек на рисунке слева:



Запишите число

палочек на рисунке слева:





**Объяснять
состав
двузначных
чисел.**

Рефлексия:



- Я «вызвал» уже имеющееся знание ...
- Я смог...
- Мне было интересно....
- Мне было трудно....
- Мне понравилось....
- Я могу ...

