

Математика

илена

саяхат



Саннарны таны



11



15



13



16



10



12



18



14



19



17




20



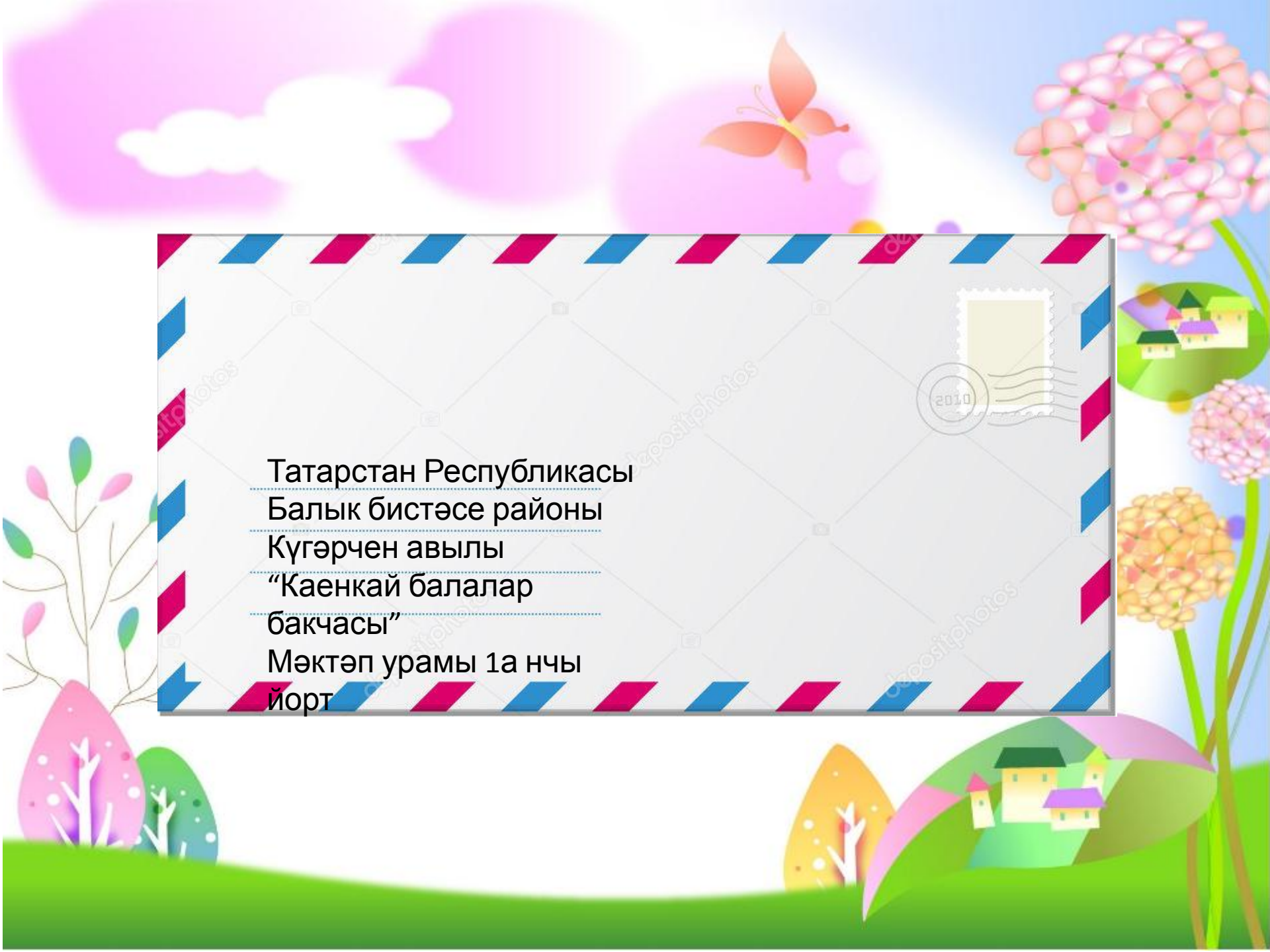


Кайсы сан төшөп калган?

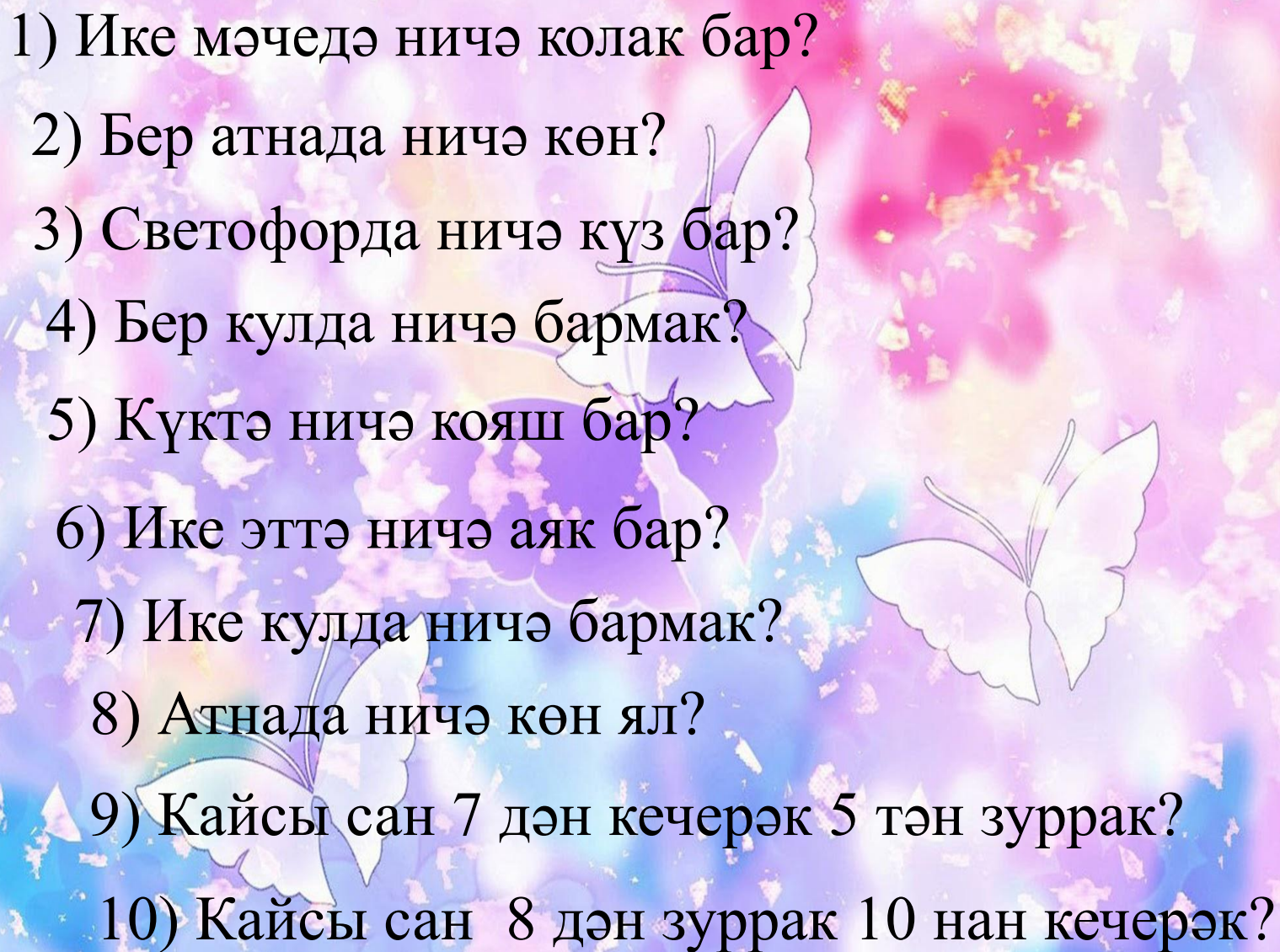
**1, 3, 4, 5, 7, 9, 10,
11, 13, 15, 17, 18, 20**



1, 2, 3, 4, 5,
6, 7, 8, 9, 10,
11, 12, 13, 14 15,
16, 17, 18, 19, 20



Татарстан Республикасы
Балык бистәсе районы
Күгәрчен авылы
“Каенкай балалар
бакчасы”
Мәктәп урамы 1а нчы
йорт

- 1) Ике мәчедә ничә колак бар?
 - 2) Бер атнада ничә көн?
 - 3) Светофорда ничә күз бар?
 - 4) Бер кулда ничә бармак?
 - 5) Күктә ничә кояш бар?
 - 6) Ике эттә ничә аяк бар?
 - 7) Ике кулда ничә бармак?
 - 8) Атнада ничә көн ял?
 - 9) Кайсы сан 7 дән кечерәк 5 тән зуррак?
 - 10) Кайсы сан 8 дән зуррак 10 нан кечерәк?
- 
- The background is a vibrant, abstract composition of soft, glowing colors in shades of purple, pink, and blue. It features several stylized butterfly silhouettes in white and light purple, scattered across the scene. There are also faint, glowing floral patterns and a bokeh effect of light spots, creating a dreamy and ethereal atmosphere.

МАТЕМАТИ КА







MILLETTE





1) 3 яклы һәм 3 почмаклы фигура төзегез

2) Бөтен яклары да тигез булган геометрик фигура төзегез

3) Бер-берсенә каршы булган 2 ягы озын,
2 ягы кыска фигура төзегез

4) 5 почмаклы фигура төзегез

5) 5 таякчыктан 2 өчпочмак төзегез.

Нинди фигура барлыкка килде?

6) Әлеге фигурага 2 таякчык кушыгыз.

Нинди фигура барлыкка килде?





*Игътибарыгыз
өчен
рәхмәт!*