
Минутка чистописания

12 12 12

21 21 21

СТАРИННАЯ ПРИТЧА

«Однажды султан решил испытать своих придворных министров. Он приказал им открыть в саду старую ржавую дверь с огромным замком. В награду за выполненное дело султан пообещал исполнителю место главного дворцового визиря. Но одни подданные лишь качали головами, другие разглядывали замок, третьи- начали неуверенно толкать дверь, доказывая, что не могут её открыть. Тогда один из стражей дворца подошел к двери, внимательно осмотрел ее, резко навалился плечом и толкнул. И – о чудо! Дверь поддалась и открылась. Тогда султан сказал дворцовому стражу: «Ты будешь главным визирем, потому что ты не только полагаешься на то, что видишь и слышишь, но и веришь в свои силы».



Зарядка для ума

**Поставьте знаки действий так,
чтобы равенства были верными:**

$548 \dots 60 = 608$

$75 \dots 4 = 300$

$478 \dots 1 = 478$

$824 \dots 8 = 103$

$462 \dots 70 = 392$

$7018 \dots 0 = 7018$

Молодцы!

40
6

35

40
2

58

66

28
0

40

$\times 7$

19

13
3

11

82

24

77

57
4

16
8



Цели:

- обобщить имеющиеся знания и умения по изученным темам
- развивать вычислительные навыки;
- воспитывать трудолюбие, усидчивость, внимательность и умение оценивать свой труд.

ПРОЧИТАЙТЕ ЧИСЛА

1647, 995, 5000, 1949, 4318, 2867

Запишите числа в порядке возрастания

МАТЕМАТИЧЕСКИЙ ДИКТАНТ

1. Найдите сумму чисел 315 и 200
2. Запишите число в котором 3 сотни 2 десятка и 8 единиц



МАТЕМАТИЧЕСКИЙ ДИКТАНТ

1. Найдите сумму чисел 315 и 200
2. Запишите число в котором 3 сотни 2 десятка и 5 единиц
3. Чему равно частное чисел 848 и 2



МАТЕМАТИЧЕСКИЙ ДИКТАНТ

1. Найдите сумму чисел 315 и 200
2. Запишите число в котором 3 сотни 2 десятка и 5 единиц
3. Чему равно частное чисел 848 и 2
4. Найдите разность чисел 585 и 155



МАТЕМАТИЧЕСКИЙ ДИКТАНТ

1. Найдите сумму чисел 315 и 200
2. Запишите число в котором 3 сотни 2 десятка и 5 единиц
3. Чему равно частное чисел 848 и 2
4. Найдите разность чисел 585 и 155
5. Запишите число, которое меньше 98 на 16



МАТЕМАТИЧЕСКИЙ ДИКТАНТ

1. Найдите сумму чисел **315** и **200**
2. Запишите число в котором **3** сотни **2** десятка и **5** единиц
3. Чему равно частное чисел **848** и **2**
4. Найдите разность чисел **585** и **155**
5. Запишите число, которое меньше **98** на **16**
6. Какое число следует за числом **2156**



МАТЕМАТИЧЕСКИЙ ДИКТАНТ


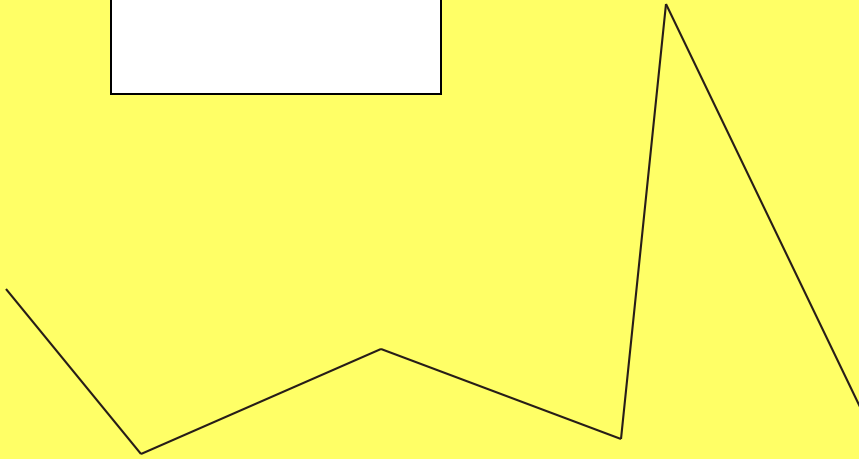

1. Найдите сумму чисел **315** и **200**
2. Запишите число в котором **3** сотни **2** десятка и **5** единиц
3. Чему равно частное чисел **848** и **2**
4. Найдите разность чисел **585** и **155**
5. Запишите число, которое меньше **98** на **16**
6. Какое число следует за числом **2156**
7. Чему равна площадь квадрата со стороной **9**см
8. Отрезок **15** см. Чему равна одна третья отрезка



ВЗАИМОПРОВЕРКА:

- 1) 515
- 2) 328
- 3) 424
- 4) 430
- 5) 82
- 6) 2157
- 7) 81 см^2
- 8) 5 см






РЕШИТЕ ЗАДАЧУ УСТНО

В магазин привезли 16 коробок шоколадных конфет по 5 кг в каждой и 13 коробок печенья по 3 кг в каждой.

ПОДВЕДЕНИЕ ИТОГОВ

Рефлексия



Домашнее задание:

Стр. 75 №12, №15.
