
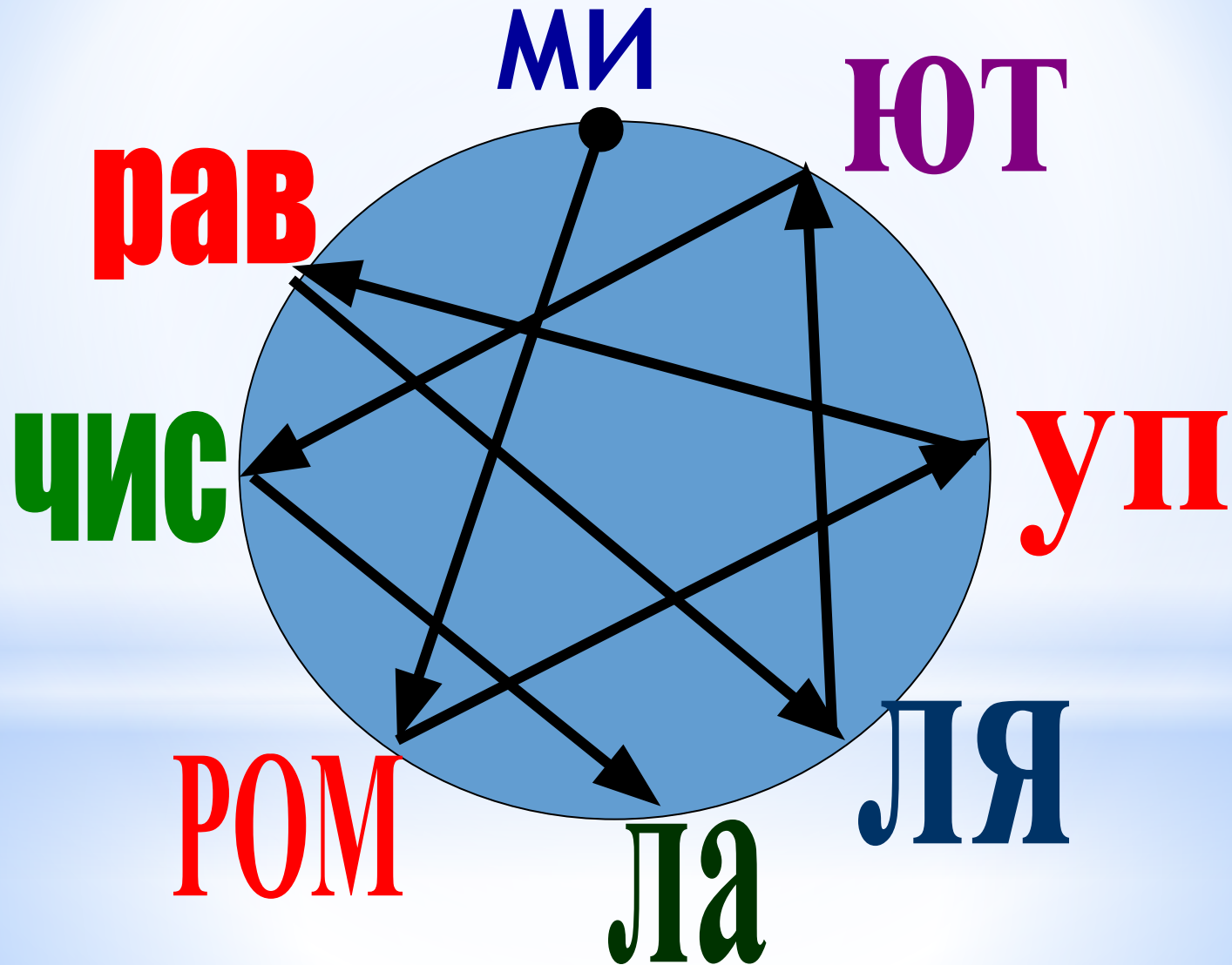


\* В СТРАНЕ  
ЗАНИМАТЕЛЬНОЙ  
МАТЕМАТИКЕ.



\* Миром управляют числа



## Сложи пословицу

$9 \times 9$

$4 \times 7$

$24 \times 1$

$8 \times 5$

$7 \times 9$

$9 \times 2$

$5 \times 3$

$6 \times 4$

$3 \times 4$

$3 \times 9$

$20 \times 2$

$7 \times 4$

$6 \times 2$

$5 \times 9$

$9 \times 7$

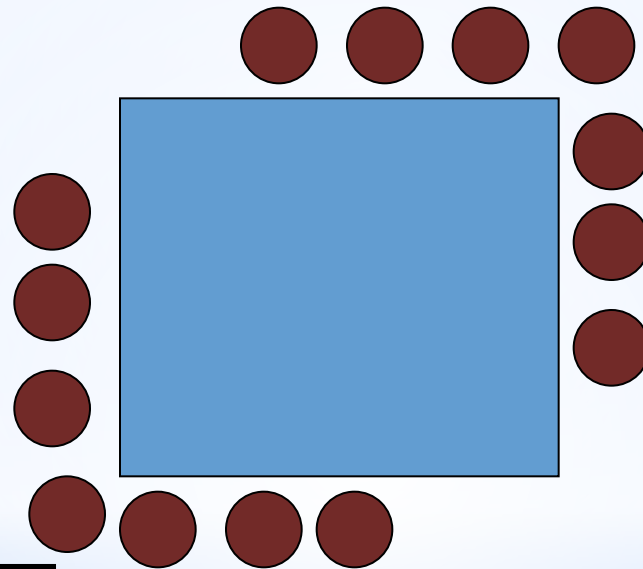
Код шифровки:

12	15	18	24	27	28	36	40	45	63	64	81
у	з	а	н	м	к	в	е	т	и	г	б

Правильный ответ: **Без муки нет науки**

Вокруг дома квадратной формы надо посадить 14 деревьев так, чтобы вдоль каждой стороны было одинаковое количество деревьев. Нарисуй, как это сделать.

**\*Посадка деревьев.**



\* Посадка деревьев.

**\* Врач дал больной Кате 3 таблетки  
и велел принимать каждые  
полчаса.  
На сколько времени Кате  
хватило таблеток?**

**1 час**




По столбу высотой  
6 метров вверх  
ползёт улитка. За  
день она  
поднимается на 4  
м, а за ночь  
опускается на 3 м.

**Сколько времени** ей  
понадобится,  
чтобы добраться  
до вершины?

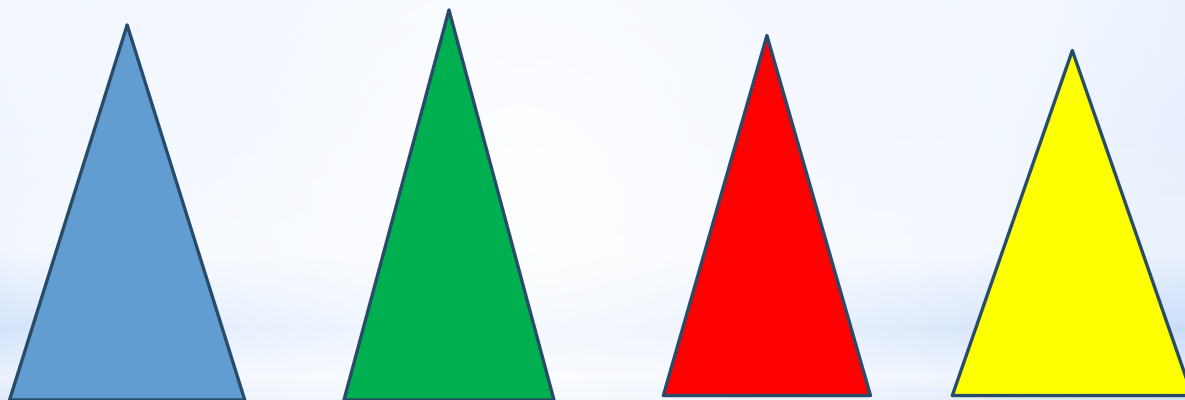
**3 дня**

В ведро входит 10 литров воды; в кастрюлю – 5 литров, в банку – 3 литра. Как, имея полное ведро воды, отмерить 2 литра?






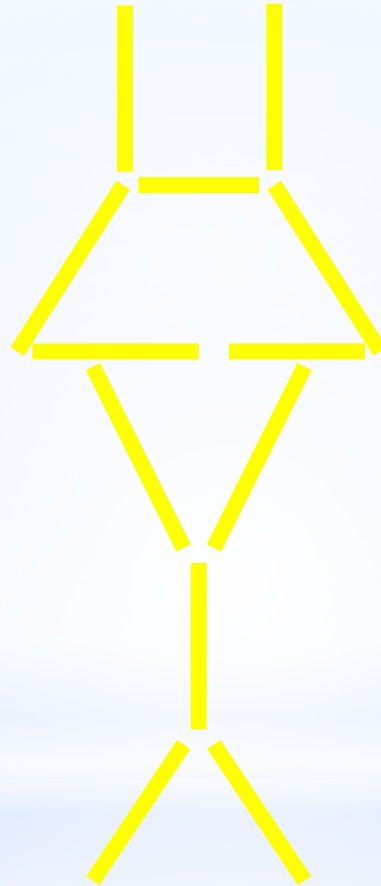
Расположи треугольники так, чтобы синий не был вторым при счёте слева направо, ни при счёте справа налево, а зелёный треугольник оказался бы за синим, но перед красным.



\* Сколько отрезков на рисунке?



Переставьте 3 палочки так, чтоб  
получилось 5 треугольников.



# Ребус

ак э са

актриса



# Ребус

Р 1 А

родина





**Молодцы!**