


Решаем задачи УМК «Планета знаний» 1 класс

Презентацию подготовила: Курбатова В. Л.,
учитель начальных классов



УСТНЫЙ СЧЁТ





7

5

1

0

+3

-3

0

9

1

4

1

6

3



Запиши ответы:

- 1. Найди сумму чисел 6 и 2**
- 2. Первое слагаемое 8, второе слагаемое 2.
Найди сумму чисел.**
- 3. Назови число, которое при счёте идёт за числом 8.**
- 4. Назови число, которое при счёте идёт перед
числом 6**
- 5. Уменьши число 12 на 2**
- 6. Напиши число, которое на 3 больше, чем число 4**
- 7. Из какого числа вычли 3 и получили 3**

8, 10, 9, 5, 10, 7, 6




9 3 8 5 1 7 2

1 2 3 5 7 8 9

Расположи числа в порядке возрастания.

Сосчитай число звеньев ломаной.




5 звеньев

Назови число вершин многоугольника.



5 вершин

РАБОТА ПО УЧЕБНИКУ





Решаем задачи

1. На камзоле должно быть 18 пуговиц. Несколько пуговиц потерялось. Сосчитай, сколько пуговиц осталось на каждом камзоле.



- Сколько пуговиц потерял каждый вельможа?

Задача

- Условие
 - Вопрос
 - Решение
 - Ответ
- 

Сначала на грядке поспело 8 помидоров, а через два дня ещё 2 помидора. Сколько стало красных помидоров?



$$8 + 2 = 10$$

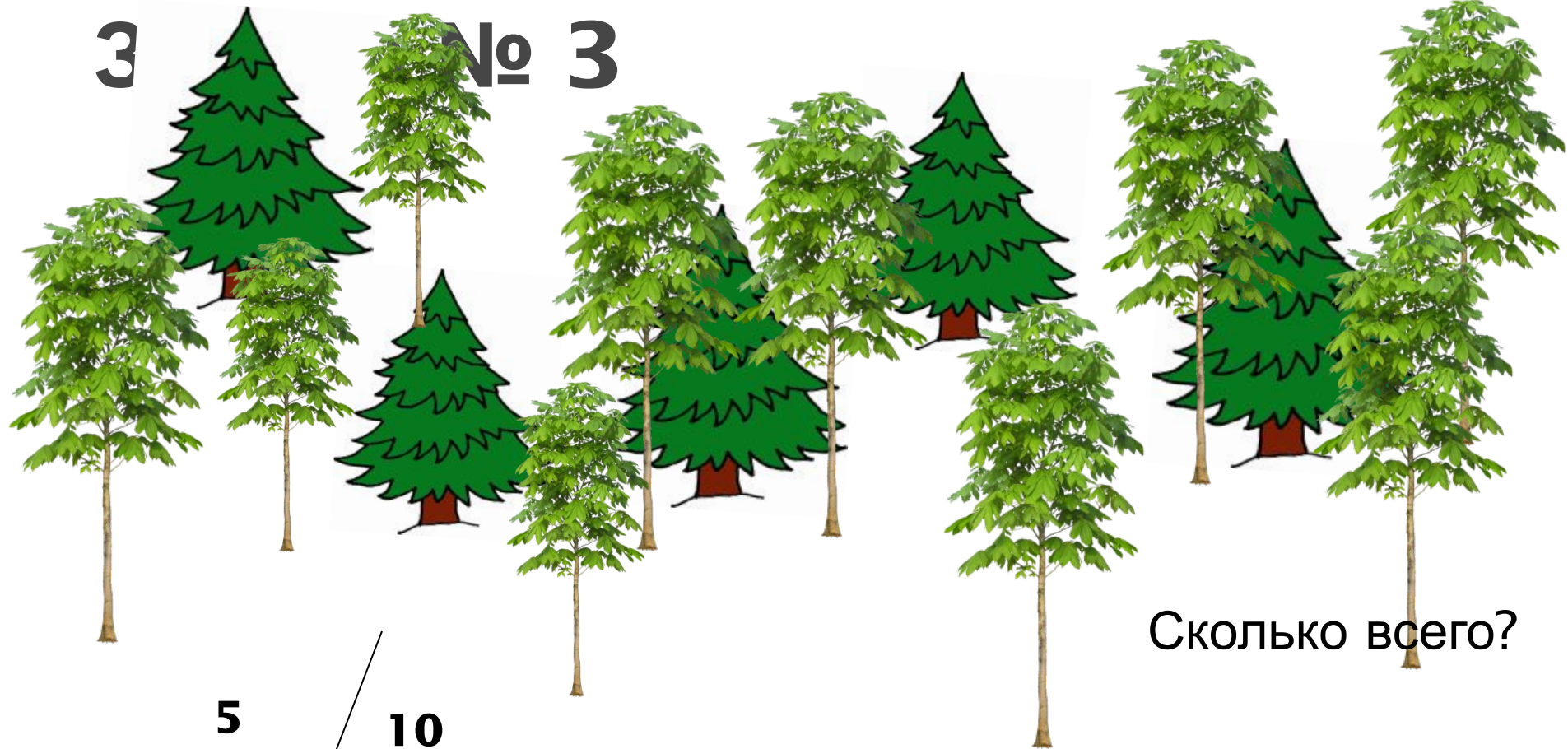




**При сложении частей
получается целое.**

3

№ 3



Сколько всего?

5
ёл.

? д.

10
к.

$$5 + 10 =$$

15 (ответ)

деревьев

Задача № 1



? м.

12
м.
? м.

1
2
6
6.



$12 + 6 =$
~~18 (м)~~
18
МАШИНОК.

2. Угадай, какие числа зашифрованы.



- Два тёмно-зелёных кружка переложили к правому числу. Какие числа получились? Запиши равенства.
3. а) Из большой корзины переложили в маленькую 2 яблока. Сколько яблок стало в каждой корзине?



- б) А если бы переложили 2 яблока из маленькой корзины в большую? Сколько яблок стало бы в корзинах?
- в) Придумай похожую задачу. А твой товарищ пусть ответит на вопрос.

4. Распредели суммы на две группы. Выполни вычитание.

$2 + 8$

$4 + 6$

$9 - 3$

$10 - 8$

$3 + 6$

$2 + 7$

$9 - 5$

$10 - 5$

$5 + 4$

$1 + 8$

$9 - 4$

$10 - 6$

$7 + 3$


$5 + 5$

$9 - 6$

$10 - 7$

СТРАНИЧКИ ДЛЯ ЛЮБОЗНАТЕЛЬНЫХ

1. 1) У Слонёнка было 6 бананов, а у Обезьянки — 5. Слонёнок отдал 1 банан Обезьянке. Стало ли у Обезьянки и Слонёнка бананов поровну?



Решите задачи

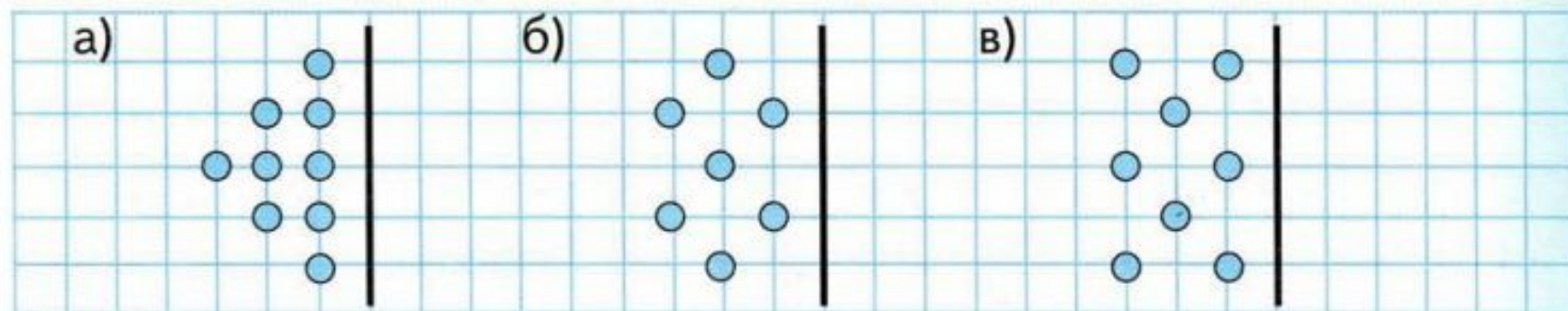
5. а) В короне пять зубцов. Каждый украшен тремя рубинами. Сколько рубинов украшает корону?
- б) Разбойники украли с каждого зубца по 1 рубину. И король повелел вставить на их место изумруды. Сколько изумрудов стало в короне?
- в) Сколько рубинов осталось на каждом зубце?
- г) Сколько всего рубинов осталось в короне?



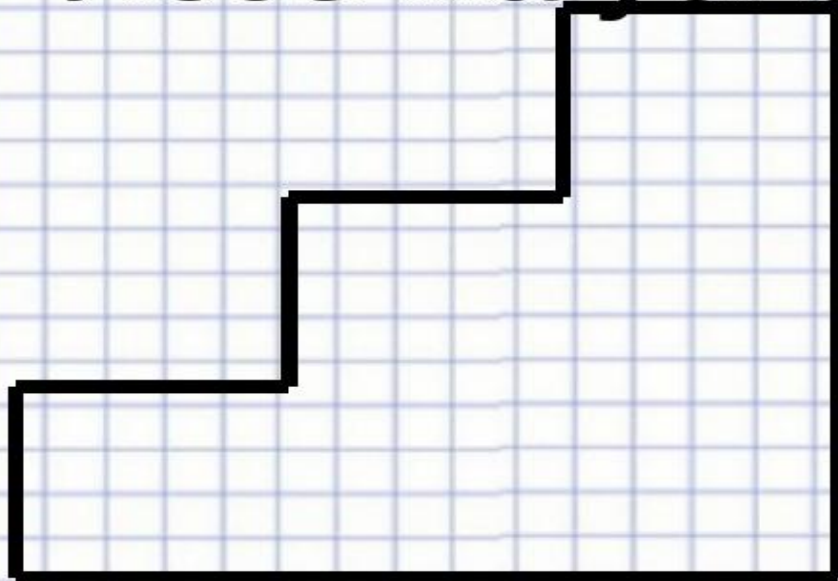
6. Переложи 2 спички так, чтобы из 12 получилось 13.
- Сколько спичек нужно переложить, чтобы из 13 получить 14?



7. Сколько жемчужин в каждом узоре? Нарисуй узор и его «отражение». Сколько жемчужин будет на каждом рисунке?



Лесенка успеха



Я научился...

Я смог...

Я понял...

Мне было трудно...



$4+15=19$

$2 \times 4 = 8$

$5+9=14$