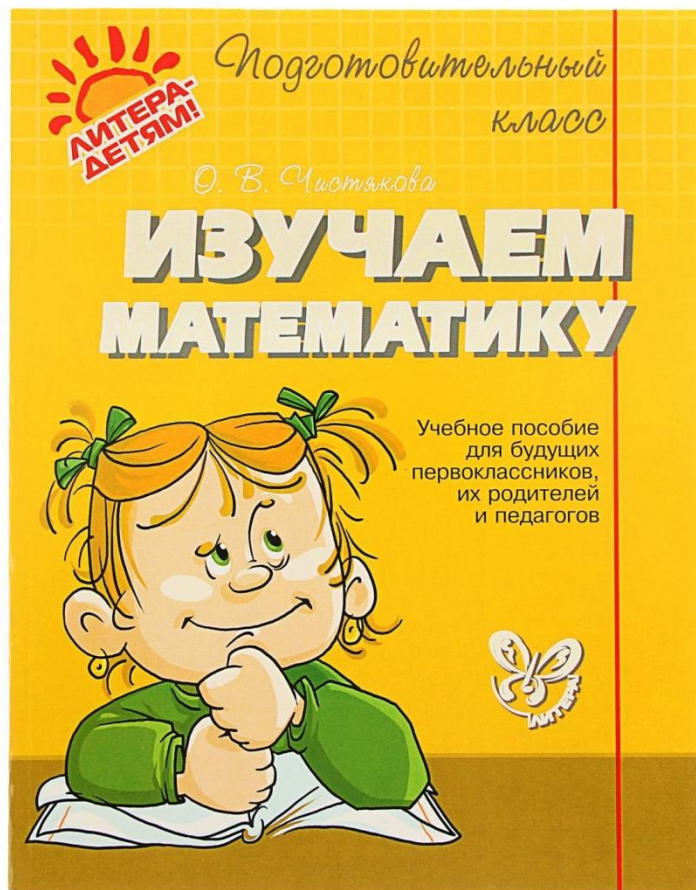


ЗАНЯТИЕ 6.




Упражнение 4


Сосчитай. Сколько игрушек ты видишь?



$$1 + 1 + 2 = ?$$




$$3 + 1 + 1 = ?$$



$$2 + 2 + 1 = ?$$

ПОРЯДКОВОЕ ЗНАЧЕНИЕ ЧИСЛА. ВОПРОС «КАКОЙ ПО СЧЁТУ...?»

Задание 1. Сколько зверей пришло лечиться к Айболиту? Считай так: первый, второй и т. д.



Какой по счёту (по порядку) стоит белка? Обезьянка? Крокодил?

Задай пять вопросов «Какой по счёту ...?» и ответь на них.

ПЕРЕМЕНКА



Весёлая переменка

А теперь насос включаем —
Воду из реки качаем.

(Исходное положение — стойка ноги врозь.)

Влево — раз, вправо — два.

(Наклон влево, правая рука скользит вверх вдоль туловища.)

Потекла ручьём вода.

(Исходное положение.)

Вправо низко наклонились —

(Наклон вправо, левая рука скользит вверх вдоль туловища.)

Хорошо мы потрудились!

(Исходное положение.)



Задание 3. Найди по описанию. Катя стоит слева от ёлки, но справа от берёзы. Которую из девочек зовут Катя?





КАТЯ





Задание 4. Нарисуй в нижнем ряду меньше треугольников, чем деревьев в верхнем ряду.





Задание 5. Нарисуй по точкам такие же фигурки.

