


Сказочное путешествие по необитаемым островам Тихого океана.



Назовите числа, которые делятся
на 5.

12, 20, 15, 14, 35, 24, 28, 30, 25,
8, 5, 10, 21, 40, 45.



20, 15, 35, 30, 25,
5, 10, 40, 45

Найдите
произведение
чисел


4 и 6.

5 и 6;

3 и 6.


24; 30; 18

**Остров
обезьян**



Остров слонов

Множи - тель	2	6	4	5	3
Множи - тель	3	5	4	8	9
Произве - дение	6	30	16	40	27



Он живёт в просторной клетке,
Говорить с ним любят детки:
Зря его ты не ругай –
Повторушка

Попугай

Остров попугаев

$$0 : 5$$

$$4 * 1$$

$$0 * 3$$

$$2 : 2$$

$$5 * 3 + 5 * 4$$

$$6 * 5 - 28 : 4$$

$$(16 + 24) : 8$$

$$5 : 0$$



Остров дикарей

Карандаш стоит 5 р. Сколько надо денег, чтобы купить 4 карандаша?

За 3 ручки заплатили 12 рублей. Сколько стоит одна ручка?



Остров

кенгуру.

10 10 90 40

40 70 60 20

30 80 20 50

60 50 30 70

