


Урок Окружающего мира
4 класс
МБОУ СОШ
с. Новоалександровка

*Кабанова Александра Викторовна
учитель начальных классов
МБОУ СОШ с.Новоалександровка
им.Героя Советского Союза Ф.Д.
Глухова Александрово-Гайского
муниципального района
Саратовской области*

**Мы приветствуем
гостей,
Дорогих учителей,
Всех знакомых,
незнакомых,
И серьёзных, и
весёлых.**

**И сегодня четвертый
класс**

На урок позвал всех



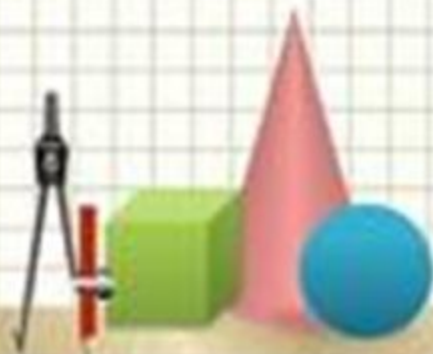
Аутотренинг

- ▣ Я сегодня на уроке
- ▣ Я очень хочу учиться
- ▣ Внимание моё растёт
- ▣ Память моя крепка
- ▣ Я как разведчик всё замечу
- ▣ Я буду активен на уроке

ОТЛИЧНО!!!



Архитектурные сооружения Москвы XX (20) века.



**ТАК
ДЕРЖАТЬ!**



Физминутка

Для разминки из-за парт

поднимаемся на старт!

Бег на месте! Веселей!

И быстрее, быстрее, быстрее! (Бег на месте.)

Делаем вперёд наклоны —

Раз-два-три-четыре-пять! (Наклоны.)

Мельницу руками крутим,

чтобы плечики размять. (Вращение прямыми руками.)

Начинаем приседать —

раз-два-три-четыре-пять! (Приседания.)

А потом прыжки на месте,

выше прыгаем все вместе! (Прыжки.)

Руки к солнышку потянем,

Руки в стороны растянем.

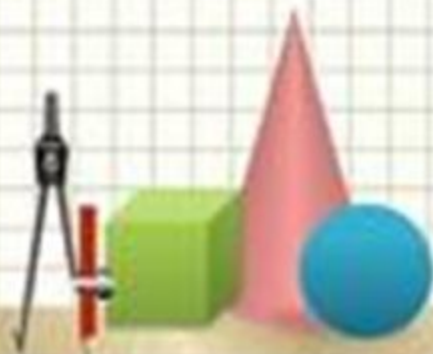
(Потягивания — руки вверх, потом в стороны.)

А теперь пора учиться,

Да прилежно! Не лениться! (Дети садятся за парты.)



Работа по учебнику стр. 128



Музей изобразительных искусств им. А.С. Пушкина -1912г.




Фасад здания Третьяковской галереи- 1904 г.



Особняк С.П. Рябушинского- 1906 г.



Главный павильон Всероссийского выставочного центра- 1939 г.



Ярославский вокзал- 1904 г.



Высотное здание на Смоленской площади- 1949 г.



Останкинская телебашня-1967 г.



Art & Emius, art.emius.ru



Станция «Маяковская»



**ТАК
ДЕРЖАТЬ!**



Работа в парах «Сводная таблица»

Линии сравнения	Останкинская телебашня	Фасад здания Третьяковской галереи	Музей изобразительных искусств им. А.С. Пушкина
1. Где расположен			
2. Год постройки			
3. Фамилия архитектора			



Проверка знаний по теме «Искусство 20 века»

тест

● **1. Назовите автора
данной картины.**

- а) К.С. Малевич
- б) А.А. Пластов
- в) И.Э. Грабарь



● 2. Как называется это здание?

- а) Высотное здание на Смоленской площади
- б) Дом правительства Российской Федерации
- в) Метро



3. Назовите фамилию этого поэта.

- а) Б.Л. Пастернак
- б) В.В. Маяковский
- в) С.А. Есенин



4. Назовите автора этих строк

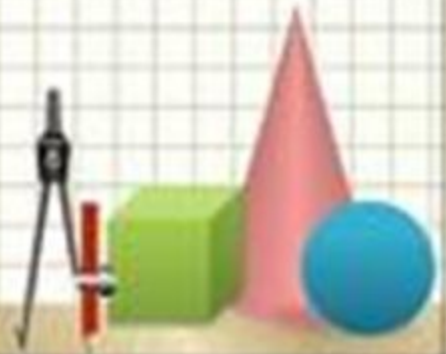
**Только взял боец трехрядку,
Сразу видно – гармонист.
Для начала, для порядку
Кинул пальцы сверху вниз.**

- а) А.Т. Твардовский
- б) А.А. Галич
- в) М.И. Цветаева



ИТОГ УРОКА

- **Что нового узнали?**
- **Достигли ли цели?**
- **У вас все получилось?**



ДОМАШНЕЕ ЗАДАНИЕ

Узнать какие памятники архитектуры 20 века есть в нашем крае и селе.

**СПАСИБО ЗА
РАБОТУ!!!**

