



М А Т Т Е М А Т И К А

1  
клас  
с

Состав чисел первого десятка.

# СТРАНА ЗНАНИЙ





?

2

2

3

3

# Станция






Числовая



1	2	3	4	5	6	7	8	9	10
---	---	---	---	---	---	---	---	---	----

<del>1</del>	2	3	4	5	6	7	8	9	10
--------------	---	---	---	---	---	---	---	---	----

# \* Повтори состав числа



Станция

Решай-ка

$$8 - 2 = 6$$

$$4 + 5 = 9$$

$$9 - 5 = 4$$

$$7 + 2 = 9$$

$$2 + 7 = 9$$

$$5 + 4 = 9$$

$$8 - 1 = 7$$

$$10 - 2 = 8$$



$$5 + 4 = 9$$

$$8 - 1 = 7$$

$$7 + 2 = 9$$

$$8 - 2 = 6$$

$$2 + 7 = 9$$

$$9 - 5 = 4$$

$$4 + 5 = 9$$

$$10 - 2 = 8$$

Станция

Задачкино

## Логические задачи

- У бабушки Даши внучка Маша, кот Пушок, собака Дружок. Сколько у бабушки внуков?
- На столе лежали 4 яблока. Одно из них разрезали пополам и положили на стол. Сколько яблок стало на столе?
- Тройка лошадей пробежала 3 км. Сколько километров пробежала одна лошадь?

# ФИЗМИНУТКА



Сколько зайчиков у нас,  
Столько и подпрыгнем раз.





Сколько палочек до точки,  
Столько встанем на  
носочки.



Сколько точек будет в круге,  
Столько раз поднимем руки.





Рабочая тетрадь на стр. 11 задание 3





## Работа по карточкам.

1в.

Реши примеры.

$3+7=$

$4+5=$

$1+9=$

$8-3+4=$

$9-9=$

$5-3=$

$8+2=$

$10-3+2=$

2в.

$2+8=$

$3+4=$

$4+6=$

$2+5-4=$

$8-4=$

$7-3=$

$7+3=$

$10-2+1=$

**Какие знаки пропущены?**

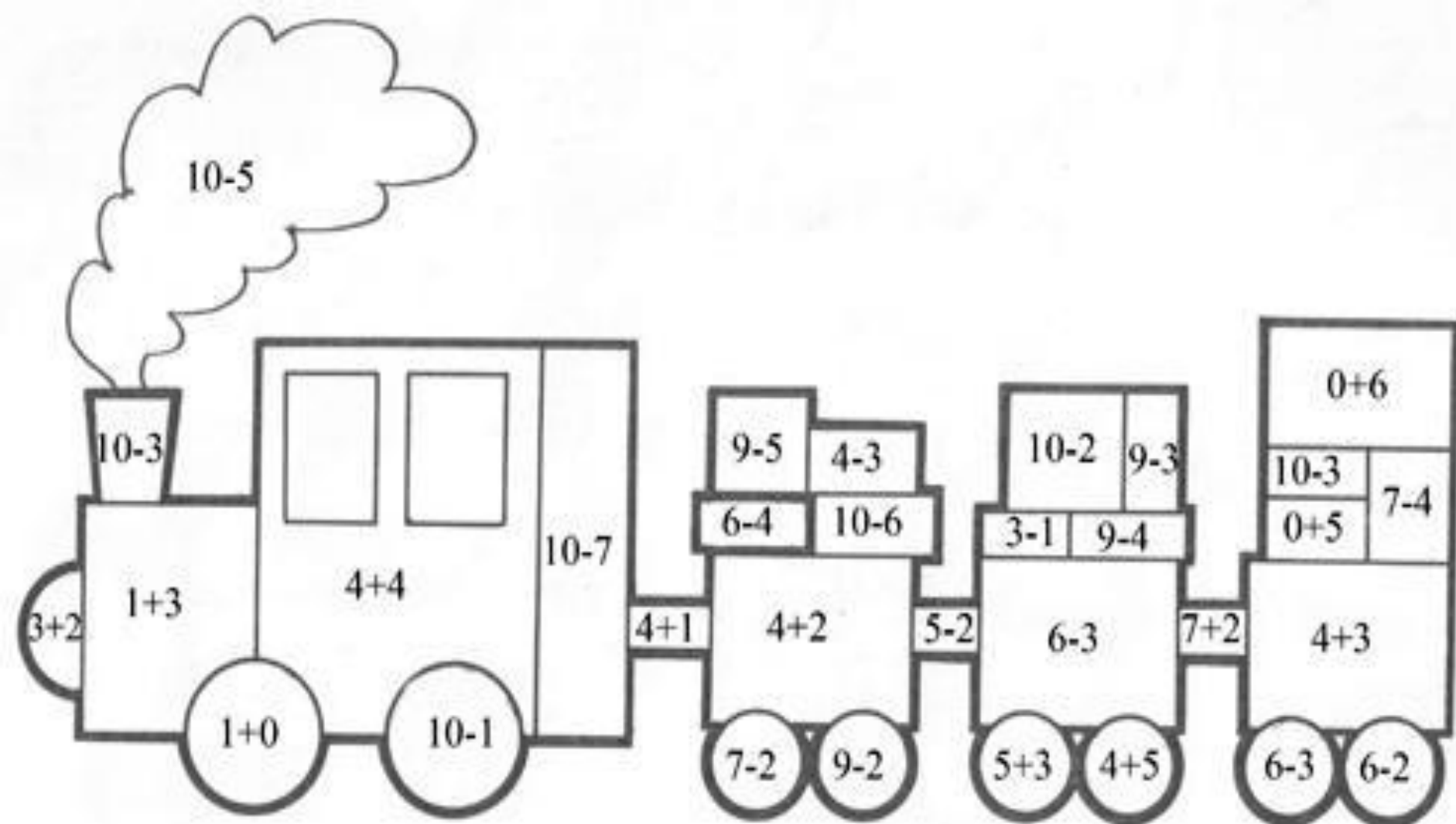
$9 \dots 3 \dots 2 = 8$

$6 \dots 3 \dots 2 = 7$



**Молодцы!!!**





1 - СЕРЫЙ, 2 - БЕЛЫЙ, 3 - ОРАНЖЕВЫЙ, 4 - КРАСНЫЙ, 5 - ЧЕРНЫЙ,  
 6 - ГОЛУБОЙ, 7 - ЖЕЛТЫЙ, 8 - ЗЕЛЕНый, 9 - КОРИЧНЕВЫЙ