

МОУ «Санаторная школа-интернат № 6» г. Ярославль

**Урок по теме  
«Вычитание из 6, 7.  
Состав чисел 6,7. Закрепление»**

Учитель: Иванова Т.Е.

Какой сегодня день  
недели?

**пятница**

Месяц?

**март**




Число?

**11**



Я - Колобок, сбежал с окошка,  
Деда с бабой огорчил.

Покатился по дорожке,  
В лапы к зайцу угодил.



Если ты решишь заданья,  
Я тебя без наказания  
В путь- дорожку снаряжу  
И на волю отпущу

Назовите самое маленькое  
число, самое большое

2, 1, 4, 3, 7, 6

Расположите их в порядке  
увеличения



1, 2, 3, 4, 6, 7

Какое число называют при счете

перед числом 6 ?

после числа 8 ?



5

9

Назовите числа,  
которые стоят между



2 и 5

3, 4, 5, 6, 7, 8

Сравните числа:



6



7

**Назовите другие пары чисел, чтобы  
первое было меньше второго.**



Не решая примеров,  
скажите, где ответ больше  
или меньше? Почему?

$$3 + 1$$

$$3 - 1$$

Как получить число **5**,

если есть число **4** ?

$$4 + 1 = 5$$

Прочитайте, используя слова:

*слагаемое, сумма,*

*уменьшаемое, вычитаемое,*

*разность*

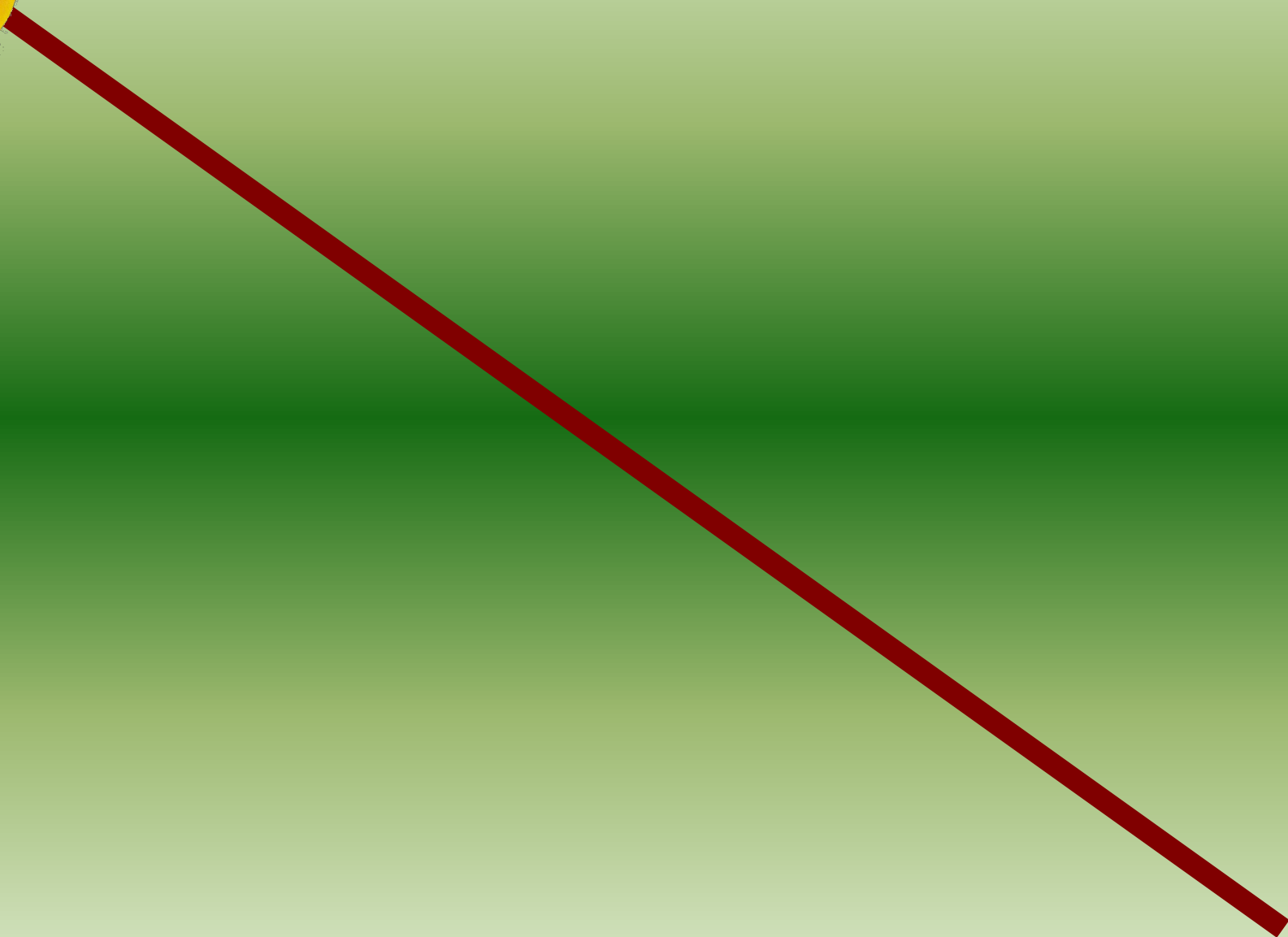
$$2 + 4 = 6$$

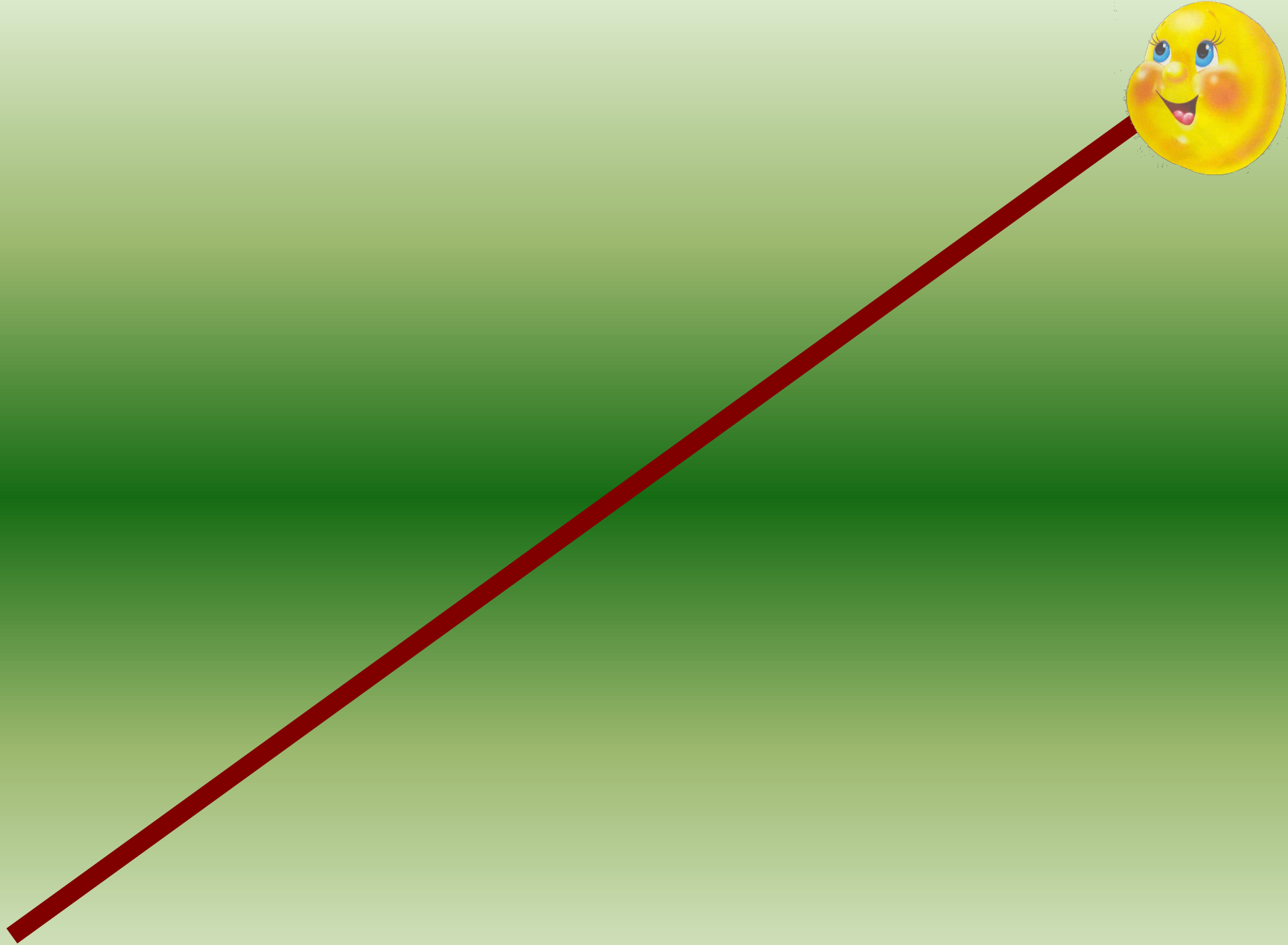
$$6 - 5 = 1$$

$$7 - 2 = 5$$


$$4 + 3 = 7$$










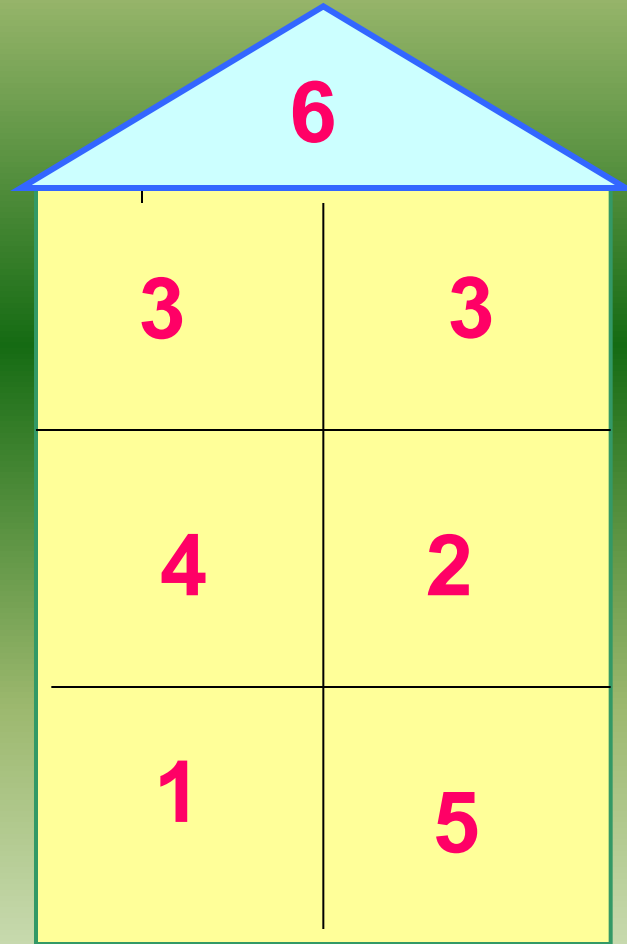




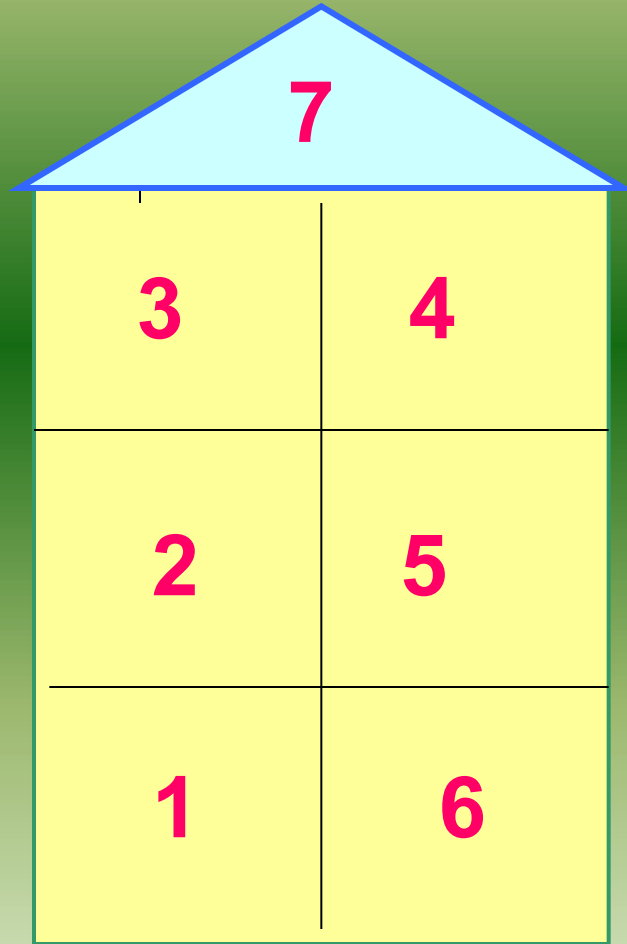


**С песней, Колобочек, не спеши,  
Лучше ты задания мне реши.  
Если ты пример решишь,  
Дальше смело побежишь**


# "Заселяем домики."



# "Заселяем домики."



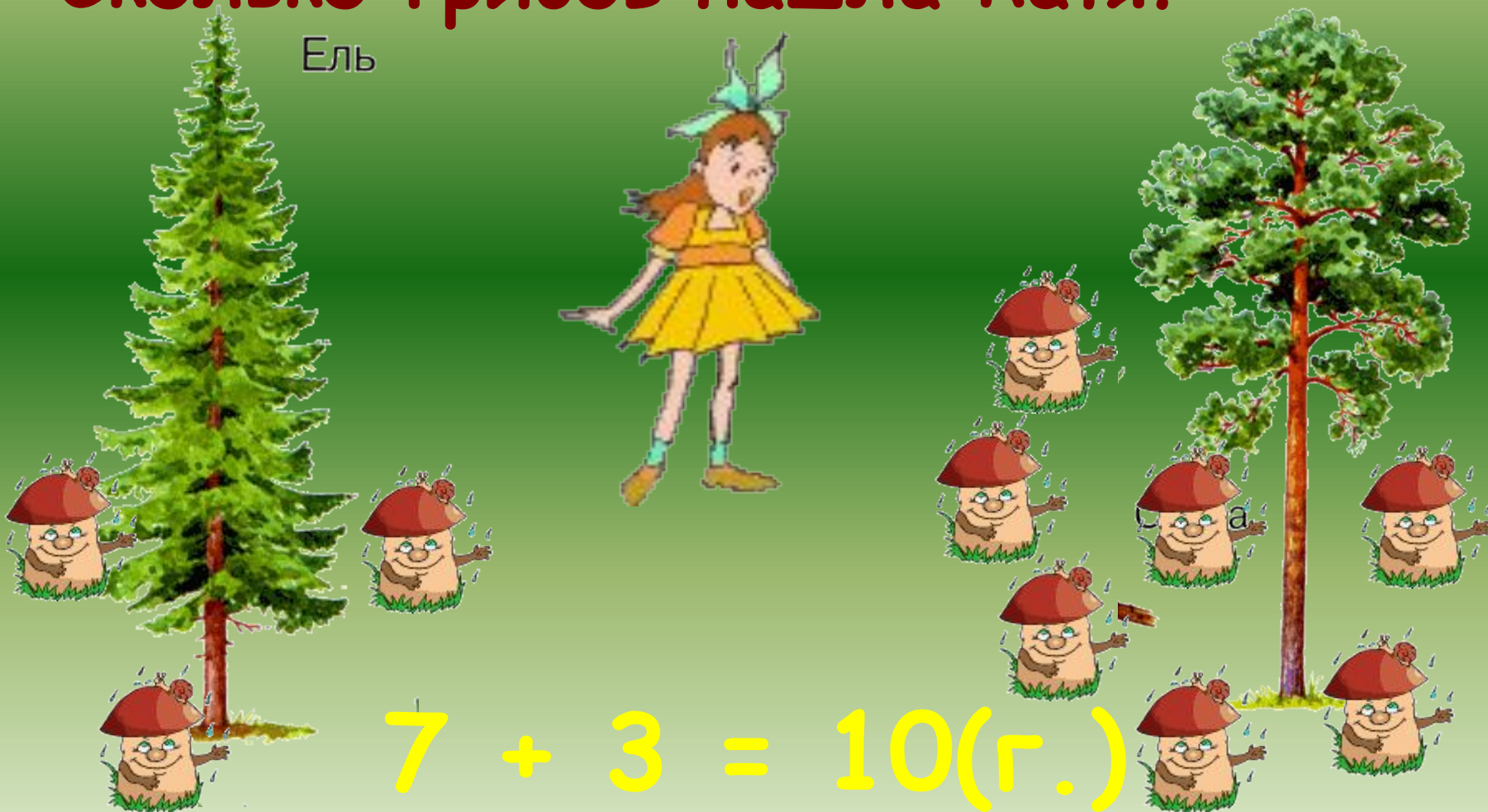
Зайчиха дала зайчатам 6 морковок:  
старшему 4, а остальные - младшему.  
Сколько морковок получил младший зайчонок?



$$6 - 4 = 2(\text{м.})$$

Под елью Катя нашла 3 гриба, а под сосной 7.  
Сколько грибов нашла Катя?

Ель




$$7 + 3 = 10(\text{г.})$$

# Физкультминутка


- Солнце глянуло в кроватку...
- Раз, два, три, четыре, пять.
- Все мы делаем зарядку,
- Надо нам присесть и встать.
- Руки вытянуть пошире,
- Раз, два, три, четыре, пять.
- Наклонится – три, четыре,
- И на месте поскакать.
- На носок, потом на пятку.
- Все мы делаем зарядку.





Ты не пой мне, Колобок,  
Лучше ты реши , дружок  
Трудную задачу  
И пример в придачу.

стр.29 № 2, 4  
работа в тетради

A colorful illustration of a fox in a red dress with a white collar and blue accents, holding a small brown bag. She is standing on a dirt path in a lush green forest with various flowers and butterflies. To her right, a round, yellow, smiling character with arms and legs is peeking out from behind a tree trunk. A thought bubble above the fox contains Russian text.

**Съем тебя я , Колобок,  
Но прежде дам тебе я срок:  
Чтоб сумел за пять минут  
все решить , что есть вот тут.**

**Самостоятельная работа**





Какие знаки и числа  
пропущены?

$$2 \text{ ☀ } \text{ ☀ } = 5$$

$$10 \text{ ☀ } \text{ ☀ } = 7$$

$$9 \text{ ☀ } \text{ ☀ } = 6$$

$$7 \text{ ☀ } \text{ ☀ } = 3$$

$$6 \text{ ☀ } \text{ ☀ } = 8$$

$$8 \text{ ☀ } \text{ ☀ } = 5$$

# Проверь себя!



$$2 + 3 = 5$$

$$10 - 3 = 7$$

$$9 - 3 = 6$$

$$7 - 4 = 3$$

$$6 + 2 = 8$$

$$8 - 3 = 5$$



Реши примеры.


$$7 + 2 = 9$$

$$4 + 1 = 5$$

$$6 - 4 = 2$$

$$7 - 5 = 2$$

$$7 - 3 = 4$$



Нашей сказочке конец,  
кто работал-



**МОЛОДЕЦ !**

