



Учимся считать



Уроки математики



1 класс

УМК «Школа2100»



Автор: Буркова Надежда



Михайловна

учитель начальных классов



СОШ № 2




г. Елабуга

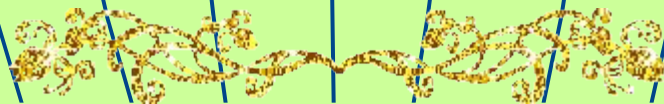




Мой маленький дружок!



■ Попробуй решить весёлые
задачи в стихах, познакомься
с цифрами, отгадай загадки.
Если тебе будет трудно,
попроси помощи у друзей, у
родителей, у учителя.





- Это ёлка?
- Это галка?



- Что такое на странице?
- Это цифра, просто цифра.
- Познакомься - единица!



- Мышка за печкой жила не тужила
 - Но в лапы к коту она угодила,
- Сколько осталось за печкой мышей?
- Ну, догадайся, решай поскорей!



Два - похоже на гусёнка
с длинной шеей, шеей тонкой


Выучи считалки.

Как у нас на сеновале

Две лягушки ночевали.

Утром встали, шей поели,

И тебе водить велели



Тройка-третий из значков,
состоит из двух значков



Сравни: поставь нужный
знак: < > или = .






На что похожа четвёрка?

За тремя идут четыре
Острый локоть оттопыря.



- Цифра новая – четыре.
- Стол стоит у нас
- В квартире,
- Сколько ножек у него -
- У стола у твоего?
- Загадки
- Под крышей четыре ножки,
- А на крыше суп да ложки.



- Четыре ноги, а ходить не может.
- (Отгадки на этом же слайде)



Выучи стихотворения !

- Налитая, симпатичная,
- Цифра самая отличная.



- Что стоит в конце страницы,
- Украшая всю тетрадь?
- Чем вы можете гордиться?
- Ну, конечно, цифрой... (ПЯТЬ)



Сосчитай, сколько мишек танцуют на полянке?

Подумай, с какой цифрой ты сейчас познакомишься





- Правильно ты посчитал.
- Молодец!

- А теперь поставь знаки $<$, $>$
или $=$ между числами.

- $3 * 4$

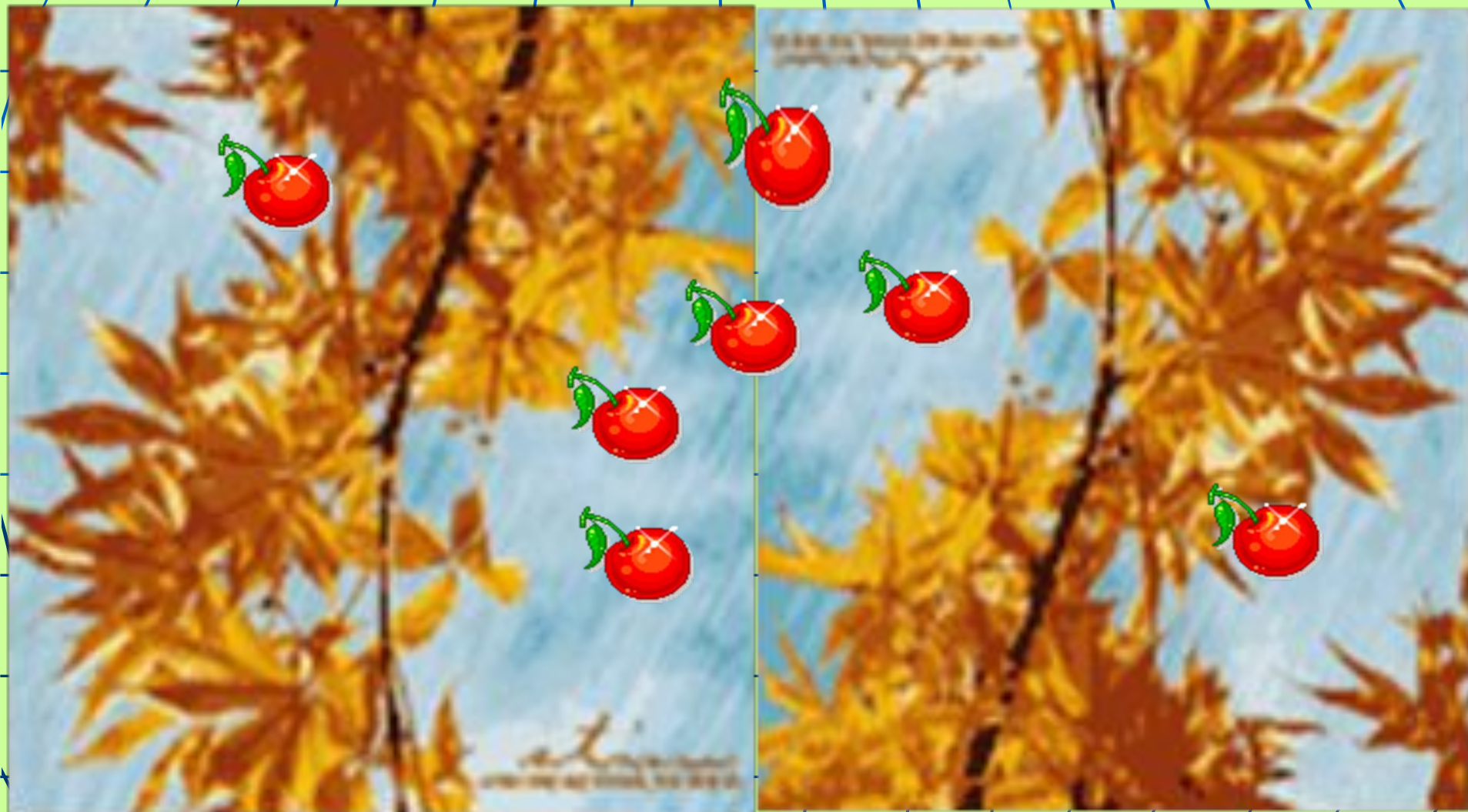
- $2 * 6$



$5 * 1$

$6 * 6$

Сколько яблок на деревьях?





*Цифра семь! Цифра семь!
Цифра лёгкая совсем!*

- Цифра семь известна всем,
- Что сказать о цифре семь?
- Семь исполнилось Серёже,
- Стал умнее он и строже.
- Пролетит за годом год,
- В класс седьмой он перейдёт.



РЕБУС

● 7 Я



■ (Семья)

Задачи в стихах.

В небе радуга - дуга
Замыкает берега.

- Расцветая всё ясней,
- Чудо – краски светят
- В ней!
- Пусть ответит
- Тот, кто знает
- Или сможет сосчитать,
- Сколько красок
- В ней играет, озаря моря г





СКОЛЬКО НОГ у паука




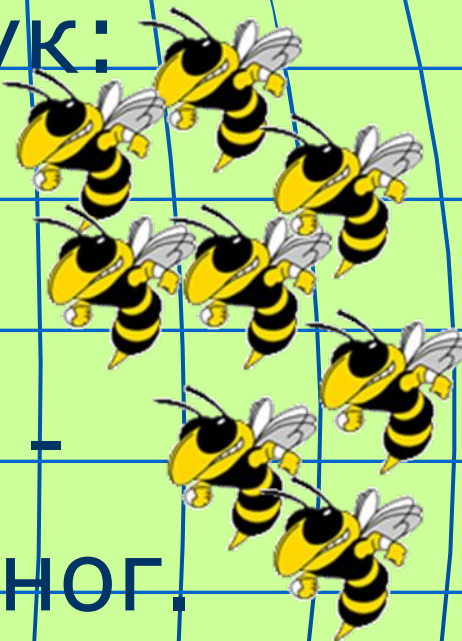
■ Диво дивное – паук:

■ Восемь ног

■ И восемь рук!

■ Если надо наутёк –

■ Выручают восемь ног.



Сколько мишек гуляют в лесу?



Наступило лето и 9 весёлых утят решили погулять



Ноль встаёт за единицей –
Цифра **10** на странице.



Стихотворения про десятку.

За девятью идёт ДЕСЯТКА

Ты это знаешь?

Молодец!

Сочти все пальцы по
порядку

И счёту нашему конец.



Лухомникова

Задачи на смекалку

- 1. Запиши число 8 двумя одинаковыми цифрами , соединив их знаками.
- 2. В двух коробках восемь карандашей. Отгадайте, сколько их может быть в каждой коробке?
- 3. Стоял в поле дуб. На одной его ветке было 4 яблока, а на другой только одно. Сколько всего было яблок?

Отгадки на другом слайде.



Отгадки.

- 1. $4+4=8$
- 2. $(6+2)$, $(1+7)$,
 $(5+3)$...
- 3. На дубе не растут
яблоки.

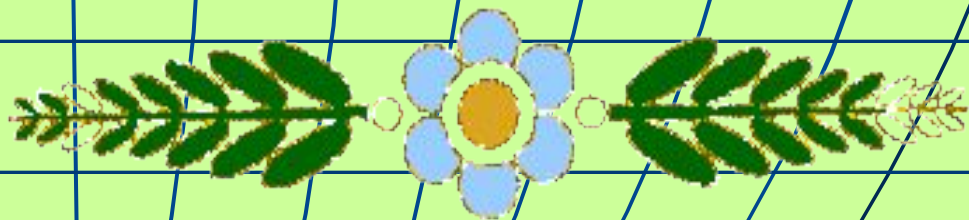


Спасибо , дружок, за работу!

- До свидания, до следующих встреч!



Желаю тебе
больших успехов в
учёбе!



Используемые источники:

- 1. В. Волина «Праздник числа»
(Занимательная математика для детей).
- 2. «Моя первая книга».
«Издательский Дом Ридерз Дайджест» 2006.
- 3. В. В, Волина «Весёлые цифры».
2002
- 4. Картинки из серии «Анимашки».

