

Внеурочная деятельность **3** класс  
Умники и умницы

Занятие **2**



# Сколько?

Раз н



ОДИН

**Семь раз отмерь, один раз отрежь.**

**Чем**

**2017**

**ИХ**

**8**





8

К  
двухко



на  
дах, а их

Ско



олёс?

7





**к месяцев**



**Март,**

**сентябрь**

Что у зайца позади, а у цапли  
вперед



**Буква**

«Д»



Как  
почт



Голу

би



**Какое число будет в следующую  
субботу?**



**Какое число было 5 дней назад?**

Наибольшее двузначное  
число

99



1. Алик и Боря собирали марки: кто-то английские, кто-то немецкие.



У Алика были английские марки. Кто из ребят собирал немецкие?

Боря



**2.** На одной странице  
нарисованы яблоко и  
груша, на другой -  
морковь и слива.



Что из  
нарисованного на  
второй странице  
подходит к первой?



**СЛИВА**





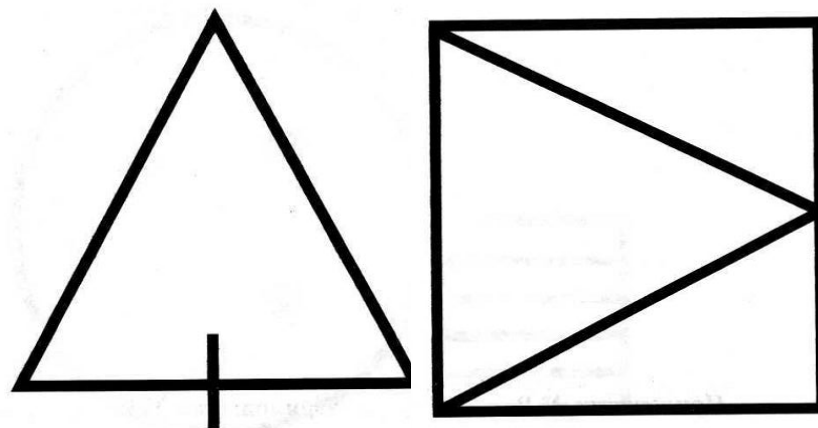
От дома Пятачка до  
колодца **30** м. Сколько  
ему надо пройти, чтобы  
принести ведро воды?

**60** м

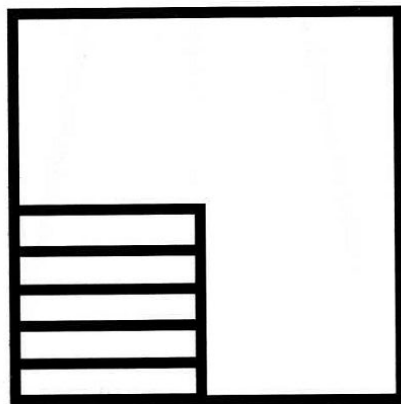





**Запомни и нарисуй**



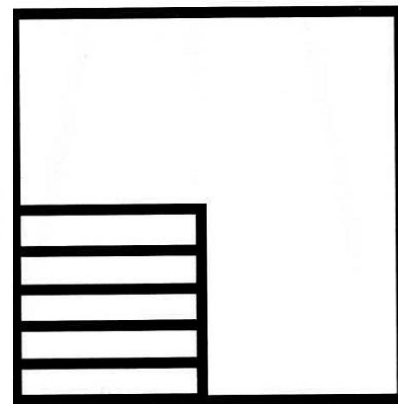


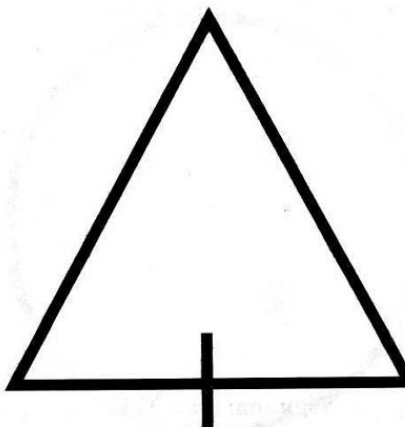









# Проверь






1	2	3	4	5	6	7
О	Р	Д	О	В	О	Х

---

# Хоро







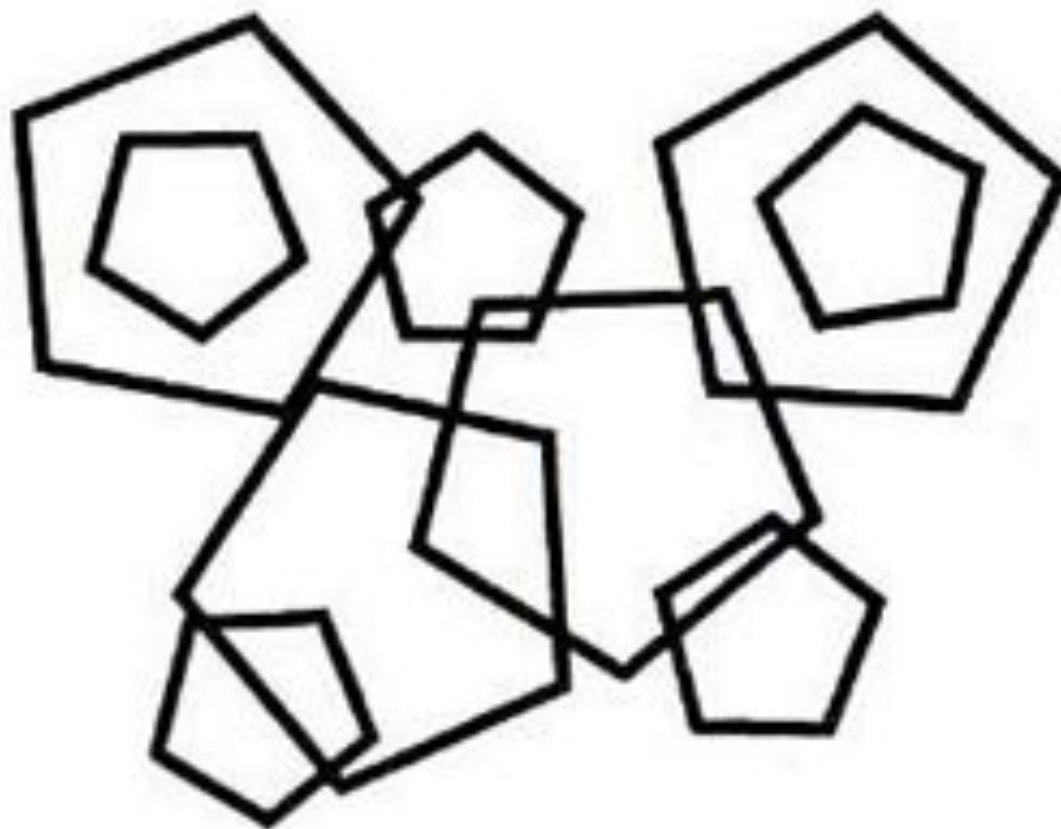
1	2	3	4	5	6	7
Л	О	Д	Е	М	Я	И

\_\_\_\_\_

# Мелло




Сколько ещё фигурок в на рисунке?



Четырёмгольники



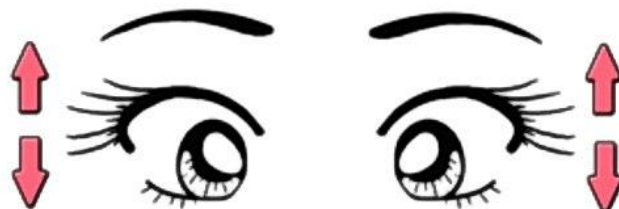
Как вы думаете, какая Баба-Яга живёт в этой избушке?



# Гимнастика для глаз



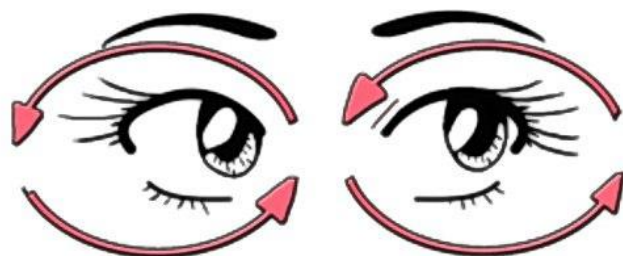
1. Крепко зажмурились пару секунд.



2. Быстро моргаем минутку.



3. Смотрим вверх, вниз, вправо, влево 2 раза.



4. Вращаем по кругу туда и обратно.



5. Закроем глаза. Темнота 3 секунды.




6. Откроем глаза, начнём заниматься.





# Напишите носом























**В О П**





# Магический треугольник

31

32

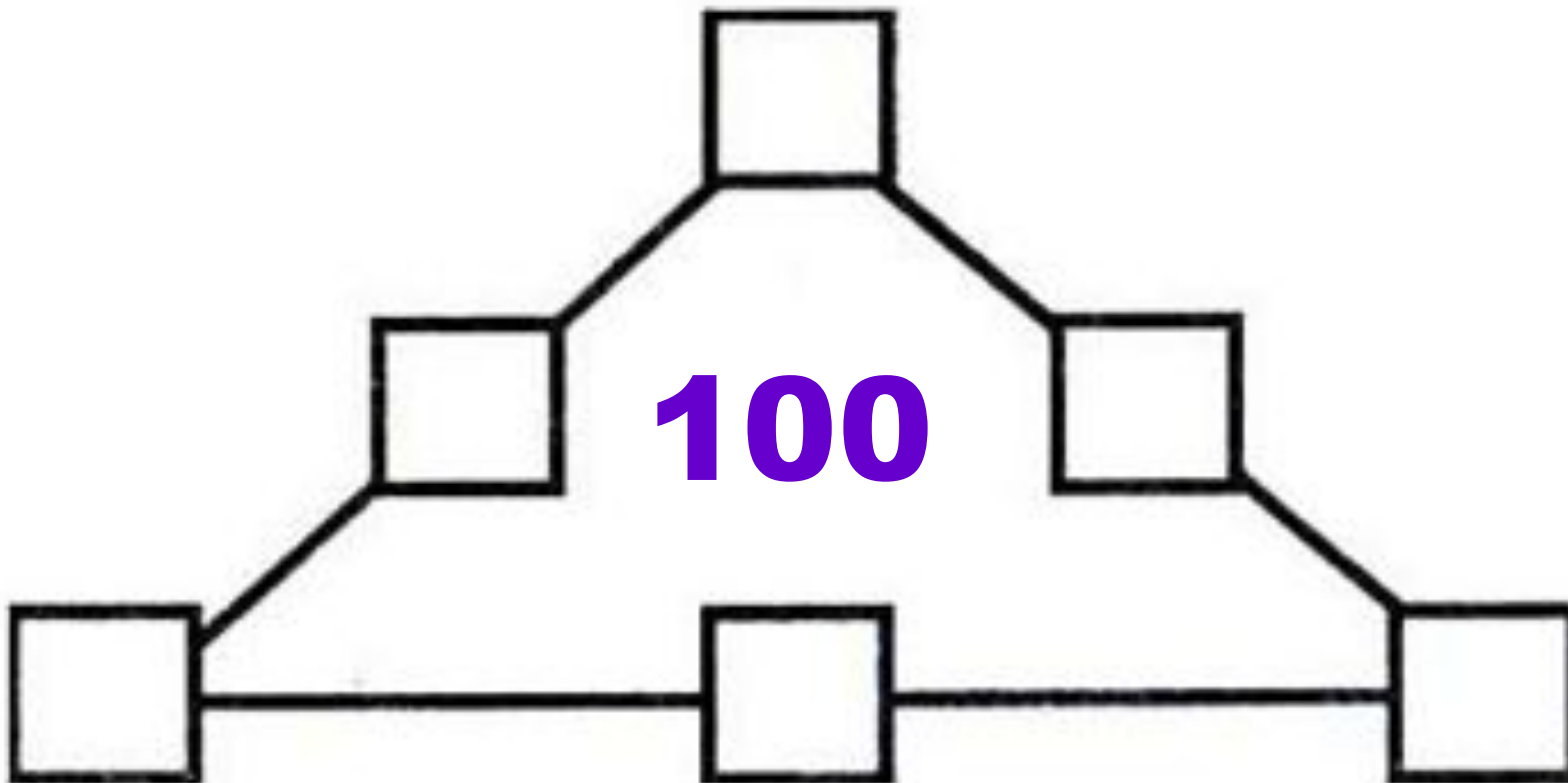
33

34

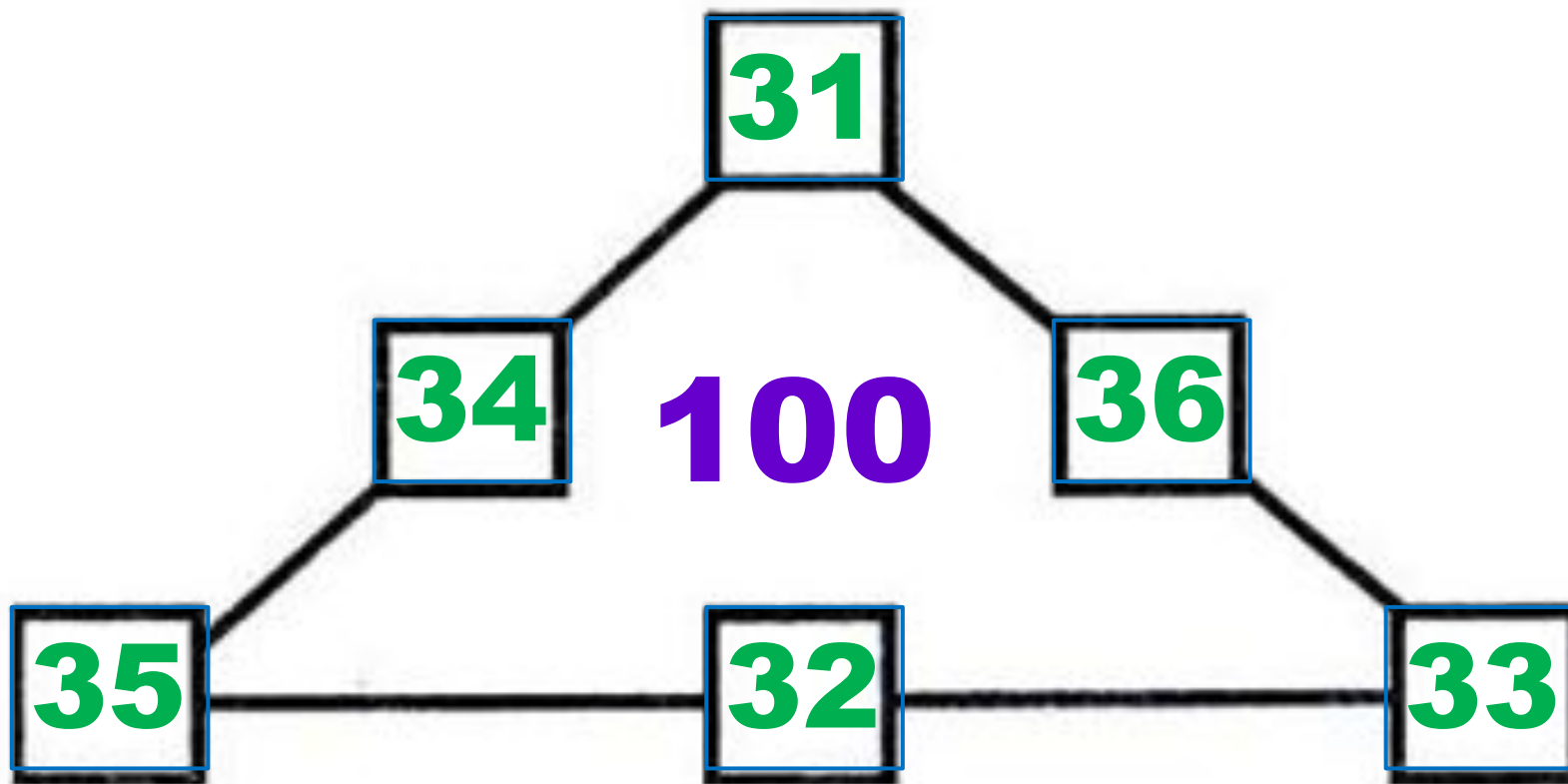
35

36

100



# Магический треугольник



# АНТОНИМЫ



Веселый

Грустный



**Петь хорошо вместе, а  
говорить ОТДЕЛЬНО.**

Труд всегда даёт, а лень  
только берёт.



Родная сторона - мать,  
чужая - мачеха.



Лучше пощёчина от  
друга, чем хлеб от врага.

Не хитро **взять**, хитро  
**отдать**■



Маленькое дело лучше  
большого безделья.



У мудрого человека  
длинные уши и короткий  
язык.





Пока молод, не страшен  
ни жар, ни холод.

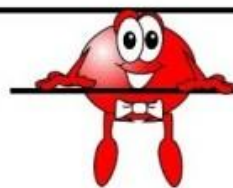
Не было бы счастья, да  
несчастье помогло.

Не верь началу, верь  
концу. ■




А сейчас отдохнём. Наложите левую руку на голову и погладьте себя от затылка ко лбу. В это же время правой рукой делайте круговые движения по животу. Действия выполняйте одновременно.





ДО



РЕ



МИ



ФА



СОЛЬ



ЛЯ



СИ

 ля

Оля, или  
Юля, или  
Аля



ля

Коля, или

Толя, или

Валя, или


Галя



Фа



Фаина



Андрей

Ми



Миша или Мила



Людмила






СИ




Василий



МакСИМ



Фёдор



Федора



## Нестандартные задачи

8. Толя ехал в школу на велосипеде. Занятия в школе начинаются в 9 часов. В 8 часов 40 мин он уже проехал половину пути. Если Толя будет продолжать ехать с такой же скоростью, то приедет в школу за 10 мин до начала занятий. Сколько минут Толя ехал в школу?

**Решение:** Толя придёт в школу в **8 часов 50 минут**. Значит, половину оставшегося пути он проедет за **10 минут**. Следовательно, на весь путь до школы он затратил **20 минут**. **Ответ: 20 минут.**



## Нестандартные задачи

9. В три палатки завезли разное количество мороженого. Причём в третью завезли столько, сколько в первые две вместе. А в первую завезли больше, чем во вторую. Сколько коробок мороженого привезли в каждую палатку, если всего привезли 10 коробок?





## Нестандартные задачи

10. Пакет пряников и связка баранок вместе весят 9 кг, а два пакета пряников и связка баранок вместе весят 13 кг. Сколько весит один пакет пряников и сколько весит одна связка баранок?



**13** КГ



**Решение:**

**$13 - 9 = 4$  (кг)** - весит один пакет пряников,

**$9 - 4 = 5$  (кг)** - весит связка баранок.

## Материалы:

О. Холодова

**X73 Юным умникам и умницам: Задания по развитию познавательных способностей (8 – 9 лет)/ Методическое пособие, 3 класс. – 3-е изд, перераб. – М.: Росткнига, 2008. - 240 с. – ISBN 978-5-7804-0379-1.**

Фото – **Google** (ресурсы интернета)

Разминку подготовила учитель начальных классов

Семёнова Елена Васильевна

**[https://znanio.ru/media/yunym\\_umnikam\\_i\\_umnitsam\\_3\\_klass-243545](https://znanio.ru/media/yunym_umnikam_i_umnitsam_3_klass-243545)**



