

**ЗАКРЫТО**

**ВВЕДИТЕ  
КОД!**





# РЕШЕНИЕ ЗАДАЧ

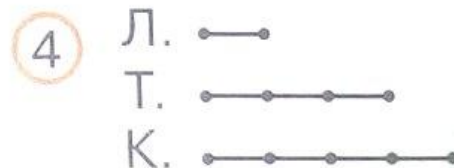
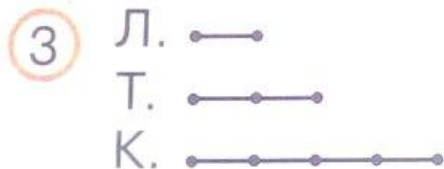

# Задача 1

Сколько всего мест в кинотеатре, если в большом зале кинотеатра 700 мест, а в малом на 200 мест меньше.

## Задача 2

**264.** У Люды 5 значков. У Тани в 3 раза больше, чем у Люды. У Кати значков столько, сколько их у Люды и у Тани вместе. Во сколько раз больше значков у Кати, чем у Люды?

- Выбери схему, соответствующую условию, и ответь на вопрос задачи.




## Задача 3

**Сравни тексты задач. Чем они похожи? Чем отличаются? Верно ли утверждение, что решение одинаково? Реши задачу.**

- Возле дома росло 13 яблонь и 10 вишневых деревьев. Сколько фруктовых деревьев росло возле дома?
- Возле дома росло 13 яблонь, 3 березы и 10 вишневых деревьев. Сколько фруктовых деревьев росло возле дома?

## Задача 4

У одной закройщицы было 25 метров ткани, у другой 15 метров. Из всей ткани они сшили платья, расходуя на каждое по 5 метров. Сколько всего платьев они сшили?



# ЗАКРЫТО

## ВВЕДИТЕ КОД!

120040 23 8





**Выполните задание на выбор:**

- 1. выполнить в учебнике .№ 265, 266**
- 2. выполнить в учебнике № 266, составить на листочках задачу для одноклассников.**