

ГБОУ СОШ п.г.т. Петра Дубрава

1 класс

М А Т Е М А Т И К А


Т

Е

С

Т

Афанасьева Т.А., учитель начальных классов



1. В каком числе 1 десяток и 9 единиц?



1

91




2


19



3

10





2. Чему равна сумма чисел 2 и 8?



1

10




2


9



3

6





3. Какие числа идут за числом 15



1

16


2


14



3

17





4. В 1дм



1

1 см


2


100 см



3

10 см





5. Виктору 15 лет, а его сестра на 5 лет моложе. Сколько лет сестре?



1

10



2


20



3

5





6. Какая фигура имеет 4 угла?



1

квадрат


2


треугольник



3

прямоугольник





7. У Айболита было сегодня 9  
пациентов, а вчера на 3 меньше.  
Сколько пациентов было вчера?



1

5




2

6




3

12







8. Какие числа больше, чем 16?



1

15


2


20



3

19





9.  $17-7=$



1

9


2


7



3

10





10. У Ани 5 марок, у Антона на 2 больше.  
Сколько марок у Антона?



1

2


2


3



3

7





11. Какое число меньше 20 на 1?



1

21




2

19



3

18



# Ссылки на картинки:

1. <http://www.clker.com/clipart-little-doll.html> - маленькая кукла в красном;
2. <http://www.clker.com/clipart-purple-dress-girl.html> - кукла в фиолетовом платье;
3. <http://www.clker.com/clipart-notepad-sticky.html> - желтый лист бумаги,
4. <http://www.clker.com/clipart-number-one-light-blue.html> - цифра 1;
5. <http://www.clker.com/clipart-animal-number-two.html> - цифра 2;
6. <http://www.clker.com/clipart-animal-number-three.html> - цифра 3;
7. <http://www.clker.com/clipart-animal-number-four.html> - цифра 4;
8. <http://www.clker.com/clipart-animal-number-five.html> - цифра 5;
9. <http://www.clker.com/clipart-animal-number-six-.html> - цифра 6.

