


УРОК МАТЕМАТИКИ 4 КЛАСС



Устный счёт

Найдите площадь и периметр кухни
длиной 7 м и шириной 4 м.



УСТНЫЙ СЧЁТ

Работа с величинами

$$4 \text{ кг } 75 \text{ г} = \dots \text{ г}$$

$$2 \text{ т } 5 \text{ ц} = \dots \text{ ц}$$

$$12 \text{ ц } 6 \text{ кг} = \dots \text{ кг}$$

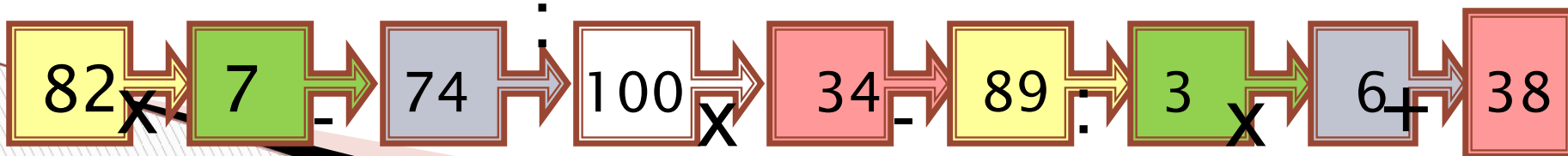
$$2300 \text{ г} = \dots \text{ кг} \dots \text{ г}$$

$$5600 \text{ кг} = \dots \text{ ц}$$




Олимпийский вид спорта, объединяющий лыжи и стрельбу

198 бобслей
199 кёрлинг
200 биатлон
201 хоккей



Соединить картинку со значением скорости.



	10 км/ч
	4 км/ч
	90 км/ч
	60 км/ч
	900 км/ч

Закончи предложение:

**-Чтобы найти время
движения, нужно...**

**-Чтобы найти скорость
движения, нужно...**

**-Чтобы найти расстояние ,
нужно ...**


5

← KM/Ч



7

KM/Ч →



? KM

5

← KM/Ч



24

7

→ KM/Ч



? KM

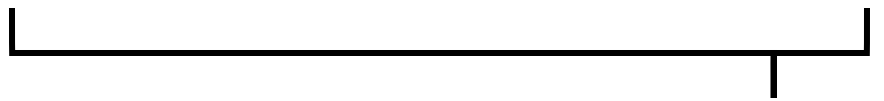
10

KM

5
← KM/ч



7
→ KM/ч



? KM

14

KM

5
←
KM/Ч




7
→
KM/Ч



10
KM

14
KM

24
KM




5

← KM/Ч



7

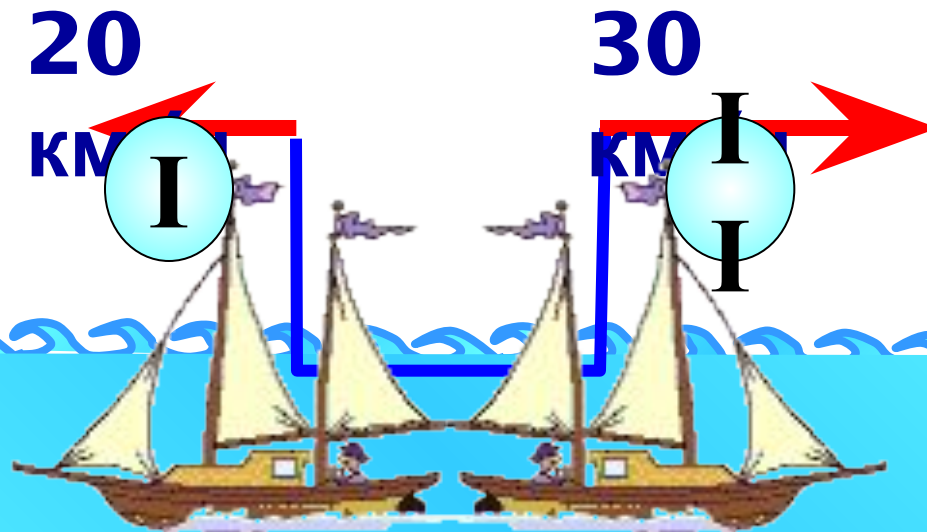
KM/Ч →



? KM

Два катера плывут в противоположных направлениях со скоростями 20 км/ч и 30 км/ч. Какое расстояние между ними будет через 3 часа?

Показать (2)




40

$\overleftarrow{\text{KM/Ч}}$

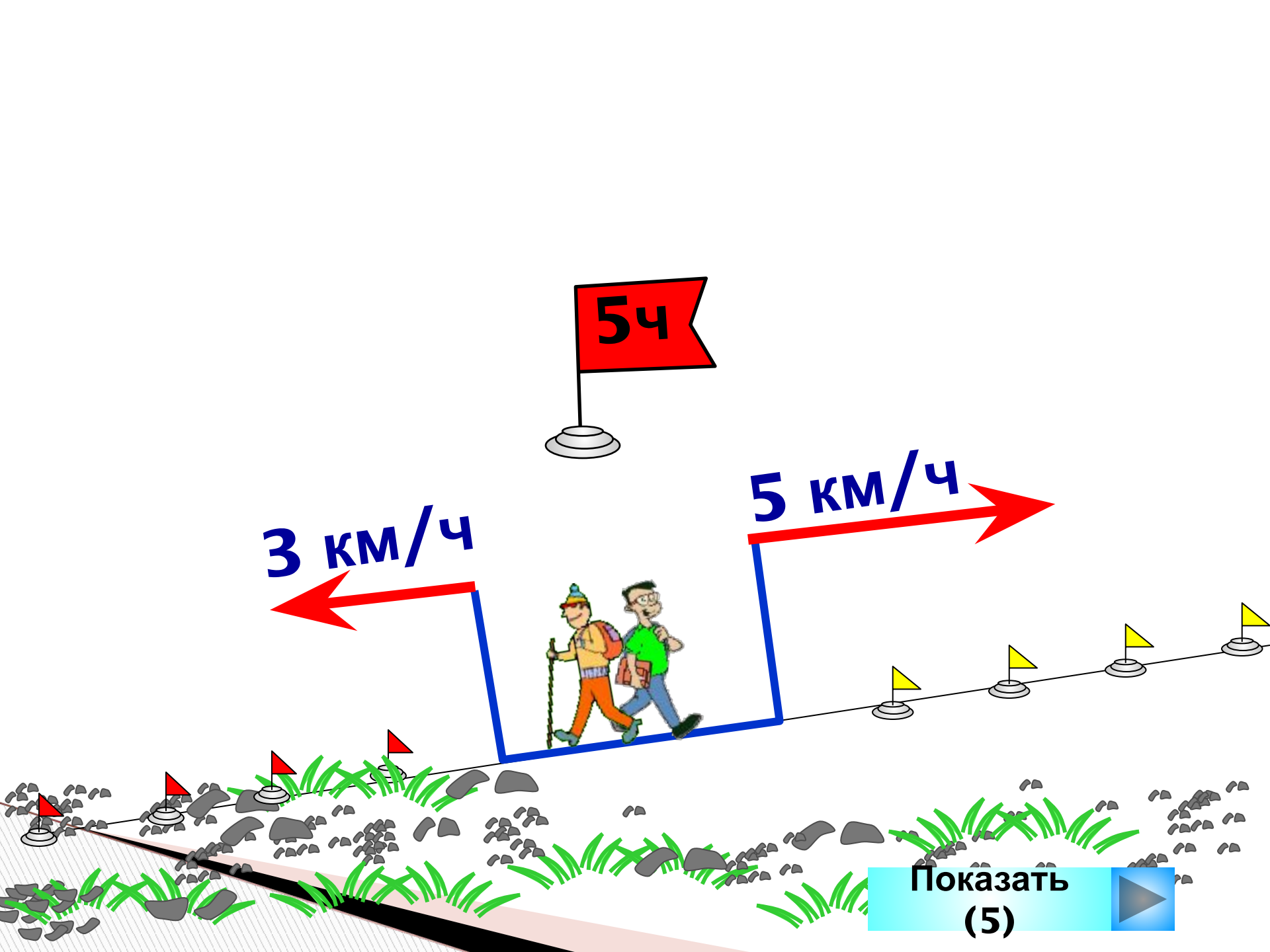
4ч

10

$\overrightarrow{\text{KM/Ч}}$



? KM



5ч

3 км/ч

5 км/ч

Показать
(5)

