



Число 8. Цифра 8.



УСТНЫЙ СЧЁТ



Назови предыдущие числа.



6

8

10



Увеличь данные числа на 2.



3

6

8



Вставь пропущенные
числа.




$$3 + 4 = 7$$

$$2 + 5 = 7$$

$$1 + 6 = 7$$




Стрекоза сидит не на цветке и не на листке. Кузнечик сидит не на грибке и не на цветке. Божья коровка сидит не на листке и не на грибке. Кто на чем сидит?





5




Сколько треугольников на рисунке?



Решила старушка ватрушки испечь.
Поставила тесто, да печь затопила.
Решила старушка ватрушки испечь,
А сколько их надо — совсем позабыла.
Две штучки — для внучки,
Две штучки — для деда,
Две штучки — для Тани,
Дочурки соседа...
Считала, считала, да сбилась,
А печь-то совсем протопилась!
Помоги старушке сосчитать ватрушки.

6

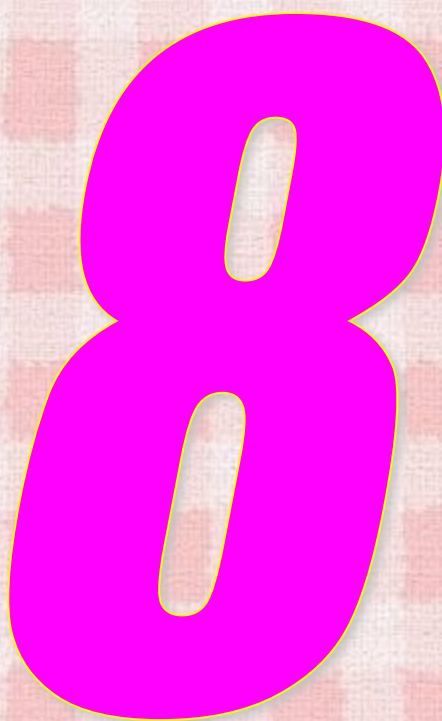


НОВЫЙ МАТЕРИАЛ






Вилась веревочка, вилась,
В две петельки заплелась.
"Что за цифра?" - маму спросим.
Мама нам ответит: "Восемь".



Цифра восемь так вкусна:
Из двух бубликов она.

Быстро ходит Осьминог.
- У него же восемь ног!
Быстро нить плетет Паук.
- У него же восемь рук!
Кто бы мне придумать смог
Восемь рук
И вос





8

Утки плавают в пруду
И ныряют на ходу.
Ведь еще не скоро осень -
Пишет Мурка цифру **ВОСЕМЬ**.




8

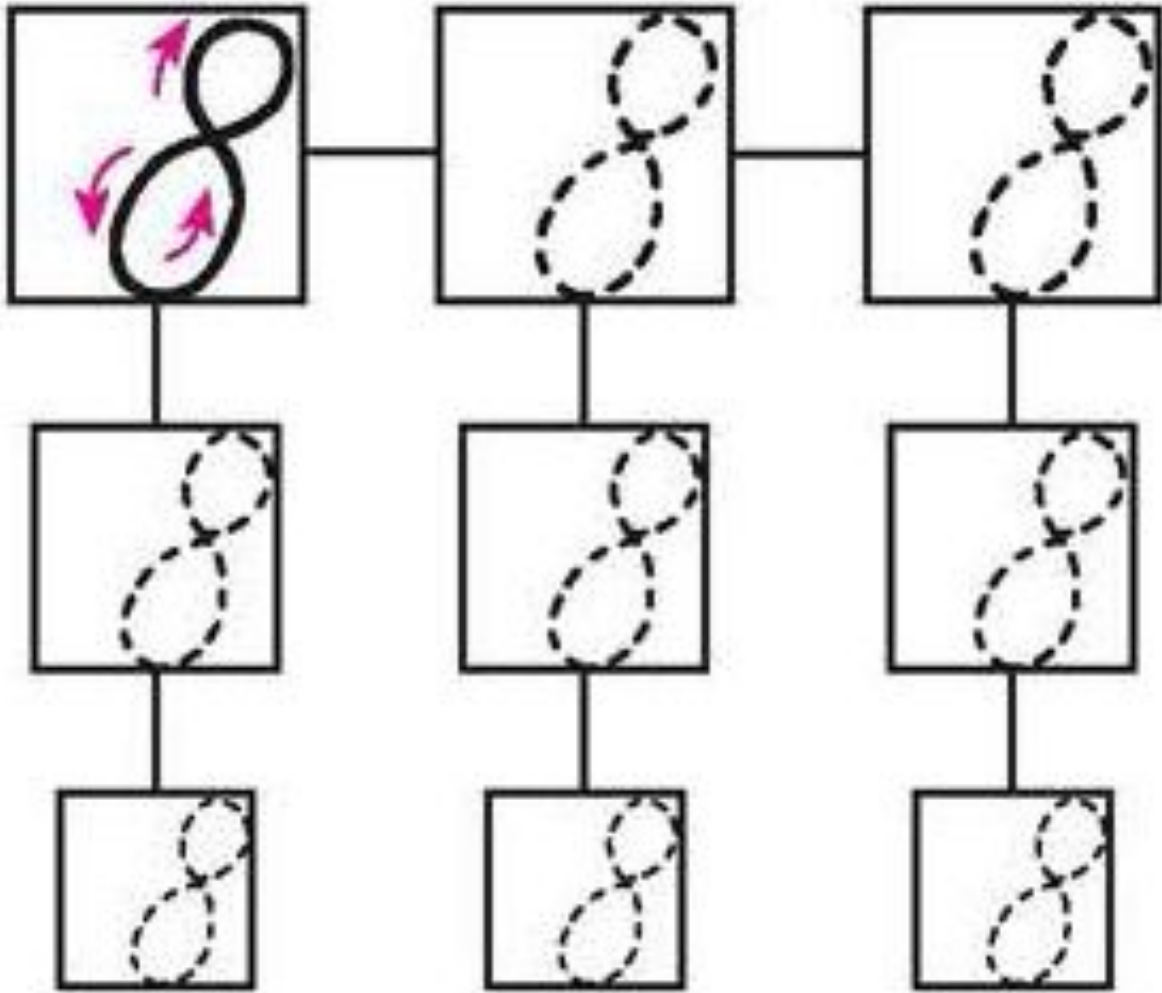




У восьмёрки два кружка.
Нарисуй снеговика:
На одном кружке - другой.
Цифра восемь пред
тобой!

Два колечка нарисуй,
То побольше, что внизу.
Плавно их соедини,
Вот и всё.
Теперь взгляни!





Page 2



7	<	5				8	-	1	=	7
8	>	4				5	+	3	=	8

Рис. 4





8

7

1

6

2

5

3

4

4



$$3 + 5 = 8$$

$$4 + 4 = 8$$

$$7 + 1 = 8$$





Que 7

5	+	1	=	6
6	+	1	=	7
7	+	1	=	8

КОНЕЦ

