

ГУ «Железнодорожная средняя школа»

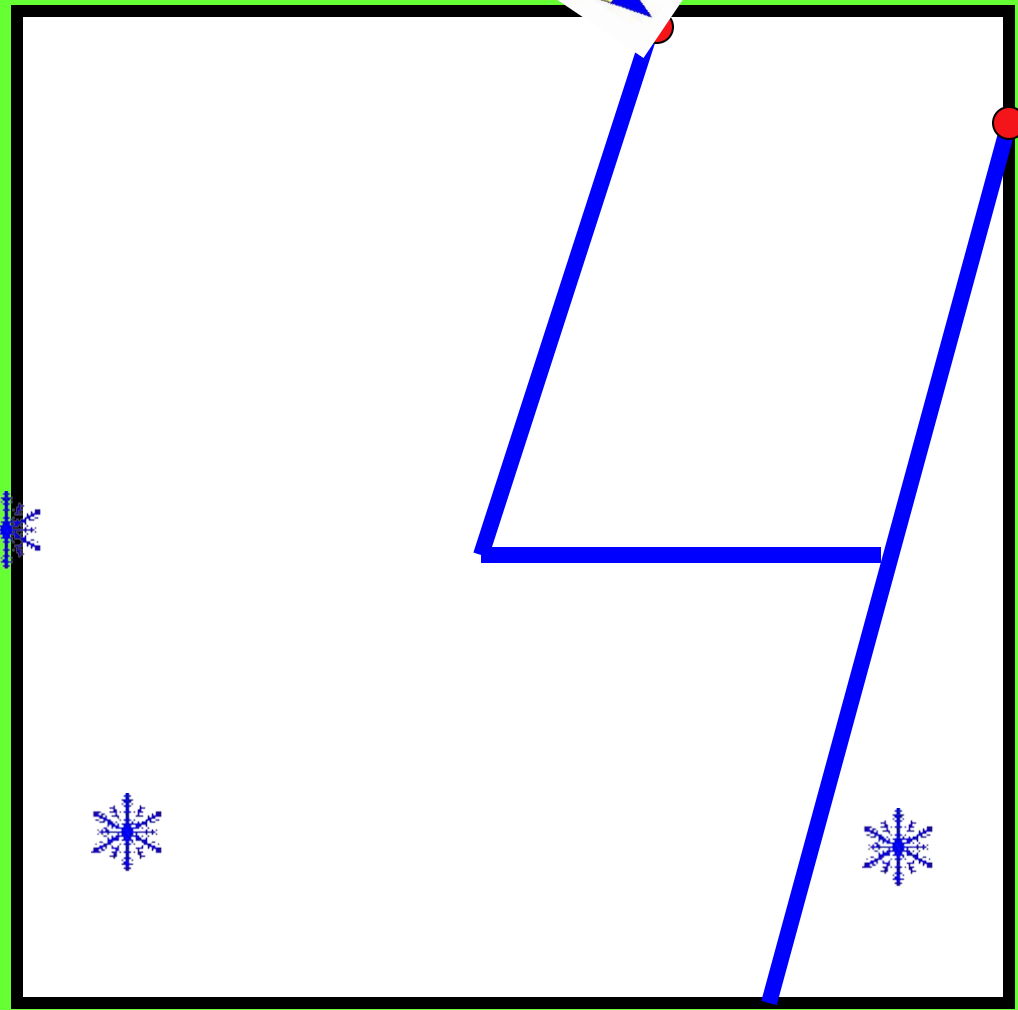

МАТЕМАТИКА


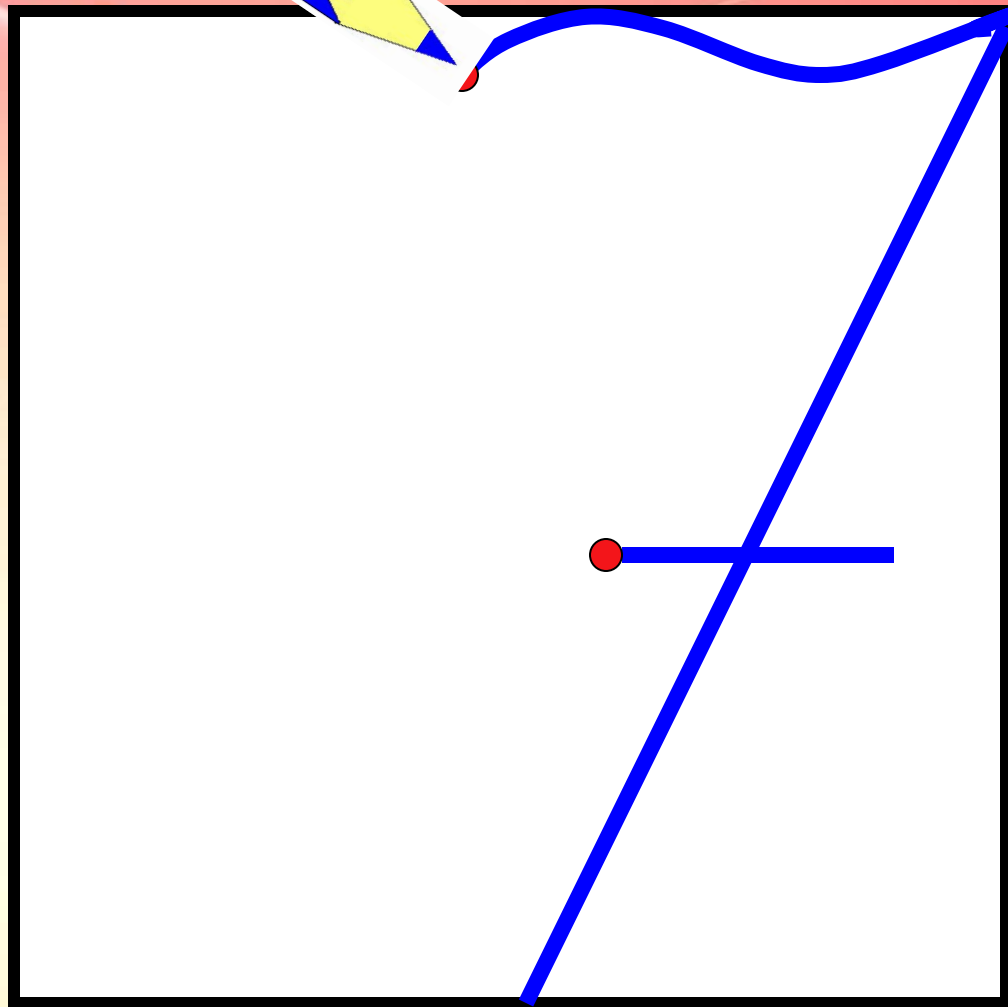
Даневская А.В.
Учитель начальных классов

A festive winter scene viewed through a window. In the foreground, a ginger and white cat sits on the left, looking out. The window shows a snowy night with a large, snow-covered house in the background. A sleigh is visible in the middle ground, and a snowman stands in the foreground. The scene is decorated with snow and greenery. The text "Зимняя сказка!" is overlaid in the center.

Зимняя сказка!







$$92-2=$$

УСТНЫЙ СЧЁТ



65

78

5

0

90



$$48 + 30 =$$



$$56 - 6 =$$



$$65+5=$$




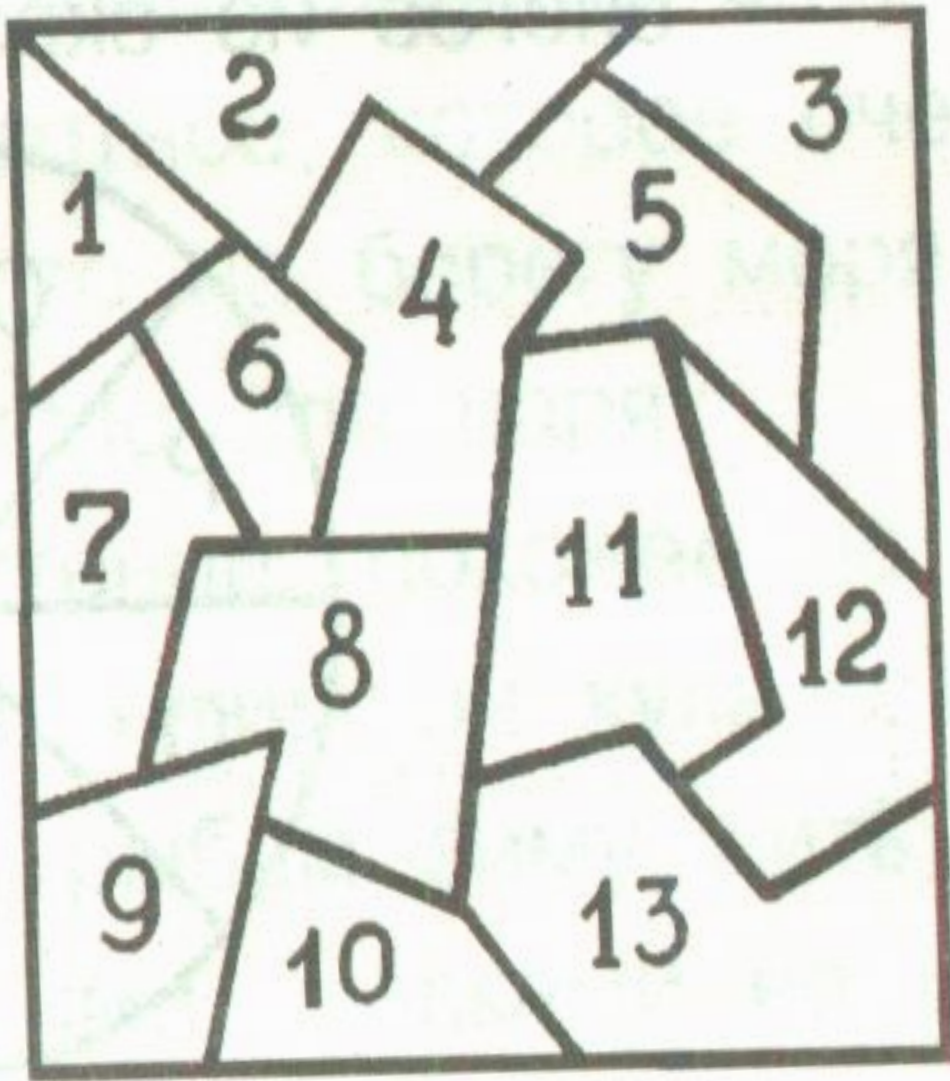
$$38 - 30 =$$



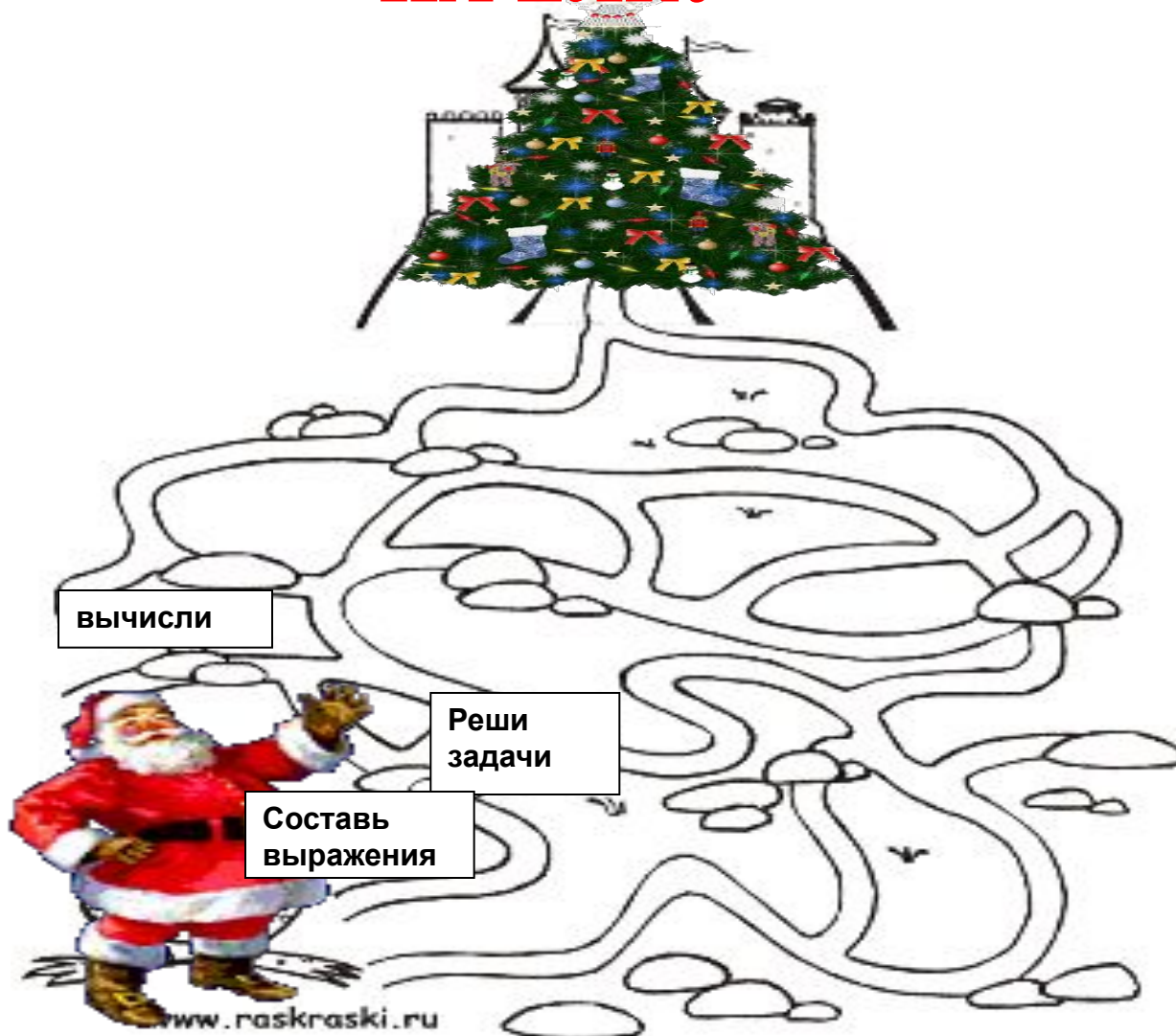
$$63 - 20 =$$







ПОМОГИТЕ ДЕДУ МОРОЗУ ПОПАСТЬ НА ЁЛКУ



Вычисли

Решите
задачи

Составь
выражения

www.raskraski.ru



ВЫПОЛНИ ЗАДАНИЯ:

Вычисли -№1,

Реши задачи- №2

Реши задачи - №3

Вырази №4



Задача №2 (а)

1 вагон – 35 пассажиров
2 вагон – ? на 5 >

$$(35+5)+35=75(\text{п.})$$

Ответ: всего 75 пассажиров.



Задача (б)

1 вагон – 35 п.
2 вагон – ? п. } 75 п. на ? больше

$$1) 75 - 35 = 40 (\text{п.})$$

$$2) 40 - 35 = 5 (\text{п.})$$

Ответ: на 5 пассажиров больше.



Задача №3 (а)

Было- 64 к.

Продали – 10к. и 30к.

Осталось- ?

$$64 - (10 + 30) = 24(\text{к.})$$

$$(64 - 10) - 30 = 24(\text{к.})$$

$$(64 - 30) - 10 = 24(\text{к.})$$

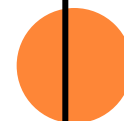
Ответ: осталось 24 коробки. 

ФИЗМИНУТКА



Составь задачи и реши их.

	цена	У тебя есть	осталось
	52 тг	59 тг	? тг
	23 тг	68 тг	? тг
	61 тг	95 тг	? тг



ВЫБЕРИТЕ

На «3»

$$X+33=43$$

$$b-34=34$$

На «4»

$$X+33=43$$

$$b-34=34$$

$$87-c=56$$

На «5»

$$X+33=43$$

$$b-34=34$$

$$65+x=90$$

$$87-c=56$$



Вырази

$$1 \text{ ч. } 5 \text{ мин} = 65 \text{ мин}$$

$$1 \text{ дм } 5 \text{ см} = 15 \text{ см}$$

$$83 \text{ мин} = 1 \text{ ч } 23 \text{ мин}$$

$$83 \text{ см} = 8 \text{ дм } 3 \text{ см}$$







СЕГОДНЯ НА УРОКЕ

НАУЧИЛСЯ

СМОГ

МОГУ ПОХВАЛИТЬ СЕБЯ

И ОДНОКЛАССНИКОВ ЗА



Я



Домашнее задание:
стр. 136 №7, №8





Спасибо за работу на уроке!

