

ШКОЛА «ЛЕНИВЫХ УЧИТЕЛЕЙ И ИХ ТАЛАНТЛИВЫХ УЧЕНИКОВ»



ПРЕДСТАВЛЯЕТ

МАТЕМАТИКА

3

КЛАСС



РАЗГАДАЙТЕ РЕБУСЫ И НАЗОВИТЕ КЛЮЧЕВЫЕ СЛОВА УРОКА



ПРОВЕРЬ СЕБЯ. ОБЪЯСНИ ТЕРМИНЫ.



ДОЛ
Я

ДРОБ
Ь

ЧИСЛИТЕ
ЛЬ
ЗНАМЕНАТЕ
ЛЬ

ТЕМА УРОКА:

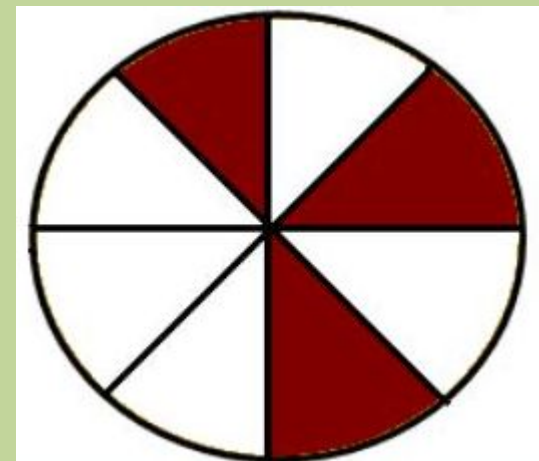
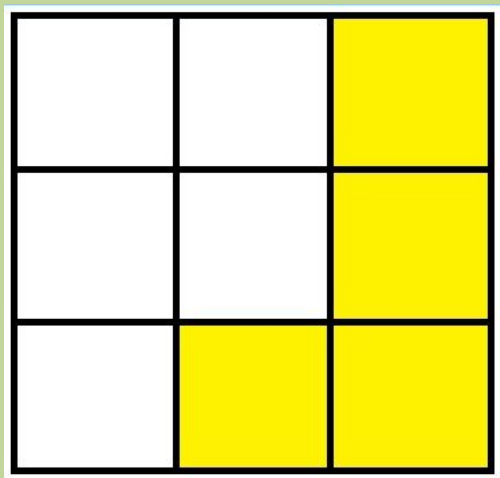
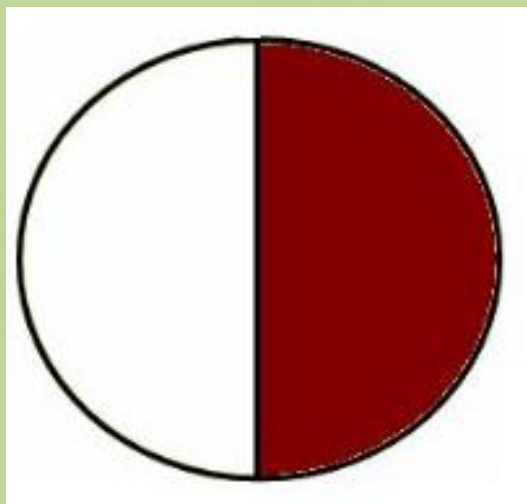
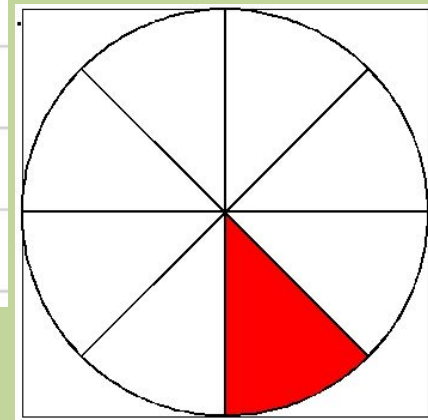
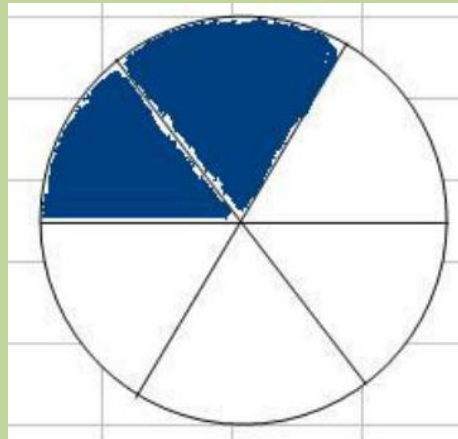
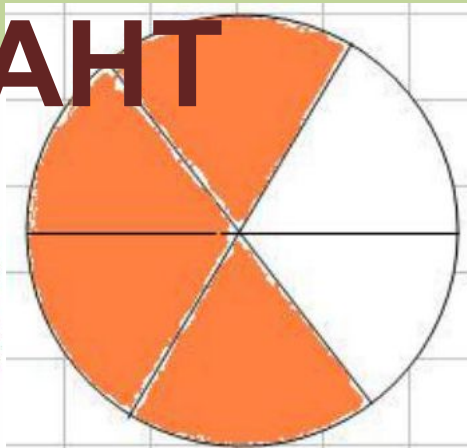
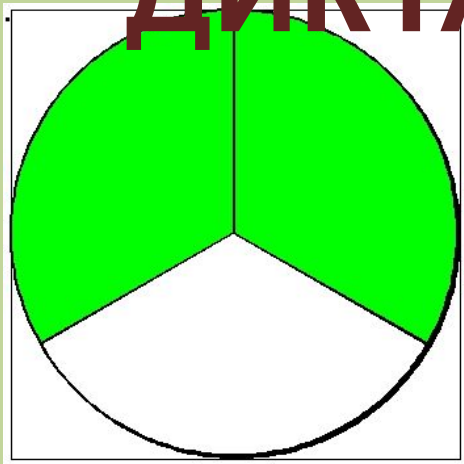
**ПРЕЗЕНТАЦИЯ
ЗНАНИЙ
ПО РАЗДЕЛУ «ДОЛИ»**

СОР 2А

КРИТЕРИИ УСПЕХА НА УРОКЕ

- УМЕЮ ЧИТАТЬ ДОЛИ И ЗАПИСЫВАТЬ ИХ ДРОБЯМИ;
- УМЕЮ СРАВНИВАТЬ ДРОБИ;
- УМЕЮ СОСТАВЛЯТЬ НЕРАВЕНСТВА С ДРОБЯМИ;
- УМЕЮ ВЫЧИСЛИТЬ ДОЛЮ ЧИСЛА;
- УМЕЮ НАЙТИ ЧИСЛО ПО ЕГО ЧАСТИ;
- УМЕЮ СОСТАВИТЬ КРАТКУЮ ЗАПИСЬ;
- УМЕЮ СОСТАВИТЬ ВЫРАЖЕНИЕ В РЕШЕНИИ ЗАДАЧИ;
- УМЕЮ ВЕРНО НАЙТИ ЗНАЧЕНИЕ

МАТЕМАТИЧЕСКИЙ ДИКТАНТ



ПРОВЕРЬ СЕБЯ:

<u>2</u>	<u>4</u>	<u>2</u>	<u>1</u>	<u>1</u>	<u>4</u>	<u>3</u>
3	6	6	8	2	9	8

Прочитайте дроби.

$$\frac{12}{13}$$

$$\frac{1}{6}$$

$$\frac{7}{18}$$

$$\frac{1}{48}$$

$$\frac{6}{10}$$

$$\frac{9}{25}$$

$$\frac{1}{56}$$

$$\frac{5}{8}$$



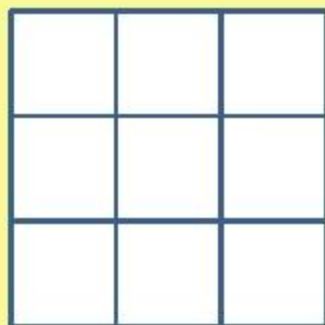
Необходимо закрасить в каждой фигуре часть,
соответствующую дроби

Г

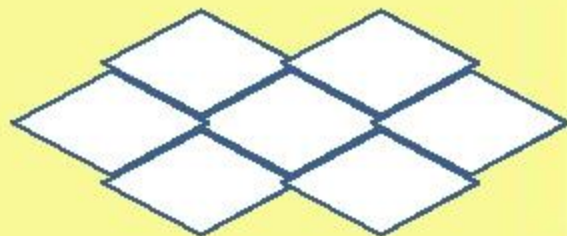
Р



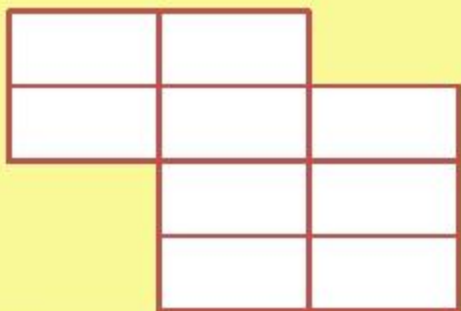
$\frac{5}{6}$



$\frac{2}{9}$



$\frac{3}{7}$



$\frac{4}{9}$



$\frac{2}{6}$

С
Р

Запишите дроби
в порядке
возрастания

$$\frac{3}{7}$$

$$\frac{2}{7}$$

$$\frac{8}{7}$$

$$\frac{9}{7}$$

$$\frac{7}{7}$$

$$\frac{7}{3}$$

$$\frac{4}{7}$$

$$\frac{1}{7}$$

$$\frac{6}{7}$$

$$\frac{5}{7}$$



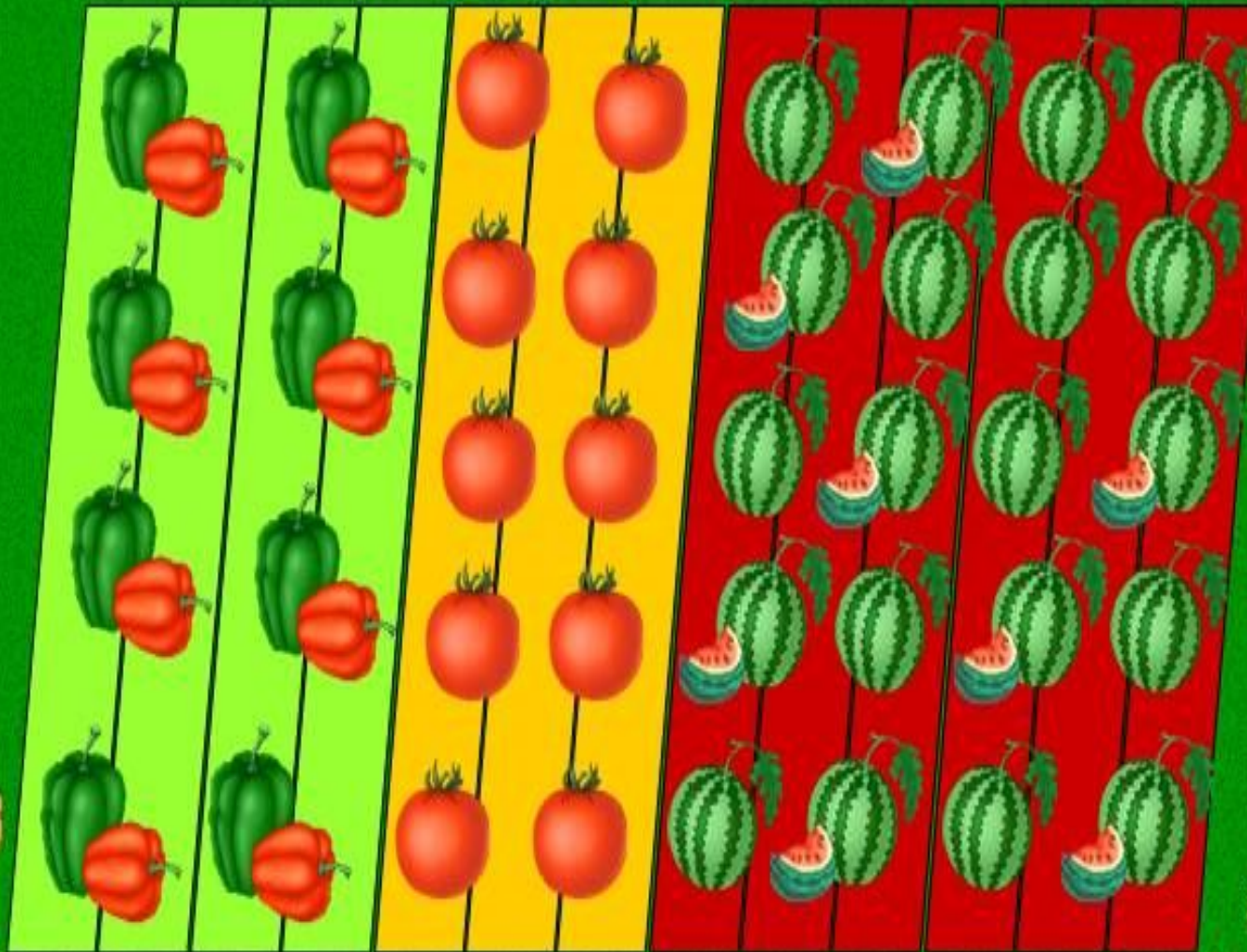
ПРОВЕРЬ СЕБЯ:

1 2 3 4 5 6 7 8 9
7 7 7 7 7 7 7 7 7

Перемена! !



Какая часть занята перцем, томатами и арбузами. Ответ укажите в виде неравенства.



ПРОВЕРЬ СЕБЯ:

4
13 3
13 6
13

4 > 3 6 > 4
13 13 13 13

3 < 4 4 < 6
13 13 13 13

СОСТАВЬ ЗАДАЧУ И

РЕШИ ЕЁ

Валя делала уроки 1 час. Шестую часть

этого времени она решала задачу.

Сколько минут Валя решала задачу?

1
ч



?

МИН

СОСТАВЬ ЗАДАЧУ И

ВЕЩИ ЕЁ

Мама испекла торт. Шестая часть его

весит 100 граммов.

Сколько весит целый торт?

?

Г.



100

Г.

ПРОВЕРЬ СЕБЯ:

Задача № 1.

$$1 \text{ ч} = 60 \text{ мин}$$

$$60 : 6 \cdot 1 = 10 \text{ (мин)}$$

Ответ: Валя решала задачу 10 мин

Задача № 2.

$$100 \cdot 6 : 1 = 600 \text{ (г)}$$

Ответ: торт весит 600 граммов.

ЛИСТ

САМООЦЕНКИ:

№	Дескрипторы (критерии успеха)	Да	Нет
1	Умею читать доли и записывать их дробями		
2	Умею сравнивать дроби и записывать их по порядку		
3	Умею составлять неравенства с дробями		
4	Умею вычислить долю числа		
5	Умею найти число по его части		
6	Составляю краткую запись с данными задачи		
7	Записываю выражение для решения задачи		
8	Умею верно найти значение выражения		
Всего баллов:			

