



МАТЕМАТИКА





Устный счёт

Арифметический диктант

Сумма чисел 8 и 2

Первое слагаемое 5, второе 3.
Найди сумму.

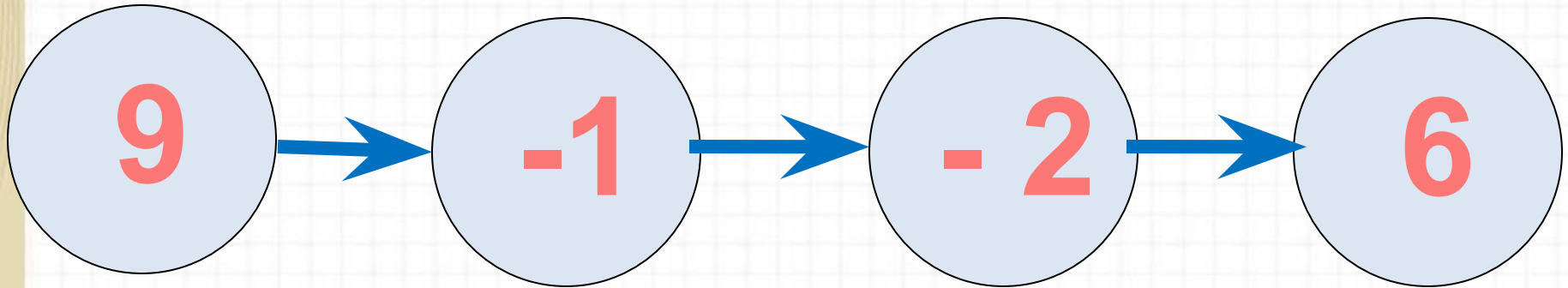
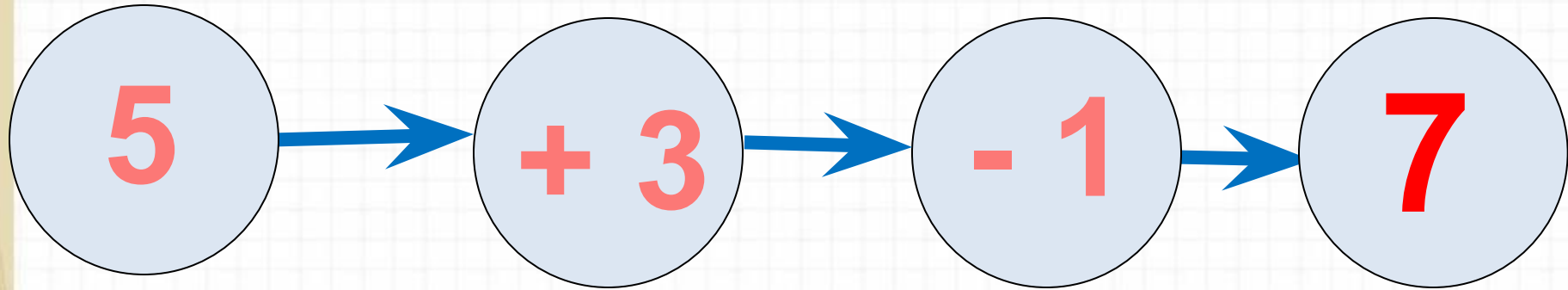
9 без 4

На сколько 5 больше 2?

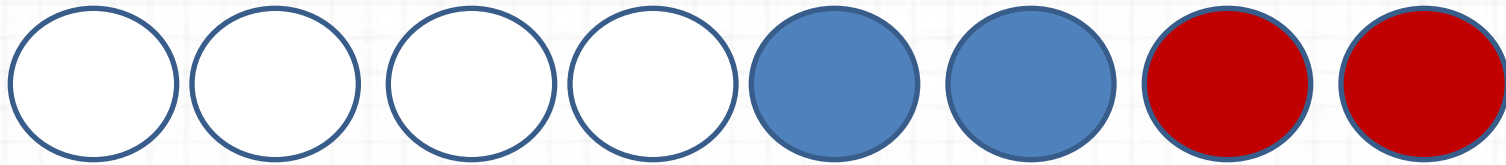

6 увеличить на 2

7 уменьшить на 3

Реши цепочки примеров.



Составь задачу



6

$$4 + 2 + 2 = 8$$


У Вики 8 конфет. 2 конфеты
она отдала Коле, а 3 конфеты
отдала Ире. Сколько конфет
осталось у Вики?

Ире Коле

8
- 2
- 3
= 3

6

Новый материал



Реши примеры

$$6 + 4 - 3 =$$

$$5 - 3 + 3 =$$

$$9 - 6 + 2 =$$

$$6 - 6 + 3 =$$

$$9 - 5 + 3 =$$

$$7 + 3 - 2 =$$

Закрепление изученного



Сравни

$5 + 2 \square 8 - 3$

$7 - 6 \square 3$

$7 - 3 \square 2 + 6$