



Решение задач

СТР. 63



К уроку № 41

«Школа России» 3 класс

Устный счёт

Найдите длину стороны квадрата, если его $P = 36$ см.



$$P = 36 \text{ см}$$

Какими числами нужно заполнить пропуски, чтобы получились верные равенства? 

$$42 : \square = 28 : \square$$

$$36 : \square = 54 : \square$$

$$21 : \square = 49 : \square$$

Найдите ошибку.



$$5 \text{ см} + 2 \text{ дм} = 52 \text{ см}$$

$$6 \text{ дм} + 7 \text{ см} = 67 \text{ см}$$

$$1 \text{ м} - 8 \text{ дм} = 2 \text{ см}$$

$$6 \text{ дм} - 5 \text{ см} = 1 \text{ дм}$$

$$4 \text{ см} - 7 \text{ мм} = 3 \text{ см } 3$$

мм

На пригорке возле ёлок

Ёжик яблоки считал:

8 под ёлкой, 8 за ёлкой,

8 в мешке за тем пригорком,

8 в избе на третьей полке,

8 под лавкою в саду.

Сколько яблок, как понять?

Ёж не может сосчитать.



$$8 \bullet 5 = 40 \text{ (я.)}$$

40

яблок


На сколько кг мешок капусты легче, чем мешок картошки?

Во сколько раз мешок капусты легче, чем мешок

на 15 кг

в 2

раза



30 кг



15 кг

Три одинаковые рыбы весят **9** кг. Сколько кг будут весить

4 таких же рыбы?


$$9 : 3 \bullet 4 = 12 \text{ кг}$$



12 кг

На **5** рубашек потребовалось **15** м ткани. Сколько м ткани



нужно для того, чтобы сшить **7** таких же рубашек?

$$15 : 5 \bullet 7 = 21 \text{ (м)}$$




21 м

Для шитья юбки нужно **2** м ткани, а для шитья рубашки на **1** м больше. Сколько потребуется м ткани для шитья



6 таких же рубашек?

$$(2 + 1) \cdot 6 = 18 \text{ (м)}$$



18 м

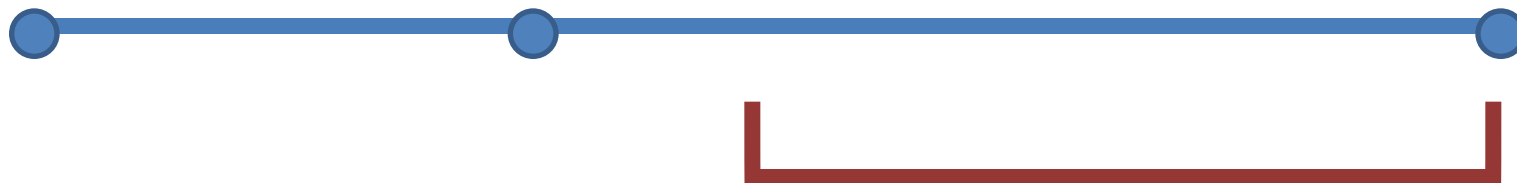
Составьте задачу по чертежу.

Решите её.

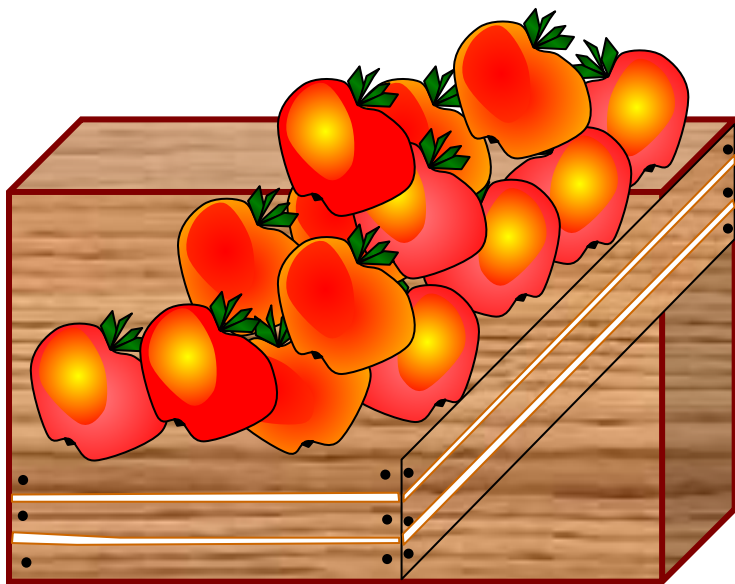


17 кг

20 кг



14 кг



Найдите площадь прямоугольника.



5 см

7 см

$$S = 35 \text{ см}^2$$

Задания на смекалку



В клетке находятся **3** кролика. Три девочки попросили дать им по одному кролику. Каждой девочке дали кролика. И все же в клетке остался один кролик. Как так получилось?



Одна девочка взяла клетку с кроликом.

конец