

устный счет на уроках математики в 1 классе.

Выполнила



Кузнецова Светлана Михайловна,
учитель начальных классов.

Тема


«Нумерация чисел от 1 до 10»





Какой предмет лишний?




Найди «лишнюю» фигуру.



«Лишняя» фигура



«Лишняя» фигура



Из каких геометрических фигур состоит рисунок?



Сколько их?

▲ 11

Игра «Лишнее число»



Проверь себя.

«Лишнее» число

3

Молодцы!

Игра «Соседи»





Ребусы

по2л

7я

с3ж

ак3са

Проверь себя.

ПОДВАЛ

СЕМЬЯ

СТРИЖ

АКТРИСА

МОЛОДЦЫ!

Тема

«Сложение и вычитание чисел в пределах 10».



Игра «Девочки – мальчики»

$$3+2$$

$$9-4$$

$$5+1$$

$$4+3$$

$$10-3$$



$$6-2$$

$$8+1$$

$$10-4$$

Игра «Подарки для Миши»

$4+2$



$7+3$



$9-2$



$5-3$



Игра «Цветочные часы»




$$8 - 3 = 5$$




$$5 - 2 = 3$$



$$5 + 3 = 8$$






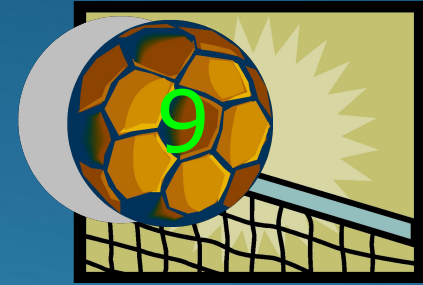



$$9 - 3 = 6$$



$$10 - 3 = 7$$

Игра «Мяч в ворота»»



Игра «Развесь игрушки на ёлку»



Веселые задачи


Три щенка
Плюс мама – лайка.
Сколько будет
Сосчитай-ка!

$$3 + 1 = 4$$



Два кубика у Миши,
Четыре – у Наташи.
Вы кубики все эти
Скорее сосчитайте, дети!

$$2+4=6$$



Спасибо
за внимание!