

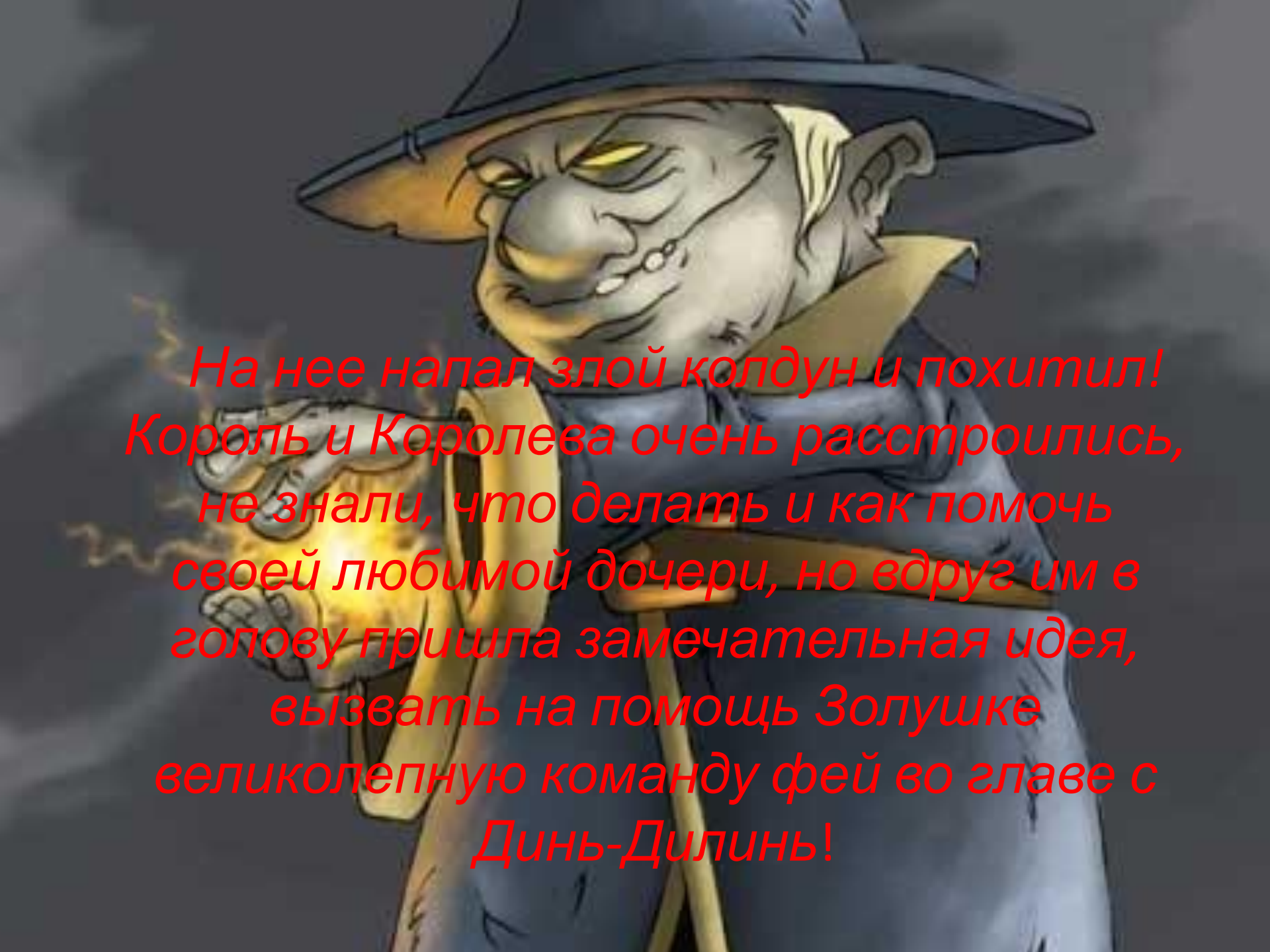


*Урок-сказка по
математике:
«Помоги
принцессе»*



*Жила-была на свете одна принцесса,
звали ее Золушка! Король и Королева
очень любили свою дочку, что всегда
ей все разрешали.*


*Но однажды в один прекрасный день,
когда Золушка гуляла по саду...*



*На нее напал злой колдун и похитил!
Король и Королева очень расстроились,
не знали, что делать и как помочь
своей любимой дочери, но вдруг им в
голову пришла замечательная идея,
вызвать на помощь Золушке
великолепную команду фей во главе с
Динь-Дилинь!*



Феи прибыли на помощь очень быстро, но не тут то было, злой колдун не захотел так просто отпустить Золушку, а дал феям задания, но сами они не смогут справиться, и поэтому им нужна ваша помощь, ребята! И для того, чтобы спасти принцессу, Динь предлагает нам с вами отправиться в дальнее путешествие по сказочной стране Математике!



$$5+5=$$




$$7-4=$$



$$3-3=$$

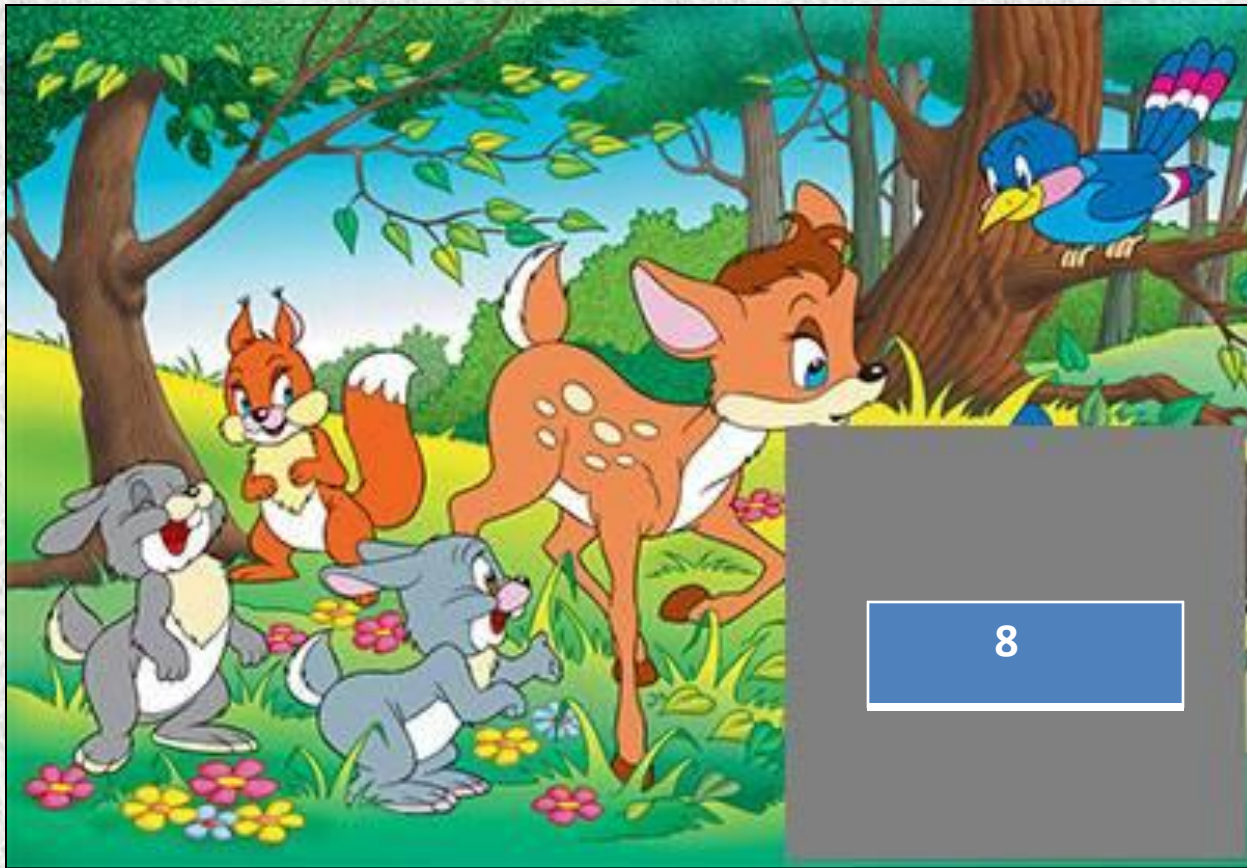


МОЛОДЕЦІ!!!







УРА-УРА!!!



8






ПРАВИЛЬНО!!!



5



10-2=



8-3=



6+3=



БЕРХО!!!

Страна Математика

Давайте посчитаем по порядку и обратно!

1 2 3 4 5 6 7 8 9 10

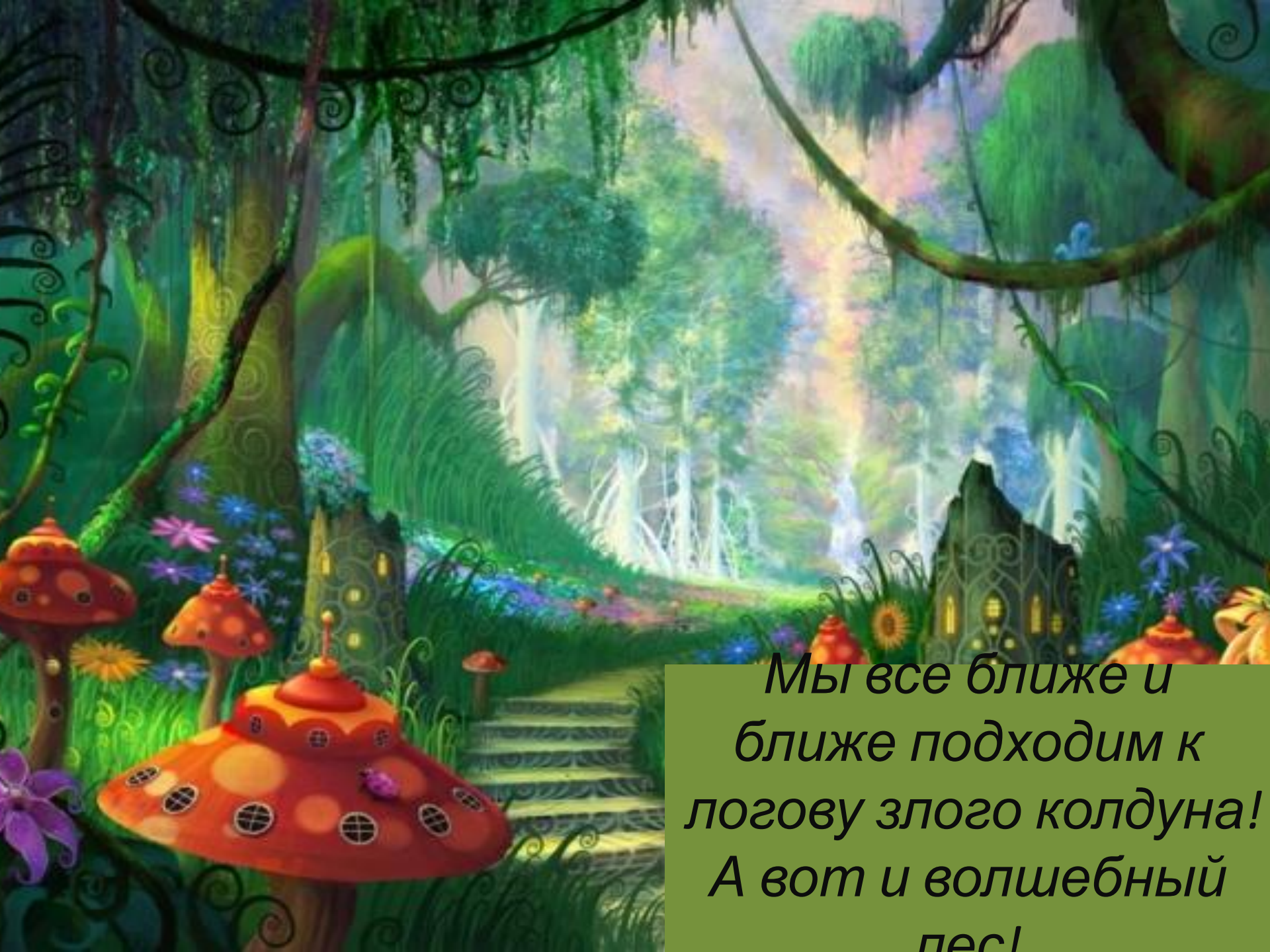
10 9 8 7 6 5 4 3 2 1

1. Нарисуй в тетради столько кружков, сколько нарисовано клубничек.



2. Нарисуй кружков на 4 больше, чем нарисовано грибов.





*Мы все ближе и
ближе подходим к
логову злого колдуна!
А вот и волшебный
лес!*



1 2 3 4 5 6 7 8 9 10




Замок колдуна!




У КАКОЙ ФИГУРЫ БОЛЬШЕ ВСЕГО УГЛОВ?



треугольни
к



квадрат




шестиугольни
к

У КАКОЙ ФИГУРЫ ТРИ СТОРОНЫ И ТРИ УГЛА?



пятиугольни
к




прямоугольник



параллелограм
м

КАКАЯ ФИГУРА ПРЯМОУГОЛЬНИК?



*Золушка и феи благодарят вас за
проделанную работу и дарят вам
сказочные оценки!*



glitter-memories.de.vu