



Веселые задачи Для 1 класса





Шла лисица вдоль тропинки
И несла грибы в корзинке:
Пять опят и пять лисичек
Для лисят и для лисичек.

$$5+5=10$$



Внуку шуре добрый дед

Дал вчера семь штук конфет

Съел одну конфету внук

Сколько же осталось штук?

$$7-1=6$$





БЫЛО В ДЕТСКОМ МАГАЗИНЕ ДЕСЯТЬ КУКОЛ
НА ВИТРИНЕ.

Куколку одну купили папа с
мамою для Лили.

СКОЛЬКО КУКОЛ НА ВИТРИНЕ ОСТАЛОСЬ
В ДЕТСКОМ МАГАЗИНЕ?

$$9-1=8$$





НА ПЛЕТЕНЬ ВЗЛЕТЕЛ ПЕТУХ
ПОВСТРЕЧАЛ ЕЩЁ ТАМ ДВУХ,
СКОЛЬКО СТАЛО ПЕТУХОВ?
У КОГО ОТВЕТ ГОТОВ?

$$1+2=3$$





ТРИ РОМАШКИ-ЖЕЛТОГЛАЗКИ,
ДВА ВЕСЁЛЫХ ВАСИЛЬКА
ПОДАРИЛИ МАМЕ ДЕТИ.
СКОЛЬКО ЖЕ ЦВЕТОВ В БУКЕТЕ

$$3+2=5$$





ЧЕТЫРЕ СПЕЛЫХ ГРУШИ
НА ВЕТОЧКЕ КАЧАЛОСЬ
ДВЕ ГРУШИ СНЯЛ ПАВЛУША
А СКОЛЬКО ГРУШ ОСТАЛОСЬ?

$$4-2=2$$





КУПИЛА ШКОЛА ДЛЯ ДЕТЕЙ
ТРИ БЕЛЫХ, ШЕСТЬ ЦВЕТНЫХ МЯЧЕЙ.
ТАК СКОЛЬКО ЖЕ ВСЕГО МЯЧЕЙ
КУПИЛА ШКОЛА ДЛЯ ДЕТЕЙ?

$$3+6=9$$





ПЯТЬ СИНИЦ НА ВЕТКУ СЕЛИ,
К НИМ ДВЕ ГАЛКИ ПРИЛЕТЕЛИ.
СОСЧИТАЙТЕ БЫСТРО, ДЕТКИ,
СКОЛЬКО ПТИЦ СИДИТ НА ВЕТКЕ

$$5+2=7$$





НА ТАРЕЛОЧКЕ СЕМЬ СЛИВ,
ВИД ИХ ОЧЕНЬ УЖ КРАСИВ.
СЪЕЛ ЧЕТЫРЕ СЛИВЫ ПАВЕЛ.
СКОЛЬКО МАЛЬЧИК СЛИВ ОСТАВИЛ?

$$7-4=3$$





КАРТОШКИ МНОГО НАКОПАЛИ,
ЗДЕСЬ 3 МЕШКА, ТАМ ЦЕЛЫХ 5.
ТАК СКОЛЬКО ЖЕ МЕШКОВ СОБРАЛИ?
КТО МНЕ ПОМОЖЕТ СОСЧИТАТЬ?






$$3+5=8$$






Молодцы!





Какие фигуры ты видишь?



Назовите соседей чисел

...4...	...7...
...3...	...8...
...5...	...9...

Продолжите ряды чисел

2	4	6	8	?
90	80	70	60	?
5	10	15	20	?
20	18	16	14	?

Продолжите ряды чисел


2	4	6	8	10
90	80	70	60	50
5	10	15	20	25
20	18	16	14	12

КТО ЕСТЬ КТО?



Это Нюся, Пушок и Мурзик.
Нюся и Мурзик не полосатые.
Справа от Нюси сидит Пушок.

КТО ЕСТЬ КТО?



Трёх щенков называли Бобик, Шарик и Тузик.
У Бобика длинные уши. У Шарика длинный хвост.
А Тузик сидит в середине.

«Хитрые задачи»

- Что тяжелее: 1 килограмм ваты или 1 килограмм железа?



- Бревно распилили на 3 части. Сколько распилов сделали?



Молодцы!

