

МАТЕМАТИКА

**ОСТРОВ
ФАНТАЗИЙ**

УРОК – ПУТЕШЕСТВИЕ

2 класс



МОРЕ ВОПРОСОВ

Устный счёт

$7+5-8=$

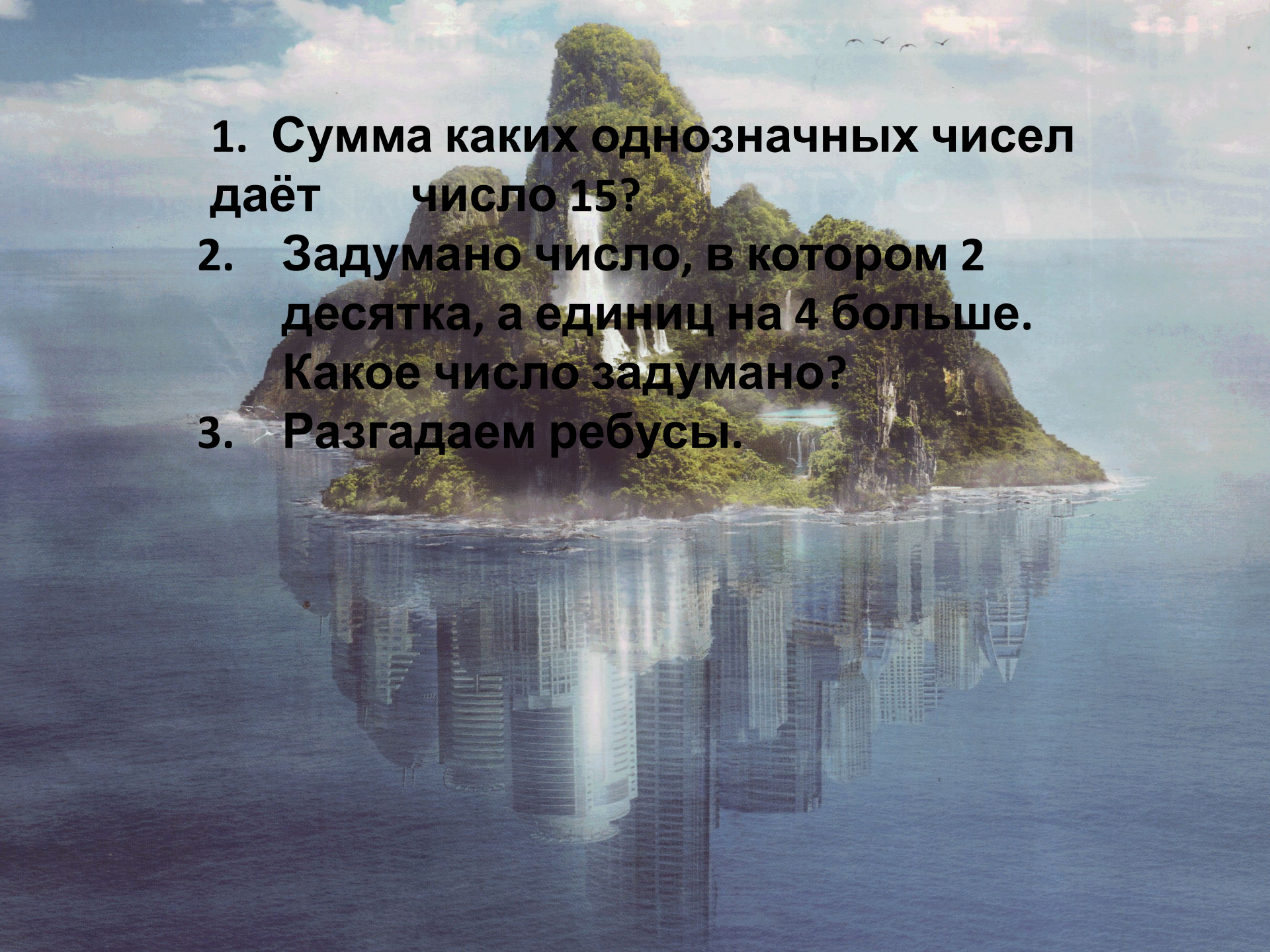
$4+9-6=$

$(6+5)-2=$

$2+10-6=$

$9+2-1=$

$(60-20)+4=$

- 
- A tropical island with a waterfall and a city reflection in the water. The island is lush green with a prominent waterfall cascading down its side. The sky is blue with a few birds flying. The water in the foreground is calm, reflecting the island and the sky. In the background, a city skyline is visible, suggesting a city built on the island or nearby.
1. Сумма каких однозначных чисел даёт число 15?
 2. Задумано число, в котором 2 десятка, а единиц на 4 больше. Какое число задумано?
 3. Разгадаем ребусы.

«Сосчитай треугольники»

**Часто знает и дошкольник
Что такое треугольник
А уж вам-то как не знать!
Но совсем другое дело,
Быстро, точно и умело
Треугольники считать
Например, в фигуре этой!
Сколько разных? Посмотри!
Всё внимательно исследуй
И по краю, и внутри.**

МЫС ПОВТОРЕНИЯ

1. Только ступили на сушу, сразу мимо нас промчались шесть лошадей, на каждой сидит один всадник. Сколько всего всадников?
2. Назовите свойство сложения

$3+5=$

$5+3=$

$8+10=$

$10+8=$


$40+7=$

$7+40=$


БУХТА УЛЫБОК

Весёлые задачи в стихах





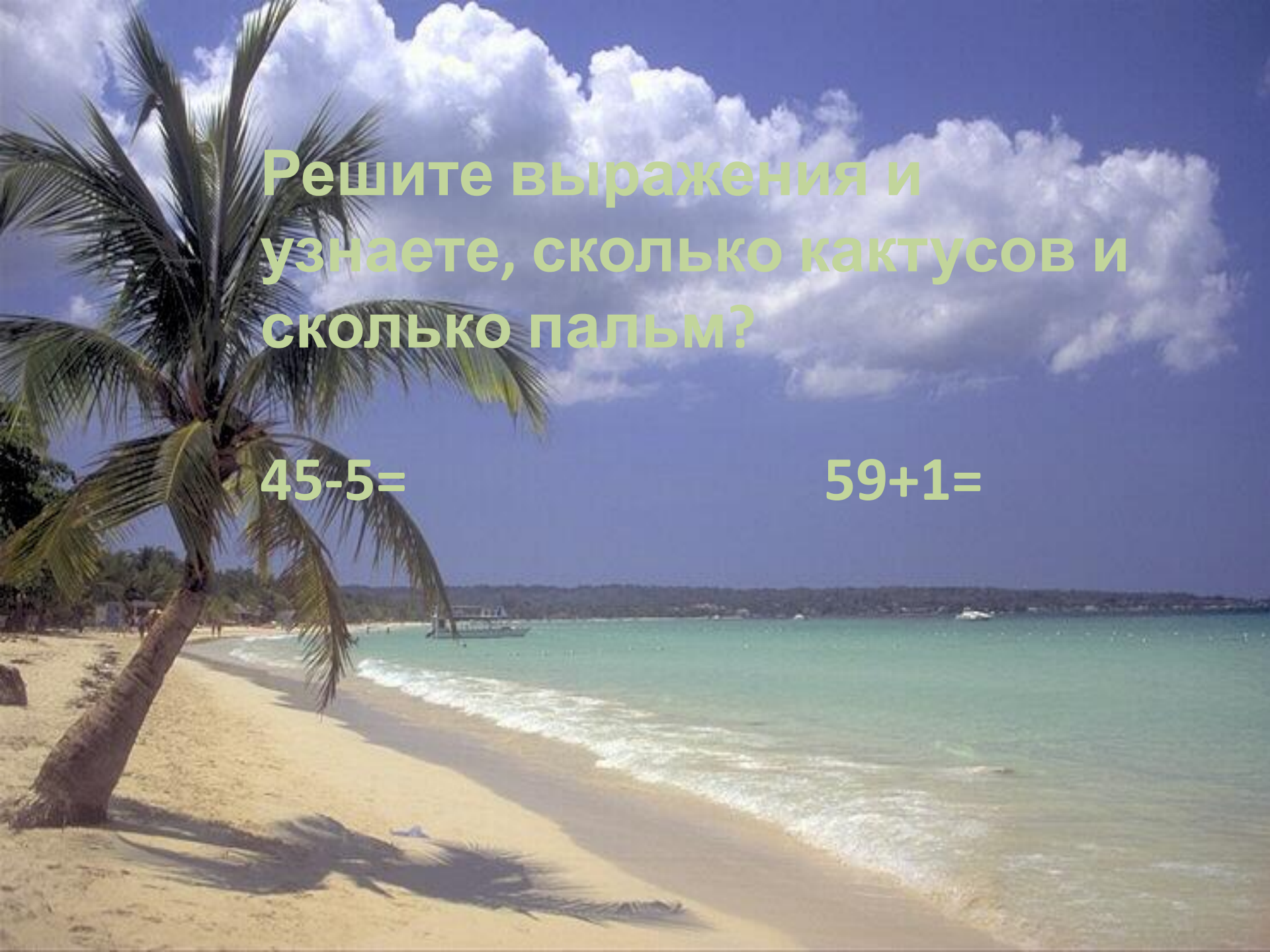
**У курочки – хохлатки
Малые цыплятки:
Жёлтых семь,
А чёрных восемь.
Сколько всех?
У вас мы спросим.**

A group of four golden snub-nosed monkeys with blue faces and orange fur. They are looking in various directions, some towards the camera. The background is dark and out of focus.

Две весёлые мартышки
Покупать ходили книжки
И купили книг по пять,
Чтобы было что читать
Только глупые мартышки
Сосчитать не могут книжки
Ты мартышкам помоги
Сколько книг у них скажи




По тропинке кошка шла,
За собой котят вела:
Белых два и чёрных пять.
Кто успел их сосчитать?




Решите выражения и
узнаете, сколько кактусов и
сколько пальм?

$$45-5=$$

$$59+1=$$



Один кактус такой необычный в виде
ломаной линии из 3-х звеньев.
Если длина каждого звена – 2 см.
Начерти её и узнай длину?



ФИЗКУЛЬТМИНУТК

А


A tropical beach scene with a large, dark rock formation on the right side, covered in lush green vegetation and palm trees. The water is clear and turquoise, revealing a coral reef and sandy bottom. The sky is blue with some clouds.

**БЕРЕГ НЕРЕШЁННЫХ
ЗАДАЧ**

A tropical beach scene at sunset. The sky is a mix of blue and purple, with some clouds. Several palm trees are silhouetted against the sky. The ocean is visible in the background, and a small island or breakwater is in the distance. The overall mood is serene and peaceful.

МЫС ЗАДУМЧИВОСТИ

1,12,7,48,54,63



ФИЗКУЛЬТМИНУТК

А

БУХТА СРАВНЕНИЯ

12мм* 1см

9см* 1дм

55мин* 1час

1 час* 100мин

МЫС ИТОГОВ

