

Что лишнее?

-треугольник

-квадрат

-площадь

-круг

-прямоугольник

Что лишнее?

-треугольник

-квадрат

-круг

-шар

-прямоугольник

Что лишнее?

-треугольник


-квадрат

-коробка

-круг

-прямоугольник

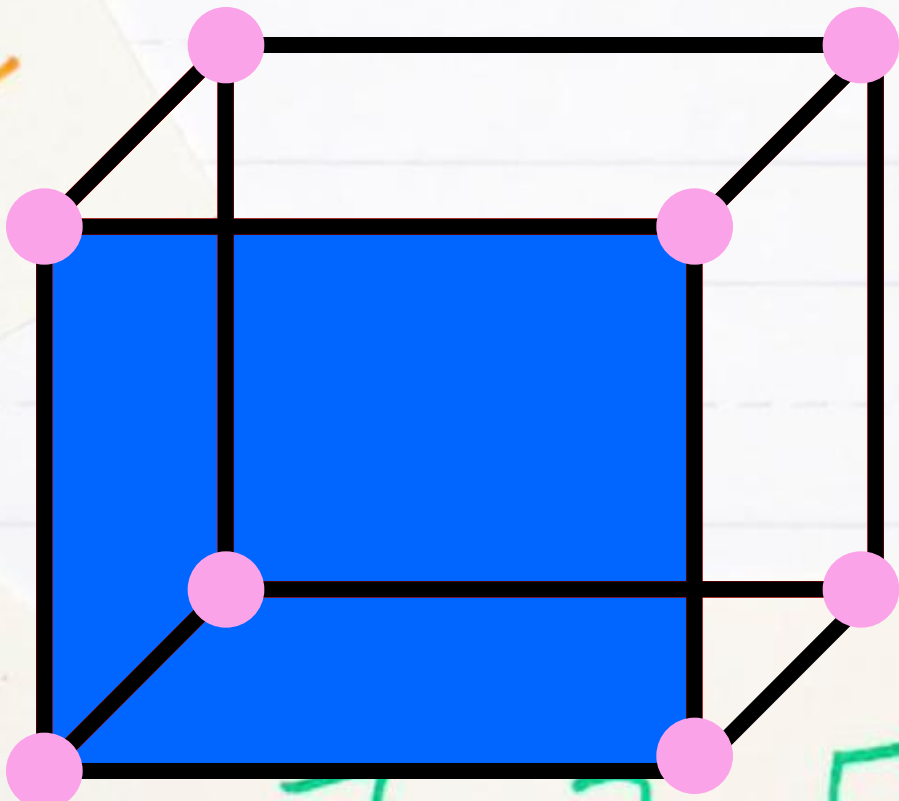
*Поверхность прямоугольного параллелепипеда
состоит из ...*



**Поверхность прямоугольного параллелепипеда
состоит из ... прямоугольников - ...**

Параллелепипед имеет ...вершин

Параллелепипед имеет ...ребра



Вывод:

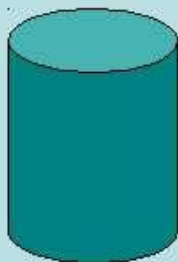
прямоугольный параллелепипед
имеет:

6 граней 12 рёбер 8 вершин


Грани: прямоугольники,
квадраты

Под каким номером нарисован параллелепипед?


1)



2)




3)



4)



5)



6)



7)

