



1 x 1

# ХОККЕЙ



2 x 4

8 x 6

9 x 8




2 x 6

5 x 5

4 x 7

3 x 7







20

14

35



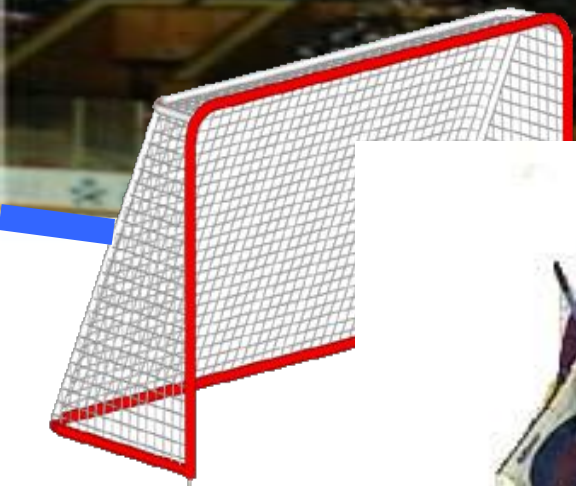




18

20

24





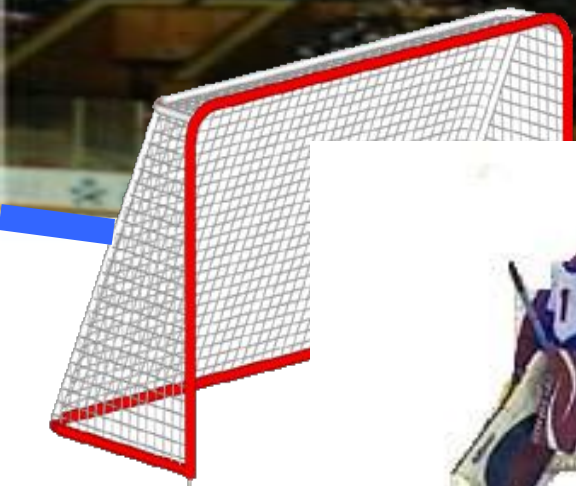



32

27

28






16

19

26



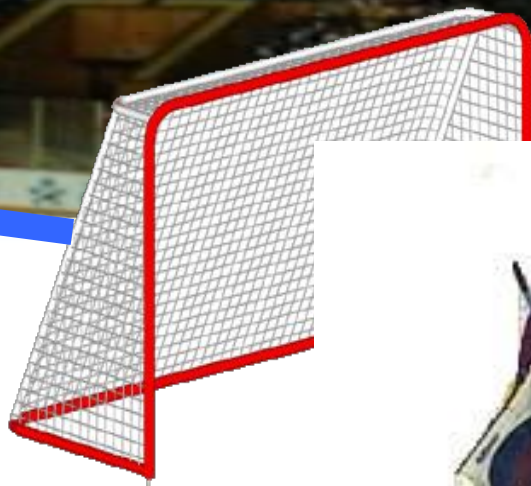



18

12

20





24


14

21






Трус не играет в хоккеей!



МОЛОДЦЫ!





1

$6 \cdot 6 = 36$   
 $6 \cdot 7 = 42$   
 $6 \cdot 8 = 48$   
 $6 \cdot 9 = 54$

$36 : 6 = 6$

$7 \cdot 6 = 42$      $42 : 6 = 7$      $42 : 7 = 6$

$8 \cdot 6 = 48$      $48 : 6 = 8$      $48 : 8 = 6$

$9 \cdot 6 = 54$      $54 : 6 = 9$      $54 : 9 = 6$

4

$1 \cdot 6 = 6$

$20 - 42 \overset{7}{:} 6 = 13$

$48 \overset{8}{:} 6 + 6 \overset{42}{\cdot} 7 = 50$

$6 \cdot 0 = 0$

$45 \overset{5}{:} 9 + 18 = 23$

$5 \cdot 8 - 54 \overset{6}{:} 9 = 34$

$6 : 6 = 1$

$8 \cdot 6 - 15 \overset{48}{=} = 33$

$6 \overset{30}{\cdot} 5 + 3 \overset{9}{\cdot} 3 = 39$

$0 : 6 = 0$

$17 + 54 \overset{9}{:} 6 = 26$

$9 \overset{65}{\cdot} 6 - 36 \overset{6}{:} 6 = 59$



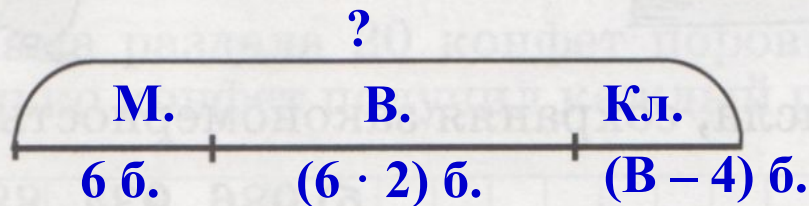
**5** Реши уравнения и сделай проверку:

$$a \cdot 7 = 5$$

$$x \cdot h = 4x$$



**6** На зиму заготовили 6 банок малинового варенья, вишневого — в 2 раза больше, чем малинового, а клубничного — на 4 банки меньше, чем вишневого. Сколько банок малинового, вишневого и клубничного варенья заготовили на зиму?



1)  $6 \cdot 2 = 12$  (б.) – вишневого варенья.

2)  $12 - 4 = 8$  (б.) – клубничного варенья

3)  $6 + 12 + 8 = 26$  (б.)

**Ответ: всего 26 банок варенья.**





7 Составь программу действий и план действий:

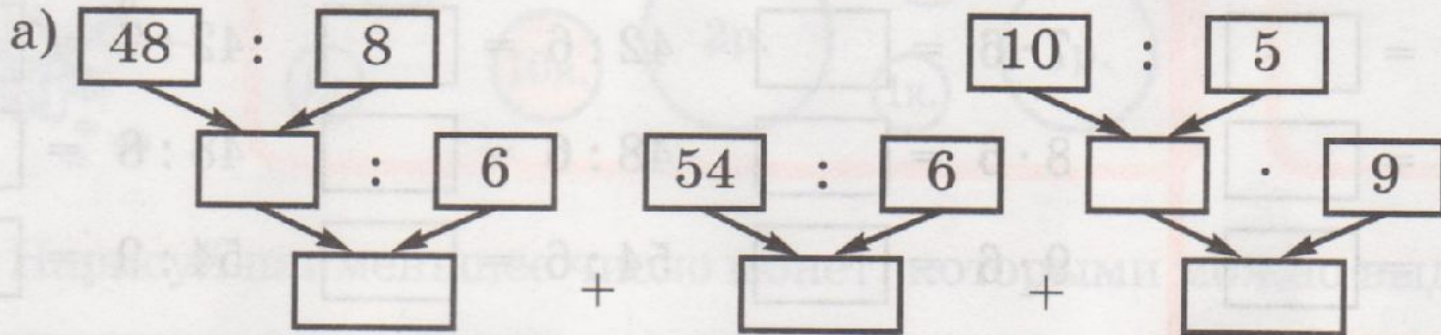
a)  $a \cdot b + c - d \cdot k + m : t$

в)  $a + b : c \cdot d - k : m \cdot t$

б)  $a \cdot b \cdot c - d : k + m \cdot t$

г)  $a \cdot b - c : d \cdot k \cdot m + t$

8 По схеме составь выражение и обозначь в нём порядок действий. Найди значение выражения:



--	--	--	--	--	--	--	--	--	--	--	--	--	--	--	--	--	--	--	--	--	--	--	--	--





9) Чем похожи и чем различаются задачи:

- а) Илья разместил 27 марок на трёх листах альбома поровну. Сколько марок на каждом из этих листов?
- б) Таня подарила подругам 27 марок по три марки каждой. Сколько подруг получили подарки?





с. 31 № 5 (3, 4), с. 32 № 8 (б);  
с. 32 № 10, 11 – по желанию

