



5



7



3



Интерактивный тест по математике

# Подготовка к выпускной проверочной работе. Часть 1

**Фомина Наталья Федоровна**

учитель начальных классов

МАОУ «Гимназия № 184»

г.Нижний Новгород

Старт 

# Найди значение выражения

$$53-26$$

1

28

2

29

3

17

4

27

Вперед 

# Найди значение выражения

$$52-36$$

1

16

2

26

3

17

4

15

Вперед 

# Найди значение выражения

$$66+26$$

1

78

2

82

3

93

4

92

Вперед 

# Сколько рублей заплатили если купили 5 мячей и 2

куклы




100  
рублей



60 рублей

550

450



95 рублей



130  
рублей

400

500

Вперед

# Сколько рублей заплатили если купили 3 ракетки и 6

мячей?




200  
рублей



10 рублей



1000 рублей



500  
рублей

650

660

700

210

Вперед

**Выбери единицу массы,  
пропущенную в записи:**

$$348\text{ц}=34800$$

1

Т

2

ц

3

кг

4

г

Вперед

**Самолет находился в  
пути 3 часа 15 минут.  
Сколько минут длился  
полет?**

**1**

**315**

**2**

**205**

**3**

**195**

**4**

**180**

**Вперед**



**Найди периметр  
прямоугольника, ширина  
которого 10мм, а длина в 4 раза  
больше**

**1**

**16 см**

**2**

**50мм**

**3**

**1дм**

**4**

**40мм**

**Вперед**

Масса арбуза - **7кг** . Найди массу дыни если она легче арбуза в **10 раз**

1

70г

2

1кг

3

700г

4

70кг

Вперед 

Какое число увеличили в 7 раз,  
если получили **630**

1 9

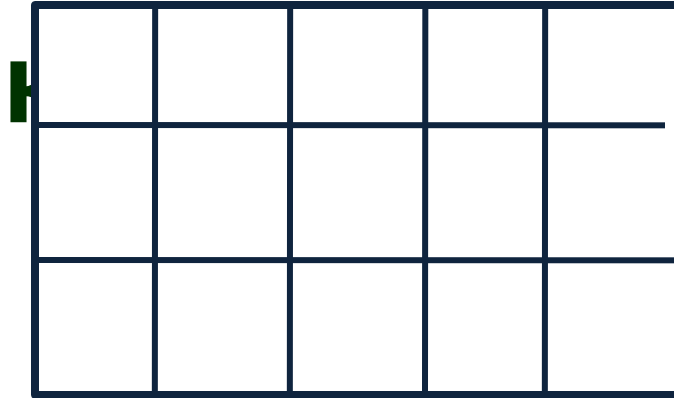
2 623

3 70

4 90

Вперед 

**Найди площадь  
прямоугольника , если сторона**



**1 8 см кв**

**2 15 см**

**3 15 см кв**

**4 16 см**

**Вперед**