



«Умники и умницы»



«Умники и умницы»

*Прозвенел звонок для нас
Пригласил ребят он в класс.
На кружок торопит нас
«Умники и умницы» сейчас.*




Логически-поисковые задания

7. Отгадай, в каких именах спрятались ноты.

□ ля, □ □ ля, ФА □ □ □, □ □ □ РЕ □, МИ □ □,

□ □ □ МИ □ □, □ □ СИ □ □ □, □ □ □ СИ □,

□ □ ДО □, □ □ ДО □ □



Учись решать, стараясь рассуждать

**Толя ехал в школу на велосипеде.
Занятия в школе начинаются в 9 часов.
В 8 часов 40 мин он уже проехал
половину пути. Если Толя будет
продолжать ехать с такой же
скоростью, то приедет в школу за 10
мин до начала занятий. Сколько минут
Толя ехал в школу?**

**Учись решать, стараясь
рассуждать**



Учись решать, стараясь рассуждать

В три палатки завезли разное количество мороженого. Причём в третью завезли столько, сколько в первые две вместе. А в первую завезли больше, чем во вторую. Сколько коробок мороженого привезли в каждую палатку, если всего привезли 10 коробок?



Учись решать, стараясь рассуждать

Если в третьей палатке половина того, что в первой и второй вместе, значит:

$10:2=5$ (к.) - в третьей палатке.



В 1 и 2 палатках осталось 5 мороженых.

$5=2+3$ или $5=3+2$


Т.к. в первой коробке больше мороженого, то выбираем большее из чисел 2 и 3. Значит в первой палатке 3 коробки, во второй-2 коробки.

Учись решать, стараясь рассуждать



Учись решать, стараясь рассуждать

**Пакет пряников и связка баранок
вместе весят 9 кг, а два пакета
пряников и связка баранок вместе
весят 13 кг. Сколько весит один пакет
пряников и сколько весит одна связка
баранок?**



Учись решать, стараясь рассуждать



9 кг



13 кг

$13 - 9 = 4$ (кг) – весит 1 пакет пряников

$9 - 4 = 5$ (кг) – весит связка баранок



М

О

Л

О

Д

Ц

Ы

!