

# Презентация к уроку : «Определение времени по часам»

ВЫПОЛНИЛА: СОРОКИНА О. О.

Реши примеры, ответы расположи в порядке возрастания

(а)  $14-9=$

(ч)  $22-19=$

(с)  $33-12=$

(н)  $8+4=$

(т)  $8+8=$

(м)  $16-10=$

(у)  $10+4=$

(а)  $9+9=$

(и)  $28-20=$

# Виды часов



# Солнечные часы



**Секунда, минута,  
час, сутки,  
неделя, месяц, год -  
это меры времени**



**циферблат**

**деления**

**цифры  
минут**

**цифры  
часов**









**часовая  
стрелка**

**минутная  
стрелка**



**1 час = 60 минут**

Нарисуй на циферблатах часов стрелки, которые показывают время. Запиши время в пустые прямоугольники.

 <p>В это время я встаю.</p> <input type="text"/>	 <p>В это время я завтракаю.</p> <input type="text"/>
 <p>В это время начинаются уроки.</p> <input type="text"/>	 <p>В это время заканчиваются уроки.</p> <input type="text"/>
 <p>В это время я обедаю.</p> <input type="text"/>	 <p>В это время я готовлю уроки.</p> <input type="text"/>
 <p>В это время я смотрю телепередачу.</p> <input type="text"/>	 <p>В это время я ложусь спать.</p> <input type="text"/>

Тоня и Лёля любят собирать ягоды. Они договорились пойти за ягодами в 9 ч 30 мин, а вернуться обратно без 15 минут 12.



Поставь с помощью стрелок на первом циферблате время отправления Тони и Лёли за ягодами, а на втором циферблате время их возвращения.





**СПАСИБО ЗА  
УРОК**