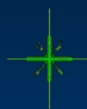




«Величины.  
Единица длины –  
километр».

*Урок – путешествие  
в 4 классе*

*Учитель начальных классов МБОУ СОШ № 8  
Муску Яна Михайловна*





**\*7**

**+19**

**:5**

**8**

**56**

**75**

**15**

**:4**

**\*4**

**32**

**60**

**:2**

**:15**

**64**

**4**



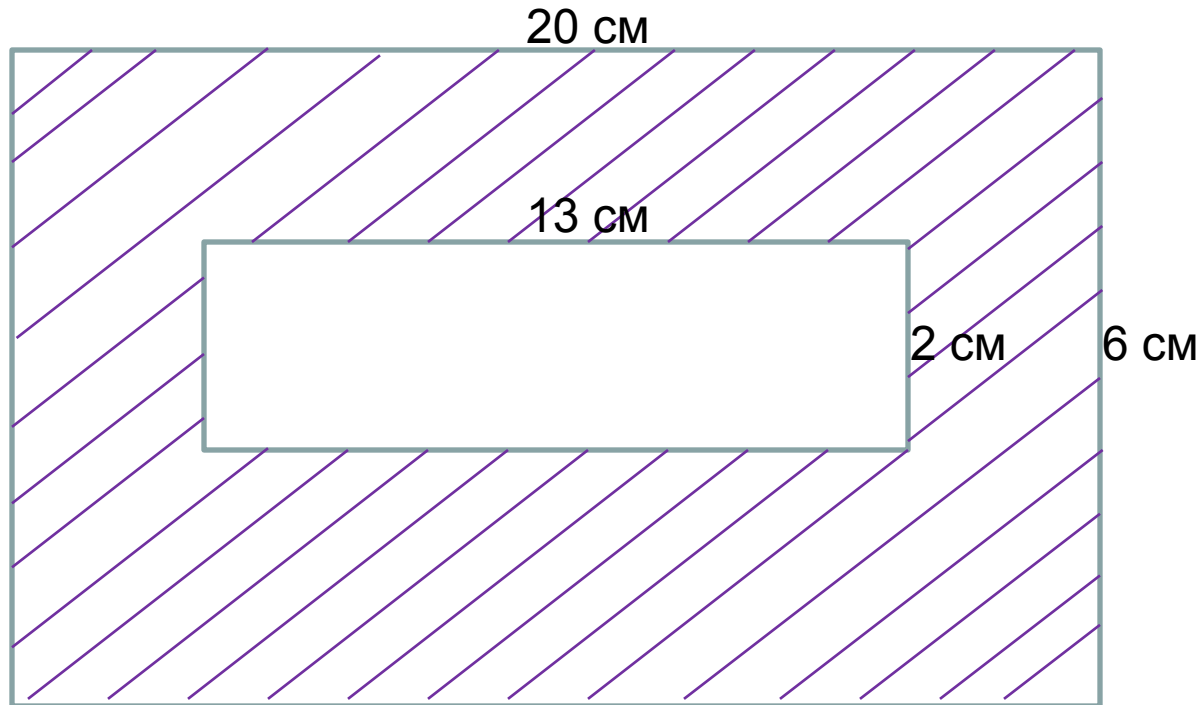






- 1)  $20 \cdot 6 = 120$  (см<sup>2</sup>) – площадь большого прямоугольника;
- 2)  $13 \cdot 2 = 26$  (см<sup>2</sup>) – площадь маленького прямоугольника;
- 3)  $120 - 26 = 94$  (см<sup>2</sup>)

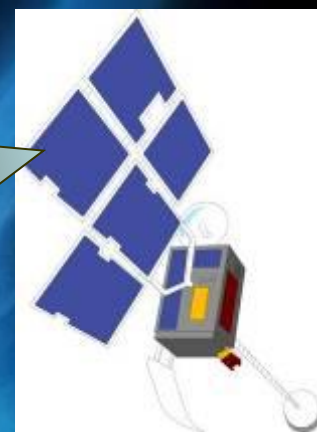
Ответ: 94 см<sup>2</sup> – площадь, занятая пришельцами.







МЕТЕОРИТНЫЙ  
ДОЖДЬ







364 120

56 065

777

2 347

200





В записи 4444 поставьте между некоторыми цифрами арифметические знаки так, чтобы получилось выражение, значение которого равно:

1 ряд: 16

$$4+4+4+4=16$$

2 ряд: 88

$$44+44=88$$

3 ряд: 448

$$444+4=448$$





# Единицы длины



350 дм

3500 см

60 м

720 кг


240 см

720 мм

600 дм

2400 мм

72 см



The background is a dark blue gradient with numerous yellow stars of varying sizes and a blue and white comet streak in the upper left corner.
$$72 \text{ см} = 720 \text{ мм}$$

$$600 \text{ дм} = 60 \text{ м}$$


$$240 \text{ см} = 2400 \text{ мм}$$

$$350 \text{ дм} = 3500 \text{ см}$$









# Единица длины- километр

км

Кило + метр

«тысяча»

$$1 \text{ км} = 1000 \text{ м}$$



# Определи

1) Сколько метров содержат:

$$3 \text{ км} = 3000 \text{ м}$$

$$7 \text{ км} = 7000 \text{ м}$$

$$9 \text{ км} = 9000 \text{ м}$$

2) Преврати метры в километры:

$$2000 \text{ м} = 2 \text{ км}$$

$$4000 \text{ м} = 4 \text{ км}$$

$$8000 \text{ м} = 8 \text{ км}$$









От двух остановок, расстояние между которыми 2 км 100 м отошли два марсохода.

Один из них прошёл 140 м, а другой – 160 м.

Каким стало расстояние между ними?

1)  $140 + 160 = 300$  (м) – прошли два марсохода;

2 км 100 м = 2100 м

2)  $2100 - 300 = 1800$  (м) – расстояние между ними.

1800 м = 1 км 800 м

Ответ: 1800 м.



1)  $140 + 160 = 300$  (м) – прошли два марсохода ;

2 км 100 м = 2100 м

2)  $2100 + 300 = 2400$  (м) – расстояние между ними.

2400 м = 2 км 400 м

Ответ: 2400 м.
















**Бережит  
е  
зрение!**



SOS



$$x+34 = 18*5$$

$$X+34=90$$

$$X=90-34$$

$$\underline{X=56}$$

$$56+34=18*5$$

$$90=90$$

$$239-y = 183$$

$$y=239-183$$

$$\underline{y=56}$$

$$239-56=183$$

$$183=183$$

По приблизительным данным учёных  
расстояние от Земли до Марса  
составляет около 70 млн.км




$$5000 \text{ m} = \dots \text{ km}$$

$$24000 \text{ m} = \dots \text{ km}$$

$$48 \text{ km} = \dots \text{ m}$$

$$305 \text{ km} = \dots \text{ m}$$


$$3125 \text{ m} = \dots \text{ km} \dots \text{ m}$$

$$2 \text{ km } 537 \text{ m} = \dots \text{ m}$$

$$2455 \text{ km} = \dots \text{ km} \dots \text{ m}$$

$$7407 \text{ m} = \dots \text{ km} \dots \text{ m}$$





# Домашнее задание

Учебник стр. 38 № 170;

№ 171





# Рефлексия

Оцените свою работу во время путешествия.



- довольны своей работой, потому что почти не ошибались;



- иногда было трудно, допускали неточности;



- испытывали трудности, надо ещё немного постараться, и будет успех!

