


МАТЕМАТИКА

$8 - \square$

$9 - \square$



Вот подали нам звонок

Начинается урок

Мудрый Знайка снова с нами.


Он фонарик зажѐг нам опять

Из чисел «восемь» и «девять»

Учиться будем вычитать!

8

-



9

-



Уменьшить на 4

6 8 5 7 10 9 4

2 4 1 3 6 5 0

МОЛОДЦ

Ы!

Увеличить на 2


7 8 5 6 0 3 1

9 10 7 8 2 5 3

ОТЛИЧНО!

и

**Сколько
треугольников?**



8



8

2

6

5

3

4

4



1. УМЕНЬШИТЬ НА...

2. МИНУС

3. ВЫЧЕСТЬ

4. УМЕНЬШАЕМОЕ,
ВЫЧИТАЕМОЕ,
РАЗНОСТЬ

РЕШИ ЗАДАЧУ!



- КУПИЛ – 7 ТЕТРАДЕЙ
- БЫЛО – 3 ТЕТРАДИ
- СТАЛО - ? ТЕТРАДЕЙ



- БЫЛО – 6 МАТРЁШЕК
- ПОДАРИЛА – 2 МАТРЁШКИ
- ОСТАЛОСЬ - ? МАТРЁШЕК