



Виртуальная экскурсия





Карточка работника банка

Фамилия имя						
Иванова Мария	5					



Банк «banco» - скамья, лавка,

СТОЛ

Менялы - люди, которые занимались обменом монет одного государства на монеты другого государства в Древнем мире и в Средние века.



Банк - это финансовая организация, которая производит самые различные операции с деньгами или ценными бумагами, драгоценными металлами



Профессиональные качества банковского служащего

Высокая степень подготовки по математической дисциплине

Хорошая память

Аккуратность

Мышление

Внимание

Самообладание

Усидчивость

Вежливость

Требовательность, как к себе, так и к окружающим

Честность **Дисциплинированность**


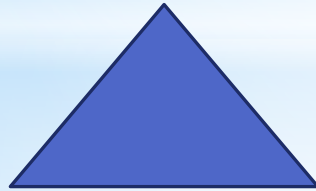

Умение работать в команде

Иметь навыки работы за компьютером





2) Если у стола отрезать
1 угол, сколько станет
углов?




ФИЗМИНУТКА



№ 1

Работа с индивидуальными картами



1. Вставь пропущенные числа

$7 \cdot 2 = 14$

$8 \cdot 3 = 24$

$9 \cdot 3 = 27$

$9 \cdot 4 = 36$

$5 \cdot 5 = 25$

$6 \cdot 7 = 42$

$4 \cdot 8 = 32$

$8 \cdot 6 = 48$

$72 : 8 = 9$

$56 : 7 = 8$

$18 : 9 = 2$

$8 : 2 = 4$

$21 : 3 = 7$

$36 : 4 = 9$

$64 : 8 = 8$

$18 : 6 = 3$

4. Найди ошибки, исправь их:

$(5 \cdot 2) + 48 = \overset{58}{\cancel{59}}$

$(8 \cdot 3) : 4 = \overset{6}{\cancel{7}}$

$(54 : 6) - 9 = \overset{0}{\cancel{1}}$

$(56 : 7) \cdot 4 = \overset{32}{\cancel{36}}$

2. Реши задачу:

От листа бумаги площадью 90 см^2 отрезали часть, площадь которой 18 см^2 .
Какова площадь оставшейся части листа?

$90 - 18 = 72 (\text{см}^2)$

Ответ: 72 квадратных сантиметра - площадь оставшейся части листа.

3. Реши задачу:

Коробка цветных карандашей стоит 9 рублей. Сколько таких коробок можно купить на 45 рублей?

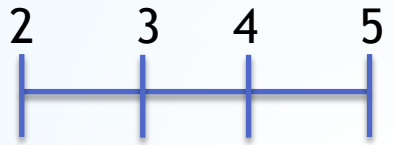
$45 : 9 = 5 (\text{к.})$

Ответ: 5 коробок можно купить на 45 рублей.



Работа с клиентами

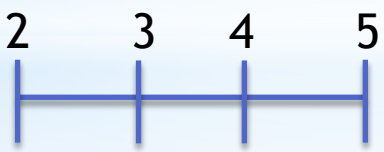
Вежливость



Чёткая речь



Внимание к клиенту





ВЫБЕРИ ВЕРНОЕ РЕШЕНИЕ

Чтобы купить корову кот Матроскин и пёс Шарик взяли кредит в банке, который выплатили через 4 года, а потом взяли еще один кредит, который придётся выплачивать в 3 раза дольше. Сколько всего лет придётся платить кредиты Матроскину и Шарику?

1


- 1) $4 + 3 = 7$ (л.)
- 2) $4 + 7 = 11$ (л.)

2

- 1) $4 \cdot 3 = 12$ (л.)
- 2) $12 + 4 = 16$ (л.)


3

- 1) $4 - 3 = 1$ (г.)
- 2) $4 + 1 = 5$ (л.)





Молодцы!



Увы, подумай ещё раз!

Профессиональные качества банковского служащего

Высокая степень подготовки по математической дисциплине

Хорошая память

Аккуратность

Мышление

Внимание

Самообладание

Усидчивость

Вежливость

Требовательность, как к себе, так и к окружающим

Честность **Дисциплинированность**

Умение работать в команде

Иметь навыки работы за компьютером



**ЧТОБЫ ОБЛАДАТЬ ВСЕМИ КАЧЕСТВАМИ
БАНКОВСКОГО СЛУЖАЩЕГО НАДО.....**





Спасибо за урок!

Использованные источники

Картина «Меняла» - <http://lj.rossia.org/users/marinni448592.htm>,
человечки - http://zastavka.at.ua/photo/3d/na_skejte,
3D-человечки - http://komp-r.ucoz.ru/photo/3d_chelovechki/15-3-0-0-8,
<http://ledcentral.ru/page/instruktsiya-o-oplate-bankovskim-platezhom2>

Фото банка, банковских служащих -
<http://kakie-nugno-dokumenty-dlya-540.spisok-bankov-09.appspot.com/p/denegday.ru/review/bankovskaya-teoriya>,

<http://blogs.complexdoc.ru>,
<http://www.janetproctorhomes.com/PageManager/Default.aspx/PageID=2026654>,
<http://is.park.ru/doc.jsp?urn=61664853>,
http://bank.infomsk.ru/articles/2012-11-23/rabota_v_banke_chno_nado_uchest/,
<http://www.apiural.ru/news/?tag=19780> ,
<http://www.pressfoto.ru/image-2909738> ,
<http://lenta.ru/news/2009/06/07/cbr>,
<http://sfw.so/1149024863-raiffeisen-gammesfeld-eg-samy-malenkiy-bank.html>,
<http://gazeta-koreshok.ru/today/1679>,
<http://blog.delpodarki.ru/?p=391>
http://procriecia.moy.su/news/kak_poluchit_kredit/2013-03-21-122