

4 декабря.
Классная работа.



Каллиграфическая минутка.

- 45 45 45 45 45
- 56 56 56 56 56




Устный счет.

- $13 * 5 = 18$
- $11 * 9 = 2$
- $13 * 5 = 8$
- $11 * 9 = 20$
- $16 * 4 = 12$
- $14 * 4 = 10$



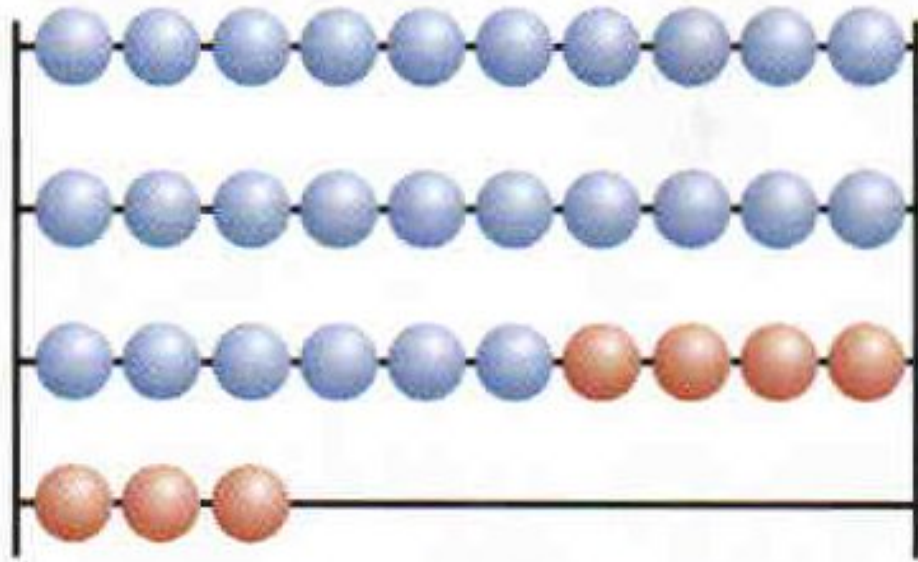
Работа по учебнику.



стр.
66

Дополни до 20 числа: 17, 19, 18, 16, 15.
Дополни до 50 числа: 44, 48, 49, 46, 45.





$$26 + 7 = \square$$



$$(26 + 4) + 3 = 33$$



1. Вычисли устно с объяснением.

$$38 + 5$$

$$38 + 2 + \square$$

$$64 + 9$$


$$64 + \square + \square$$



3. В баке машины было 40 л бензина. На поездку за город пошло 15 л, а на поездку в театр — 5 л.

Объясни, что обозначают выражения:

$15 + 5$; $40 - 15$; $40 - (15 + 5)$.



- Б. – 40 л.
- За гор. – 15 л.
- Театр – 5 л.
- ОС. - ? Л.





5. Запиши выражения и вычисли их значения.

1) Из числа 80 вычесть сумму чисел 9 и 7.

2) К числу 56 прибавить разность чисел 27 и 7.



7. Из трёх отрезков выбери тот, длина которого равна периметру треугольника.



В баке машины было 20 л бензина. Сколько литров бензина добавили в бак, если после заправки в нём стало 35 л?



Оцените свою работу!



Получилось и понятно всё, работа без ошибок!



Получилось и понятно всё, были некоторые ошибки.



Затрудняюсь, были ошибки, постараюсь ещё.

Домашнее задание.

- С. 66 № 2, 4

