

Число 10. Состав числа 10.


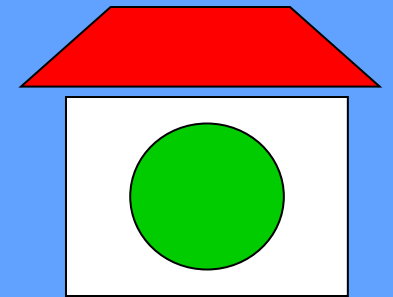
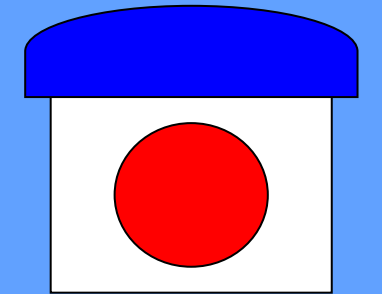



ГНОМЫ



Здравствуйте, ребята! Меня зовут Смелчак. Я приглашаю вас в гости к моим друзьям-гномам. Мы очень любим математику и приготовили вам много интересных заданий.





У крышки стола 4 угла.
Сколько острых углов,
если 1 угол отпилить?

5 УГЛОВ



Куда войдет больше воды:
в трехлитровый чайник
или трехлитровый
самовар?



Сколько зайцев в корзине?



3





$$4 + 2$$



1

2

3

4

5

6

7

8

9

10



$$7 - 3$$



1

2

3

4

5

6

7

8

9

10



$$6 + 2$$



1

2

3

4

5

6

7

8

9

10



$$5 - 3$$



1

2

3

4

5

6

7

8

9

10

9 + 1
МОЛОДЦЫ!



1

2

3

4

5

6


7

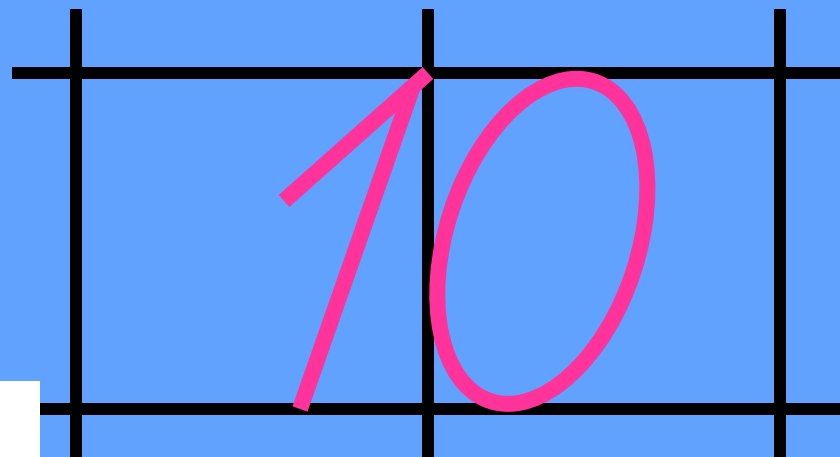
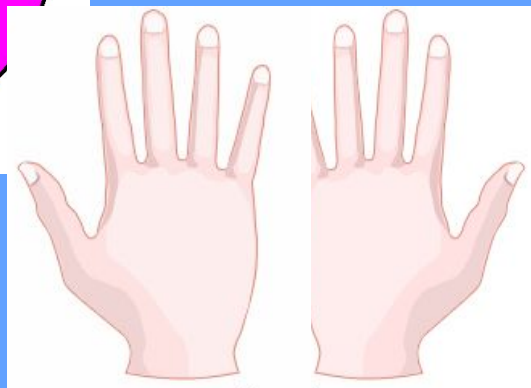
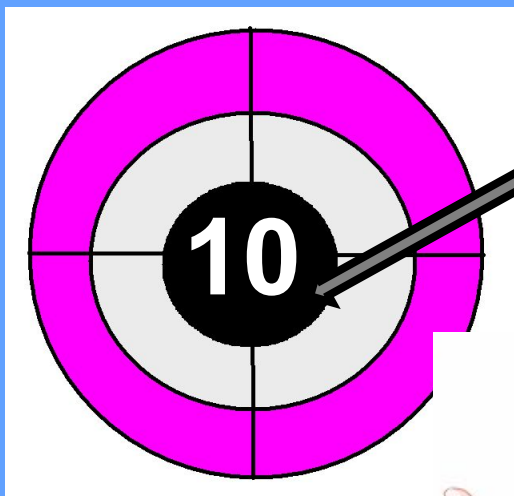
8

9

10

Сколько понадобилось гному кубиков для башни?



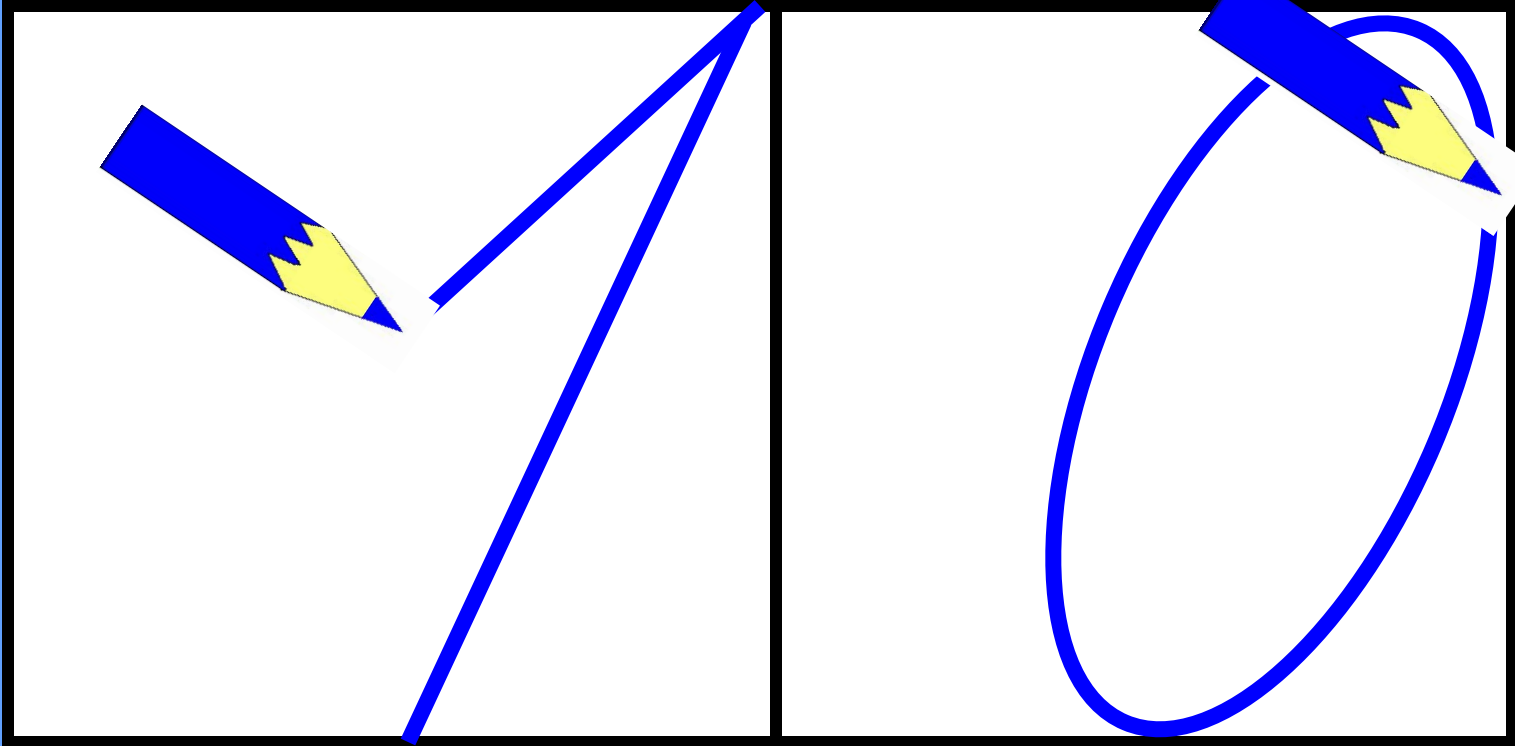


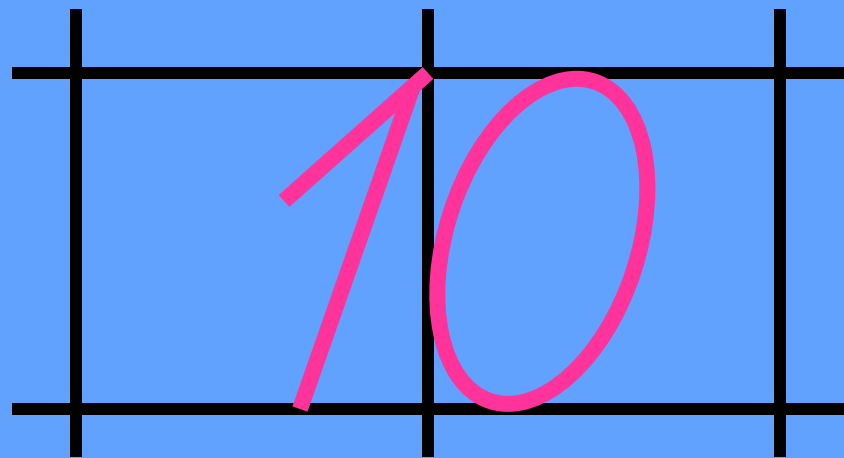
За девятью идет **ДЕСЯТКА**.

Ты это знаешь? Молодец!

Сочти все пальцы по порядку –

И счету нашему конец.





$$9 + 1 = 10$$

1

$3 + 7$

a)

$2 + 8$

б)


$5 + 5$

в)

Проверь
себя!



3



| | | | | | | | | | |
|----|---|---|---|---|---|---|---|---|---|
| 10 | 1 | 2 | 3 | 4 | 5 | 6 | 7 | 8 | 9 |
| | 9 | 8 | 7 | 6 | 5 | 4 | 3 | 2 | 1 |

| |
|--------------|
| $4 + 6 = 10$ |
| $6 + 4 = 10$ |
| $10 - 4 = 6$ |
| $10 - 6 = 4$ |

Проверь
себя!



Друзья! Меня зовут Хитрун. Я очень люблю математику, но особенно мне нравится решать задачи.




$$5 + 5 = 10$$

Раз к зайчонку на обед
Прискакал дружок-сосед.
На пенёк зайчата сели
И по **ПЯТЬ** морковок съели.
Кто считать, ребята, ловок?
Сколько съедено морковок?



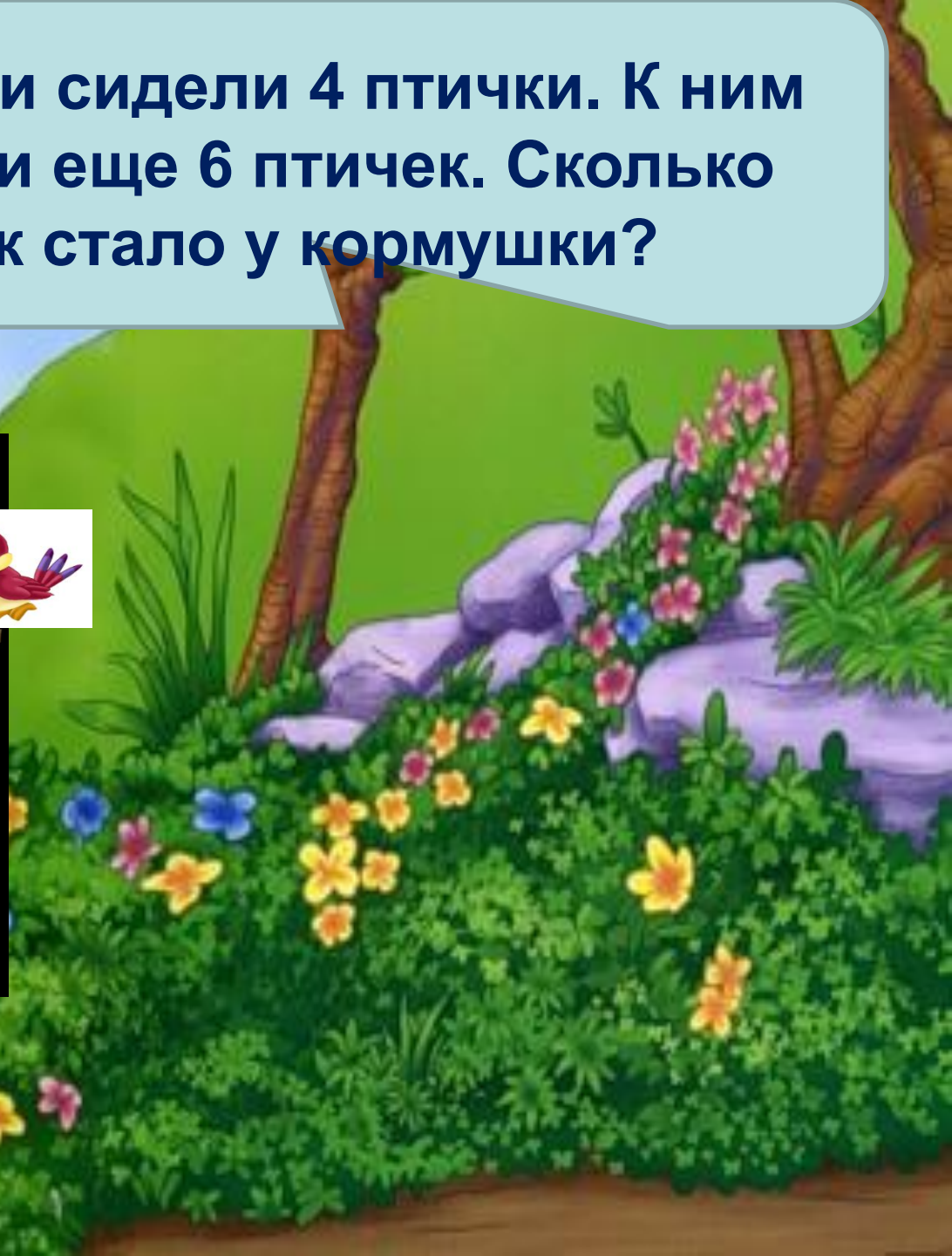

Белка на ёлке грибочки сушила,
Песенку пела и говорила:
«Мне зимой не знать хлопот,
Потому что есть грибок:

ДВА маслѐнка, ДВА опѐнка,
А лисичек ровно ШЕСТЬ.
Ты попробуй все их счесть!»



$$2 + 2 + 6 = 10$$

У кормушки сидели 4 птички. К ним прилетели еще 6 птичек. Сколько птичек стало у кормушки?



? п.

сидели

прилетели

4 п.

6 п.

Я – гном Молчун. Я люблю приходить на луг и наблюдать за бабочками. Ведь они такие красивые! Вместе с бабочками мы предлагаем вам выбрать задание, которое вы, по-вашему мнению, сможете выполнить.





Придумай и
запиши 4
примера с
числом 10

Сравни
выражения



Заполни
пропуски





$$10+0 = 10-0$$

$$10-5 < 10-2$$

$$3+7 = 2+8$$


$$1+9 > 5-5$$


$$10 - 6 = 4$$

$$7 + 3 = 10$$

$$5 + 5 = 10$$

$$10 - 8 = 2$$





Спасибо за урок!

