

МАТЕМАТИКА

«2»

«1»

«5»

«4»

«3»

Үй жұмысын тексеру

Барлығы дұрыс – “5”

1-2 қатемен – “4”

3-4 қатемен – “3”



1- жёлтый
2- красный
3- оранжевый
4- голубой

5- салатный
6- темно-коричневый

Ауызша есептеу

$$10 - 2 = 8$$

$$6 + 3 = 9$$

Қосу амалымен

Шаршы

$$7 - 1 < 7 + 1$$


Әріпті өрнектің мәнін табу

~~лр~~



„Ті

~~МН~~



$y - 2 =$



Латын әріптері

a b c

d x y

“Үлдірленген қағаздар”

Әріпті өрнектердің мәнін
тап, мұндағы $b = 3; 4; 1$.

$$b + 1$$

$$b + 1 + 3$$

$$b + b$$

$$5 - b$$

Тұжырымдам

а:

Кесте бойынша оқы және олардың мәнін тап

c	7	5	4	6	1	2	0
$c + 3$							

a	7	3	2	8	4	5	0
$10 - a$							

“Сұрыптау”



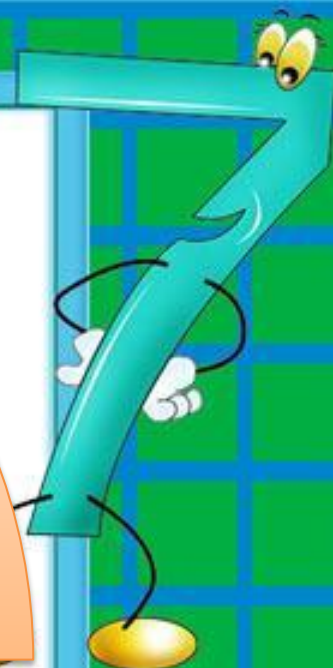
Қосындыны
табуға
арналған
есептер

Қалдықты
табуға
арналған
есептер

№1

Санды
арттыруға
арналған
есептер

Санды
кемітуге
арналған
есептер



Сергіту сәті



“Серуендейтін сандар”



Өздік жұмыс

Дәптермен жұмыс №4, №5

Дәптермен жұмыс

№4 шешуі : $4 + 6 = 10$

Жауабы: Барлығы 10 балық ұстады.

№5

$5+3=8$

$8-5=3$

$4+3=7$

$9-5=4$

$10-3=7$

$5+4=9$

$10-5=5$


$4+6=10$



**Бағалау
парақшасын
талдау**

«Ойлау сендвичі»

4-топ - өмірде
қай жерде
қолдануға
болады?



3 топ – нені
меңгере
алмадыңыз?

2 топ – өткен
сабақпен
байланысы
бар ма?

1 топ – бүгін нені
жақсы түсіндіңіз?

Үй жұмысы

Үйренген латын әріптерін қолданып
6 әріпті өрнек құрастыру.



Сенің көңіл күйің қандай?

