

*25 ноября.*

*Классная работа.*

*824*

$$*824 = 800 + 20 + 4*$$

$$*507 = 500 + 7*$$

# Посчитаем устно:



# Найди значения выражений:

$$7 \cdot 7 = \begin{array}{|c|} \hline 4 \\ \hline 9 \\ \hline \end{array}$$

$$4 \cdot 0 = \begin{array}{|c|} \hline 0 \\ \hline \end{array}$$

$$5 \cdot 6 = \begin{array}{|c|} \hline 30 \\ \hline \end{array}$$

$$8 \cdot 4 = \begin{array}{|c|} \hline 32 \\ \hline \end{array}$$

$$0 \cdot 83 = \begin{array}{|c|} \hline 0 \\ \hline \end{array}$$

$$3 \cdot 8 = \begin{array}{|c|} \hline 2 \\ \hline 4 \\ \hline \end{array}$$

$$2 \cdot 3 = \begin{array}{|c|} \hline 6 \\ \hline \end{array}$$

$$9 \cdot 6 = \begin{array}{|c|} \hline 5 \\ \hline 4 \\ \hline \end{array}$$

$$0 : 56 = \begin{array}{|c|} \hline 0 \\ \hline \end{array}$$

$$72 : 1 = \begin{array}{|c|} \hline 7 \\ \hline 2 \\ \hline \end{array}$$


$$5 \cdot 1 = \begin{array}{|c|} \hline 5 \\ \hline \end{array}$$

$$6 : 0 =$$




Аслан проплыл 32 метра, а Данил в 4 раза меньше. Сколько метров проплыл Данил?

32 м



? в 4 раза меньше



Решение:  $32 : 4 = 8$  (м)

Ответ: 8 метров проплыл Данил.

*Найдите лишнее число:*

1) 657    984    34    608

2) 507    702    304    677


3) 890    478    780    620

*Найдите лишнюю единицу измерения:*

1) см    мм    дм    час

2) мм<sup>2</sup>    кг    см<sup>2</sup>    дм<sup>2</sup>

*Какими единицами пользуются  
для измерения площади ?*



Тема:

# Единицы площади

$\text{мм}^2$


$\text{см}^2$

$\text{дм}^2$

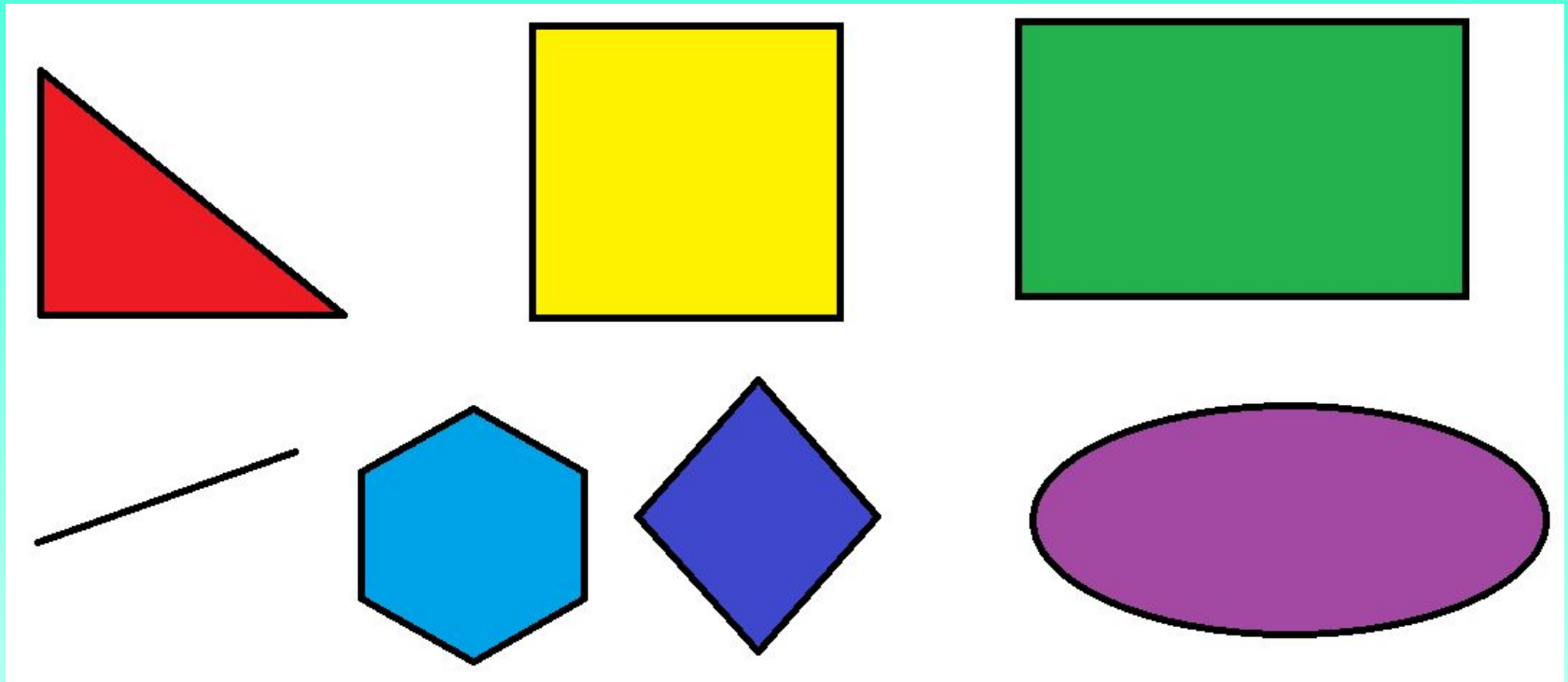
$\text{м}^2$

$$1 \text{ дм}^2 = 100 \text{ см}^2$$


$$1 \text{ м}^2 = 100 \text{ дм}^2$$



*Что необходимо знать для вычисления площади?  
По какой формуле вычисляем площадь?  
Назовите геометрические фигуры:*







*На что похожи фигуры?*

*Какова площадь большой фигуры?*


*Какова площадь маленькой фигуры?*

*Какой единицей измерения площади вы пользовались?*

Учебник стр. 103 № 5

1 вариант

2 вариант



а)

б)


$$S_1 = 60 \text{ дм}^2$$

$$S_2 = 62 \text{ дм}^2$$

$$S_1 < S_2$$

***Работа в парах:***

***Какой формулой мы пользуемся, если вычисляем площадь с помощью палетки?***



$$S = a + b : 2 \approx$$

$$S_1 = 8 + (18 : 2) \approx 17\text{cm}^2$$



$$S_2 = 9 + (10 : 2) \approx 14\text{cm}^2$$

$$S_1 > S_2$$



*Скруджу Макдаку необходимо посчитать площадь его денежного хранилища. Помогите Скруджу решить задачу: Длина хранилища 3 метра, а ширина в 2 раза больше. Какова площадь денежного хранилища?*



*Вычисли, записывая выражения столбиком  
и расшифруй слово:*

$454 + 299$

$459 + 391$

$258 + 499$

$1000 - 69$

$1000 - 59$

$1000 - 49$

*Расставьте числа в порядке возрастания  
и прочитайте слово:*

753	931	850	941	757	951	1000
П	Щ	О	А	Л	Д	Ь

*Д / 3*

**Стр. 104 №8**

**Стр. 105 №3(а)**

# Молодцы!

