

2

$$\bullet - \bullet - \bullet = ?$$



Мамемамука 3 кт УМК «Школа 2100»



$$\bullet + \bullet = ?$$

5



Что может объединять эти числа?

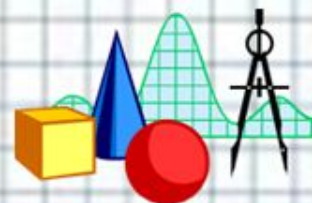
7, 12, 24, 30, 60, 365

5м, 15 см², 25кг, 35дм³, 45ч





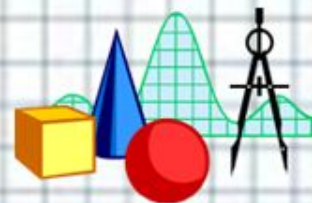
Летом 2014 года, в июле месяце я
ездил отдыхать на море. Поезд
ехал 3 дня . Море очень тёплое, я
купался 2 часа в день. 12 дней
я отдыхал у моря.





Работа в группе

Работая в группе,
будьте взаимовезливы!





Проверка:


1 век = 100 лет

1 мес. = 30 сут. или 31 сут.

1 час = 60 мин

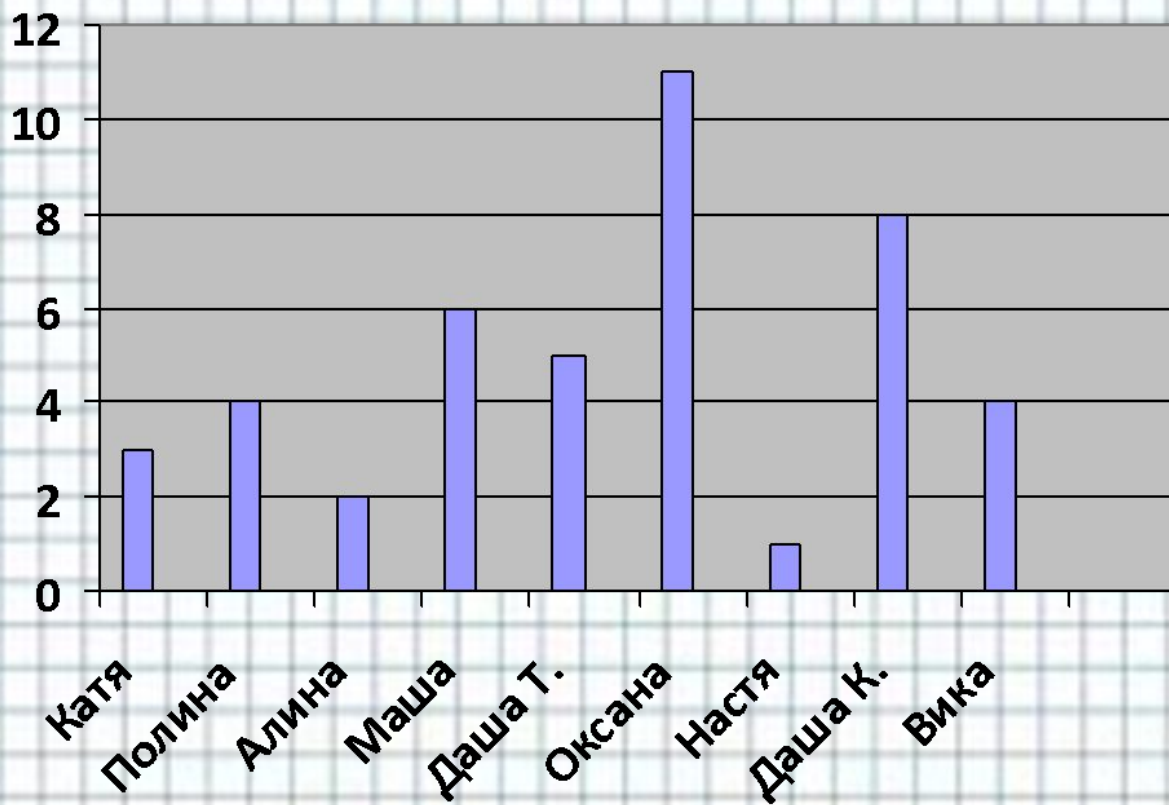
1 год = 12 мес.

1 мин = 60 с






Что можно узнать по диаграмме?



■ В каком месяце день рождения?





$$1 \text{ сут } 3 \text{ ч} = 27 \text{ ч}$$

$$2 \text{ ч } 10 \text{ мин} = 130 \text{ мин}$$

$$5 \text{ ч } 12 \text{ мин} = 312 \text{ мин}$$

$$10 \text{ мин} = 600 \text{ сек}$$



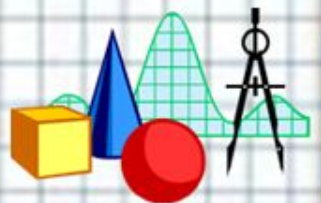


Задача

Почтальон выехал из д.Цветочек в д.Грибок в 8ч10мин утра и ехал 2ч. В д.Грибок он 30 мин был на почте и вернулся обратно, затратив на обратный путь такое же время. В котором часу почтальон прибыл обратно?

$$8ч10мин + 2ч + 30мин + 2ч = 12ч 40мин$$

Ответ:





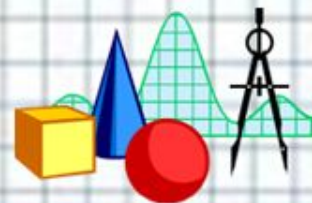

Проверь себя:

1) б

2) б

3) в

4) а





Делу - время, потехе - час.

