


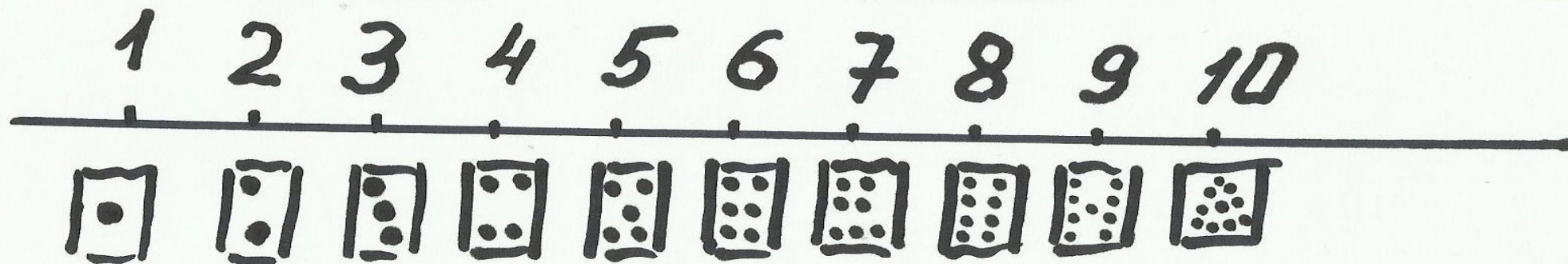
ТАИНСТВЕННЫЙ КОНВЕРТ.

4-3= 5-2= 4+1= 6+1= 5+1= 3+1= 3-1=

1 (В) 2 (Й) 3 (О) 4 (О) 5 (Д) 6 (Н) 7 (Я)




СЧЁТ ОТ 1 ДО 5



Первая строка


4 4 1 5



ФИЗМИНУТКА

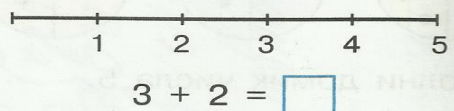
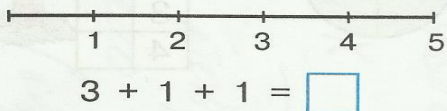


1. Разбей на группы по размеру и составь равенства. Подчеркни части и обведи в кружок целое.

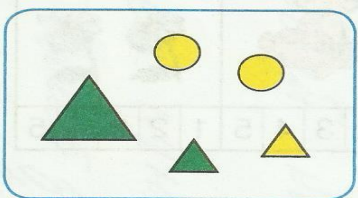


$Б + М = Ф$	$1 + 4 = 5$
$\square + \square = \square$	$\square + \square = \square$
$Ф - Б = \square$	$5 - 1 = \square$
$\square - \square = \square$	$\square - \square = \square$

2. Выполни действия с помощью числового отрезка.

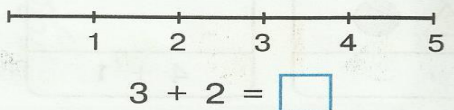
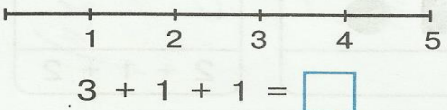


2. 1. Разбей на группы по форме и составь равенства. Подчеркни части и обведи в кружок целое.




$К + Т = Ф$	$2 + 3 = 5$
$\square + \square = \square$	$\square + \square = \square$
$Ф - К = \square$	$5 - 2 = \square$
$\square - \square = \square$	$\square - \square = \square$

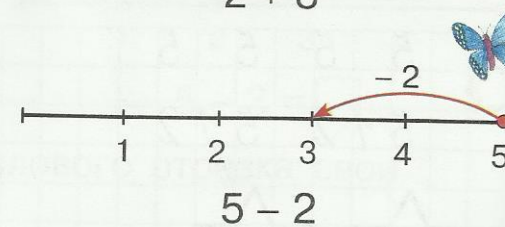
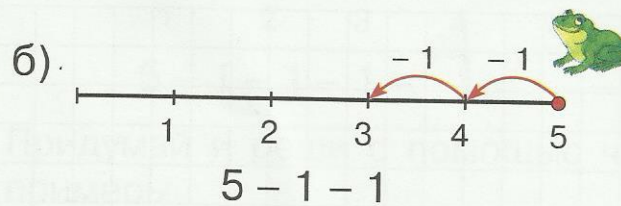
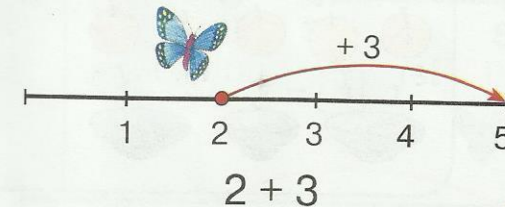
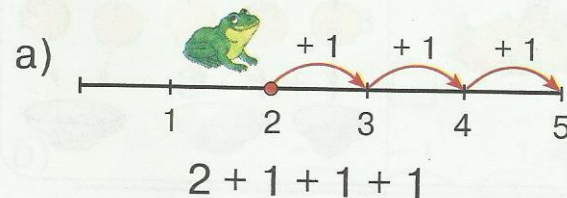
2. Выполни действия с помощью числового отрезка.



3* У Таниных цыплят 4 лапки. Сколько у Тани цыплят? Нарисуй их.



4. Как складывала и вычитала Лягушка? Как складывала и вычитала Бабочка? Сравни ответы. Как удобнее считать?



ИТОГ

