



Прозвенел и смолк звонок.
Начинается урок.
Вы на парты посмотрите —
Всё в порядок приведите.



**Сложение и вычитание
чисел от 1 до 10.**

$$x+9$$

$$x^2 - 4x^2$$

5, 3, 9, 7, 1, 8, 10



1 к 30 5л 70 86 90 10 к

Русская народная сказка

К



К

О

О


Л

О

Б


Задание

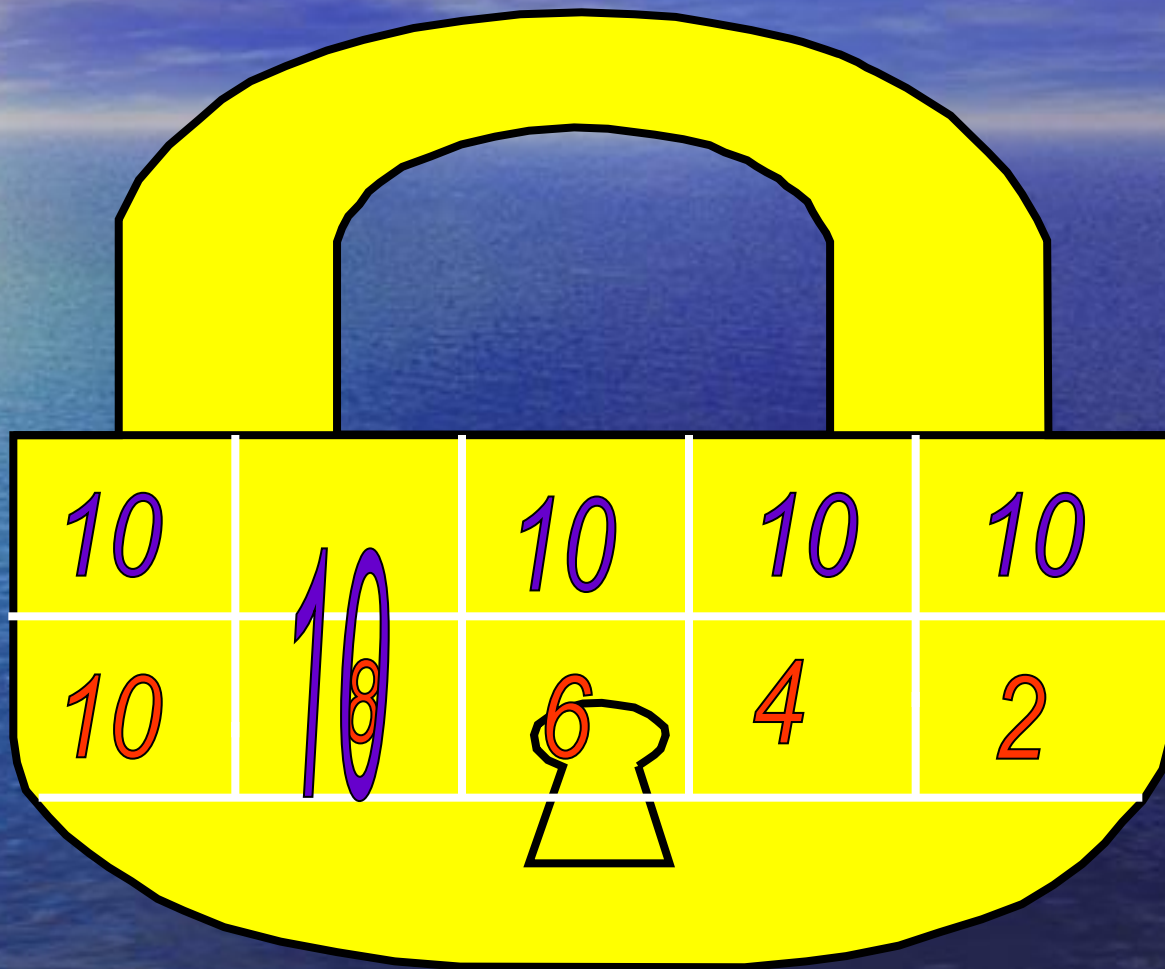
Перед вами выражения



$$10 - 2 =$$

$$5 + 5 =$$





10

10

10

10


10

10
8

6

4

2



А навстречу ему... Кто?

Любит морковку, Прыгает так ловко...



$$4+2=$$

5

6

7



$$7 - 4 =$$

5

4

3



$$3 + 4 =$$

6

8

7



$$8 - 2 =$$

5

6

7



Ф И З М И Н У Т К А





Самый лучший друг
Кто самый хороший
Его имя так звучит
Самый лучший друг



Задание

Найди ошибку.

~~а) $7 < 6 + 2$~~

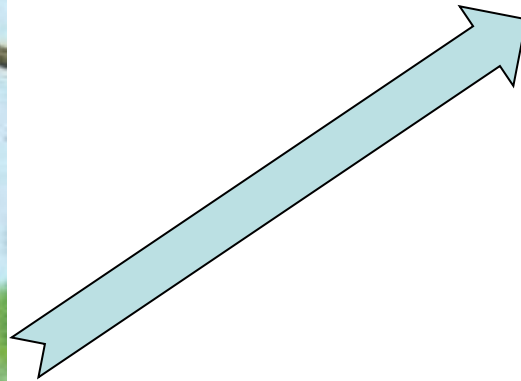
~~б) $2 + 5 < 7$~~


~~в) $5 + 3 < 8$~~





**В банку вмещается 3 л
мёда , а в ведро на 6 л
больше .Сколько литров
мёда в ведре?**





**Хитрая плутовка,
Рыжая головка,
Пушистый хвост-краса,
Кто же это?...**



финиш

$$9 - \square = 7$$

$$\square + 2 = 9$$

$$\square - 2 = 8$$

$$10 - \square = 10$$

$$\square + 3 = 3$$

$$10 -$$

$$\square = 7$$

$$5 + \square = 9$$

$$\square - 2 =$$

8

$$\square + 4 = 8$$

$$4 -$$

Старт

Реши
примеры
с
окошками



финиш

$$\square + 9 = 9$$

$$10 - \square = 6$$

$$10 + \square = 10$$

$$\square - 3 =$$


$$\square - 1 = 7$$

7

$$5 + \square = 8$$

$$3 + \square = 5$$


Старт



В *знаници* — *сила!*



МОЛОДЦЫ! СПАСИБИ КОЛОБКА!



*Спасибо за работу
на уроке!*

$$x+9$$

$$x^2 - 4x^2$$