



**Тема : «Числа от 1
до 10.Сложение и
вычитание.**

Математика, 1 класс



0 1 2 3 4 5 6 7 8 9 10

0	1	2	3	4	5	6	7	8	9	10
---	---	---	---	---	---	---	---	---	---	----

$10 - 2 = \square$

$0 + 1 = \square$

$10 - \square = 9$

$5 + 2 = \square$

$8 + \square = 10$

$2 - 2 = \square$

$6 + 1 = \square$

$\square - 2 = 6$



Условие задачи.

Вопрос задачи.

Решение задачи.

Ответ.

**В стакане 3 карандаша,
на столе ещё 2 карандаша.**


Сколько всего карандашей?

$$3 + 2 = 5$$

Ответ: 5 к.

Задача

- Было



- Стало на 1 больше.
- Сколько ... стало?

- Было




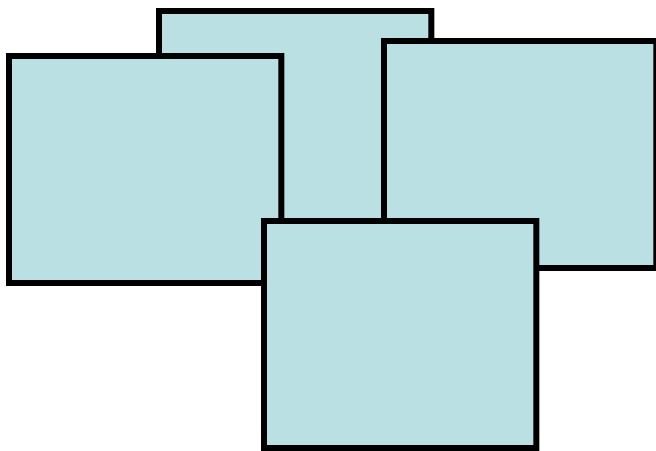
- Стало на 1 меньше.
- Сколько ... стало?

- У Люси было




- Стало на 2 больше. Сколько книг стало у Люси?

- **Сколько квадратов и кругов на картинке?**



Начерти 2 отрезка: один длиной 4 см,



А другой 5 см.



Сравни их длины.

Используемая литература, ЭОР

- 1. 1 класс УМК «Школа России»
Математика Моро М.И., Степанова С.В.,
Волкова С.И. Просвещение, 2011.
- 2.
<http://www.school-collection.edu.ru/catalog/rubr/233227e7-4ae8-4aff-bc9e-181c9a9ce25e/110997/?interface=pupil&class=42&subject=16>
- 3. http://gsvg.ucoz.ru/load/dizajn/kliparty/kliparty_shkolnye_prinadlezhnosti/59-1-0-275

