

Математика

2 «А» класс

**Тема: « Умножение числа 9 и деление на 9»
(закрепление)**

**Презентацию подготовила : учитель начальных
классов МАОУ « Первомайская СОШ»
Юрченко Ж.Е.**

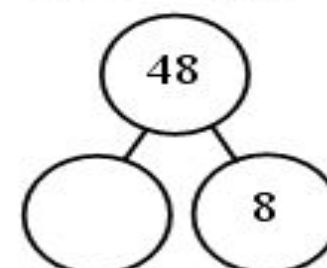
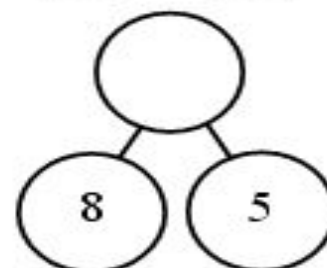
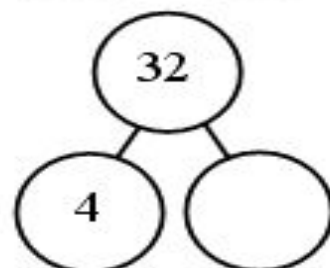
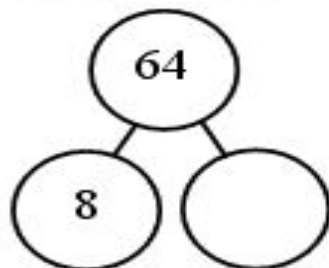
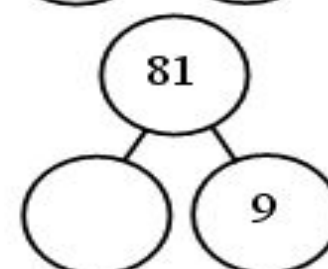
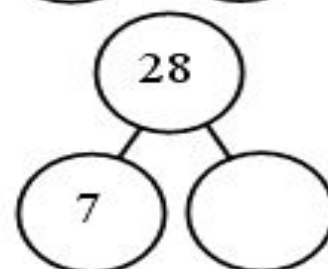
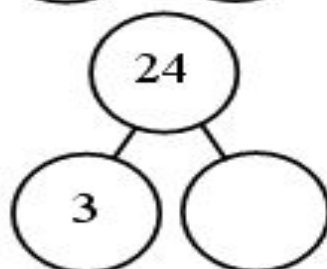
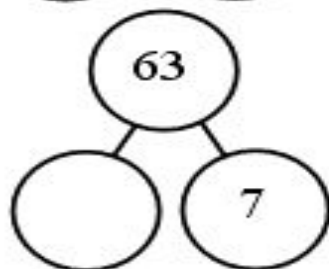
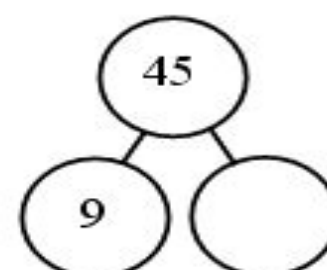
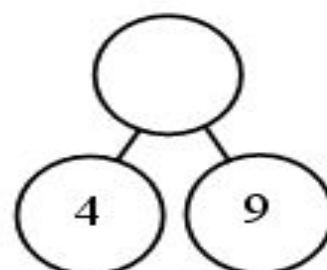
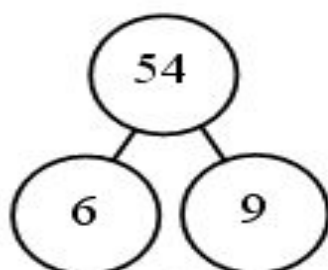
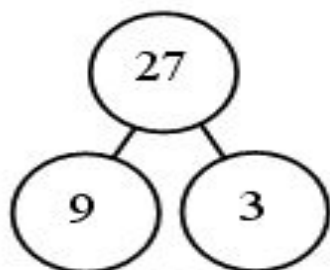
17 февраля

Классная работа

**Математика, друзья,
Абсолютно всем нужна.
На уроке работай старательно,
И успех тебя ждёт обязательно!**

Устный счёт

1. Догадайтесь, по какому правилу составлены схемы, вставьте числа в «ОКОШКИ».



2. Поставъте знаци «+» или «-».

$$69 \dots 40 \dots 8 = 21$$

$$75 \dots 5 \dots 30 = 40$$

$$20 \dots 6 \dots 2 = 24$$

$$8 \dots 2 \dots 47 = 57$$

$$17 \dots 70 \dots 2 = 89$$

$$31 \dots 60 \dots 7 = 98$$


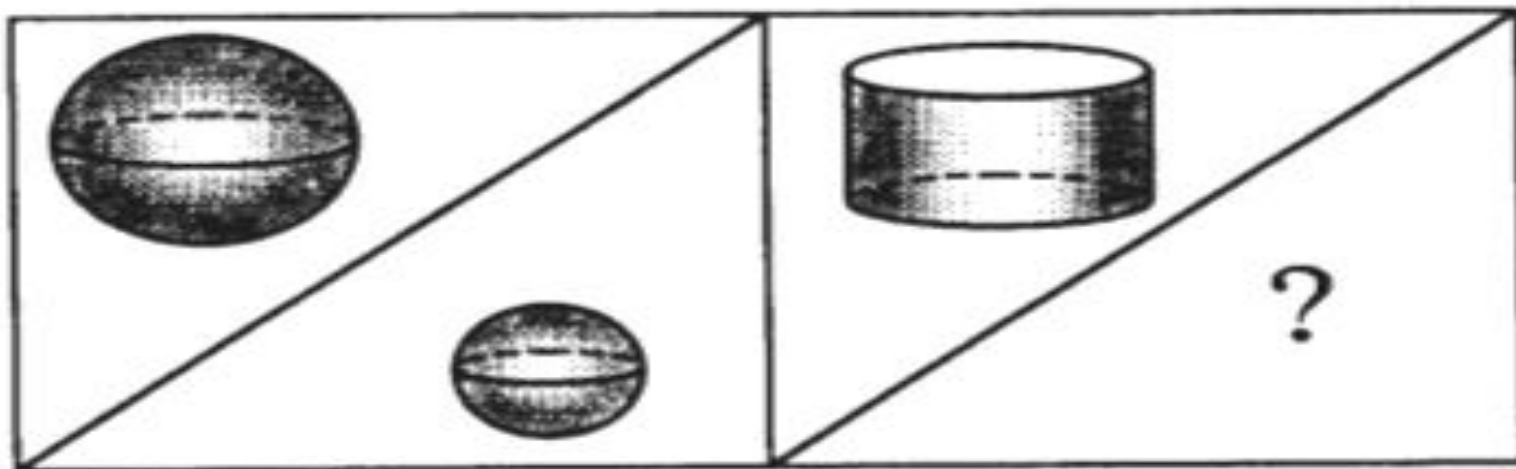
$$61 \dots 8 \dots 9 = 60$$

$$34 \dots 4 \dots 6 = 36$$

3. Задача.

За три дня рабочие отремонтировали **24** троллейбуса: в первый день **8** троллейбусов, во второй – **10**. Сколько троллейбусов они отремонтировали в третий день?

4. Выберите фигуру, которую нужно нарисовать



**Рассмотрите, как составлены столбики
примеров на доске.**

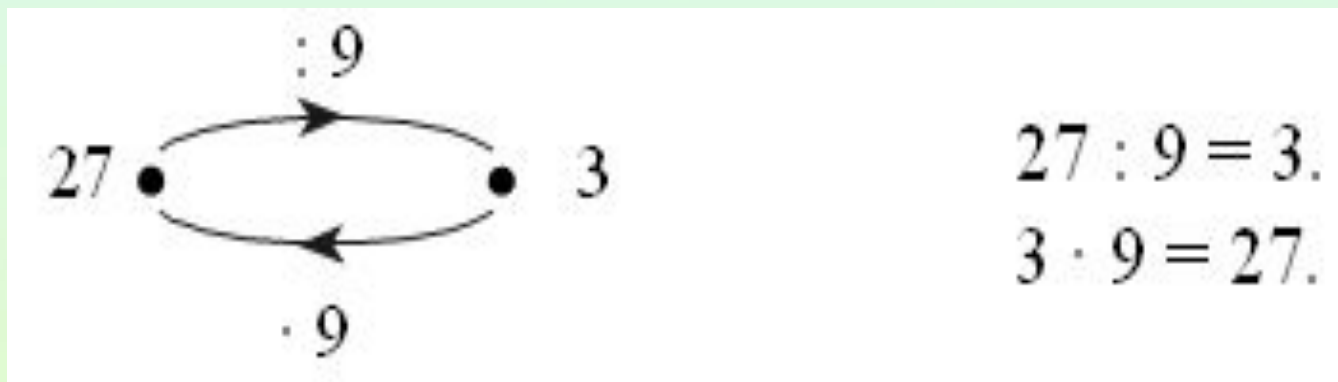
$$18 : 2 = \square$$

$$18 : 3 = \square$$

$$18 : 6 = \square$$

$$18 : \square = 2$$

Задание № 12





Задание № 15

В 1 стакане	Количество стаканов	Всего кусочков
? кус	9 стаканов	18 кусков

**Окончен урок, и выполнен план.
Спасибо, ребята, огромное вам.
За то, что упорно и дружно трудились,
И знания точно уж вам пригодились**

Рефлексия урока



автора шаблона:

Ранько Елена Алексеевна
учитель начальных классов
МАОУ лицей №21 г. Иванова

