



**КОТ
МАТРОСКИН**

ПРОСТОКВАШИННО



Дорогие ребята!
Приглашаю вас к себе в гости. Чтоб дорога до моего дома была интересней, я приготовил для вас специальные конверты. Момент, когда их надо открыть вы определите сами.

В надежде на скорую встречу, Матроскин.




АВТОБУСНАЯ СТАНЦИЯ



Download from
Dreamstime.com

1201482
Marco Goldsway | Dreamstime.com



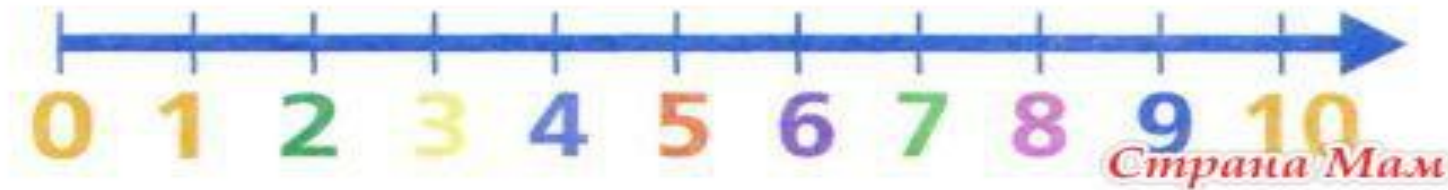
НАЗОВИТЕ ЧИСЛА :

следующие для чисел 12, 16, 19, 10

предыдущие для чисел 14, 20, 18, 11

13 17 20 11


13 19 17 10



АВТОБУС № 1



Станция ПРОСТОКВАШИНО



РЕЧКА БЕЗ МОСТА



**ВСТАВЬТЕ ВМЕСТО * ЗНАК + ИЛИ - ТАК, ЧТОБЫ
ПОЛУЧИЛИСЬ ВЕРНЫЕ РАВЕНСТВА**

1	5	*	5	=	1	0				1	8	*	1	=	1	7
1	0	*	5	=	1	5				1	6	*	1	=	1	7

Будь аккуратен и
внимателен!!!



МОЛОДЦЫ!



КАКУЮ ДОРОГУ ВЫБРАТЬ?



РЕШИТЕ УРАВНЕНИЯ С ПРОВЕРКОЙ

$$x + 10 = 1$$

2

$$y - 1 = 14$$

$$17 + x = 1$$

8



ПРОВЕРЬ СЕБЯ!

$$X+10=12$$

$$X=12-10$$

$$X=2$$

$$2+10=12$$

$$12=12$$

$$y-1=14$$

$$y=14+1$$

$$y=15$$

$$15-1=14$$

$$14=14$$

$$17+X=1$$

$$8$$

$$X=18-17$$

$$X=1$$

$$17+1=18$$


$$18=18$$



ВАМ НАЛЕВО!




ДЕРЕВНЯ ПРОСТОКВАШИНО



ЗАДАЧА


В первом букете 3 цветка, во втором-4 цветка, в третьем столько же, сколько в первом. Сколько всего цветков в трех букетах?




www.lesyadraw.ru



ДЕРЕВНЯ ПРОСТОКВАШИНО



ДОМ № 7




№ 7

Матроскин начертил отрезок АБ длиной 1 дм 4 см. Начертите отрезок ВГ, который длиннее отрезка АБ на 1 см.



ПРАВИЛЬНО!!!



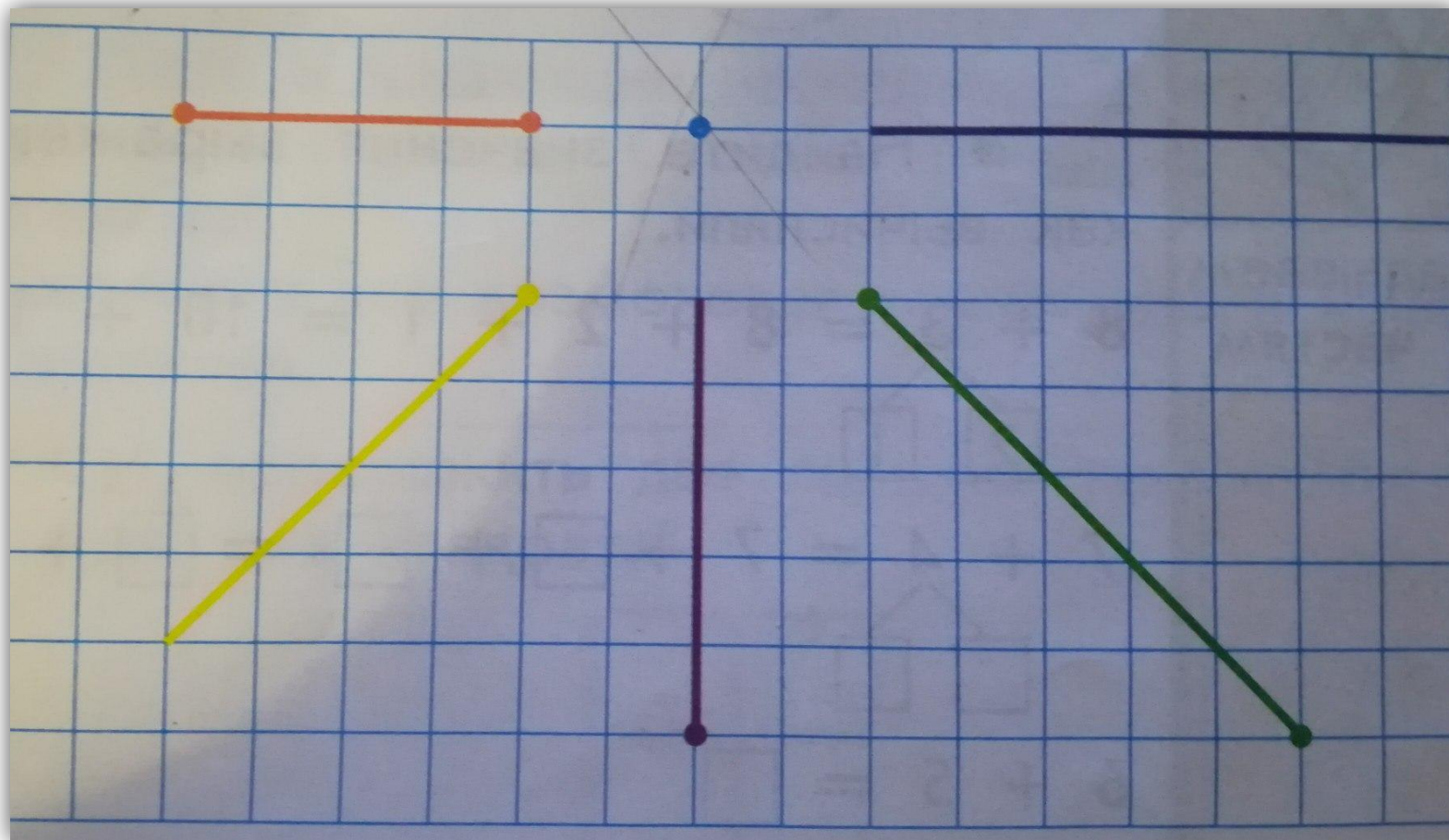
ДОБРО ПОЖАЛОВАТЬ!




ПОТЕРЯ



НАЗОВИТЕ ИЗОБРАЖЕННЫЕ НА РИСУНКЕ ФИГУРЫ



НАХОДКА



ОКОНЧЕН УРОК, И ВЫПОЛНЕН ПЛАН.
СПАСИБО, РЕБЯТА, ОГРОМНОЕ ВАМ!
ЗА ТО, ЧТО УПОРНО И ДРУЖНО ТРУДИЛИСЬ,
И ЗНАНИЯ ТОЧНО УЖ ВАМ ПРИГОДИЛИСЬ!

СПАСИБО

GIFRU

ЗА ВНИМАНИЕ!!!

