

**ОЗНАКОМЛЕНИЕ С
ЗАДАЧЕЙ
В 2 ДЕЙСТВИЯ
1 КЛАСС
УМК «ШКОЛА РОССИИ»**

**КАШАПОВА З.С.
УЧИТЕЛЬ НАЧАЛЬНЫХ КЛАССОВ**

- Мы умные, мы дружные
Мы - внимательные,
Мы – старательные.
Мы в первом классе учимся
И всё у нас получится!

- Назовите числа в порядке их
увеличения:

17, 10, 5, 15, 2, 20, 8

- На какие две группы можно
распределить эти числа?

Проверка:

2, 5, 8, 10, 15, 17, 20

-Найди лишнее число

5

8

16

6



14
рублей



16
рублей







18
рублей

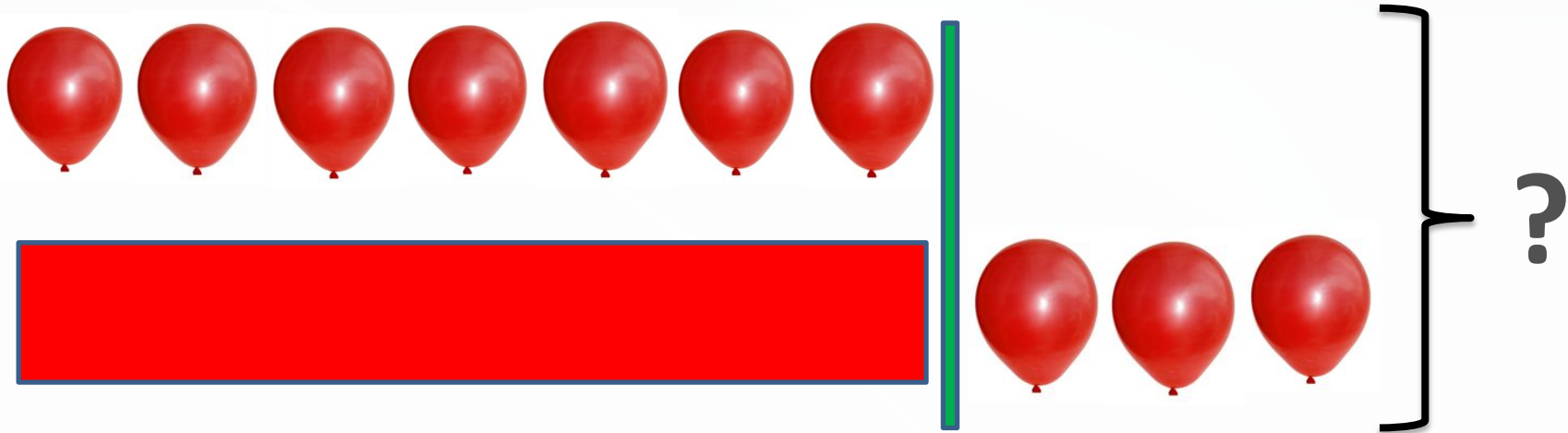


ЗАДАЧ

А
На лесной полянке
выросли четыре
маленькие и одна
большая незабудка.
Сколько незабудок
выросло на лесной
поляне?

На лесной полянке
выросли четыре
маленькие и одна
большая незабудка.
Красивые были
цветы?





НА ПЕРВОЙ ПРОВОЛОКЕ 7 ШАРИКОВ, А НА ВТОРОЙ – НА 3 ШАРИКА БОЛЬШЕ.

СКОЛЬКО ВСЕГО ШАРИКОВ НА ДВУХ ПОЛКАХ?

План решения:

- 1) Сначала надо узнать, сколько шариков на второй проволоке.
- 2) Потом можно узнать, сколько шариков на двух проволоках.

Решение:

1) $7+3=10$ (ш.)-на второй проволоке

2) $7+10=17$ (ш.)-всего

- **Ответ:** всего 17 шариков