



СВЕТ

доброта

тепло

Отгадайте ребус и узнайте тему урока




ЗАДАЧА



4





10



5





6

3



Проверьте!

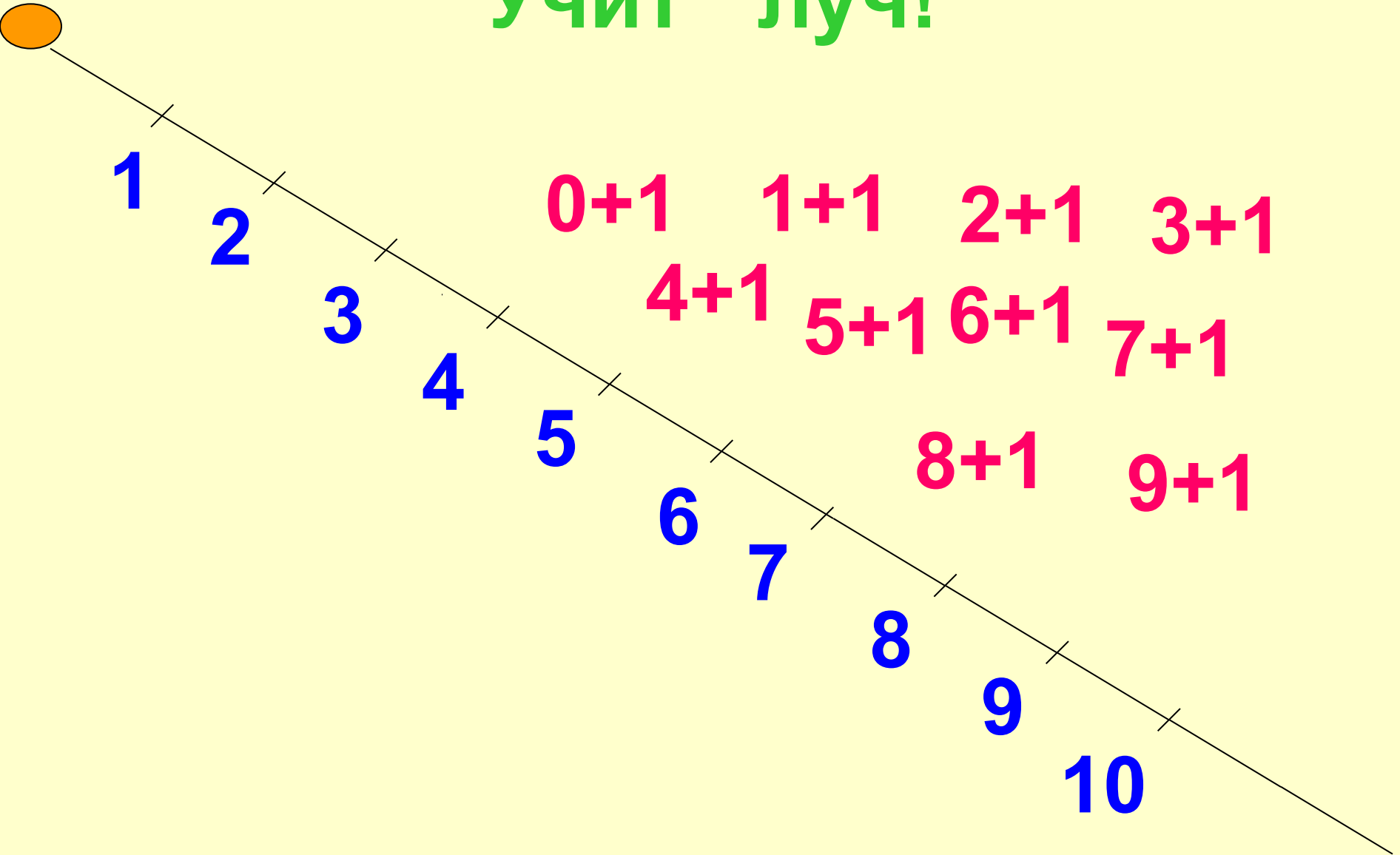
•4 10 5 6 3

•3 4 5 6 10

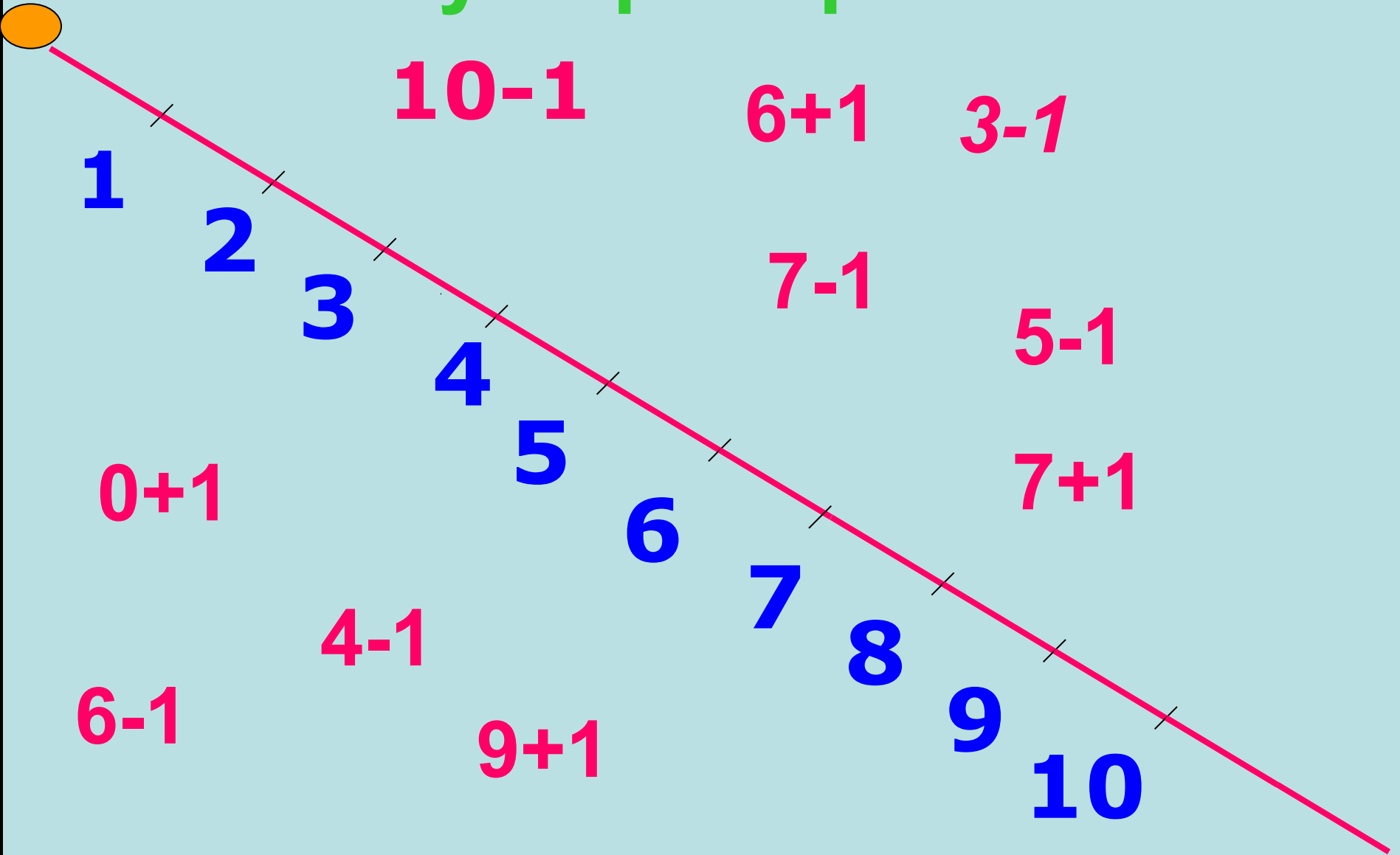
**Что отсутствует у нашего
солнышка, а в математике учит**



Учит луч!



Луч проверяет!






Вечером было 3 горшочка с медом,
а утром – ни одного.
Где бы подкрепиться?



Кто в теремочке живет?



У меня 5 яблок.
Я дал Пьеро 2 яблока.
Сколько яблок у меня осталось?



**Мама принесла 5 конфет.
2 конфеты отдала детям.**



На тарелке лежало 6 пирожков.

2 пирожка съели.



Сколько пирожков осталось?



Вопрос



Решение



Ответ



Условие



Условие



Вопрос



Решение



Ответ

Самостоятельная работа

ВАРИАНТ 1.

- $3+1=$ $9+1=$
- $6-1=$ $7-1=$
- $5+1=$ $1+0=$
- $8-1=$ $1-1=$



ВАРИАНТ 2.

- $2-1=$ $8+1=$
- $4+1=$ $5-1=$
- $9-1=$ $6+1=$
- $0+1=$ $3-3=$

САМОПРОВЕРКА самостоятельной работы.

• *ВАРИАНТ 1.*

- $3+1=4$

- $6-1=5$

- $5+1=6$

- $8-1=7$

- $9+1=10$

- $7-1=6$

- $1+0=1$

- $1-1=0$

САМОПРОВЕРКА самостоятельной работы

• *Вариант 2.*

- $2-1=1$
- $4+1=5$
- $9-1=8$
- $0+1=1$
- $8+1=9$
- $5-1=4$
- $6+1=7$
- $3-3=0$

